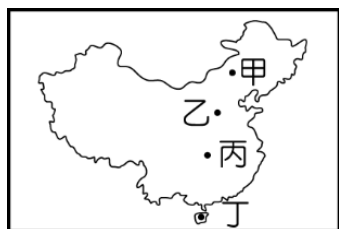


明正國中 114 學年度第 1 學期 社會領域 八年級 補考題庫

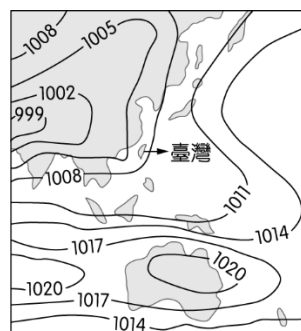
【地理科】

1. (C) 中國東部地區受到距海較近的影響，降水量較為豐富，成為典型的季風氣候區。請問：附表中的氣候類型主要分布於圖(一)中的哪一個地點？(A)甲 (B)乙 (C)丙 (D)丁。

月分	1月	2月	3月	4月	5月	6月	7月	8月	9月	10月	11月	12月
月均溫(°C)	15	15.5	17.5	22	25.6	27	29.5	27.5	27	22.5	20.5	18
降水量(mm)	45	80	83	98	220	357	221	325	152	14	18	22



▲圖(一)

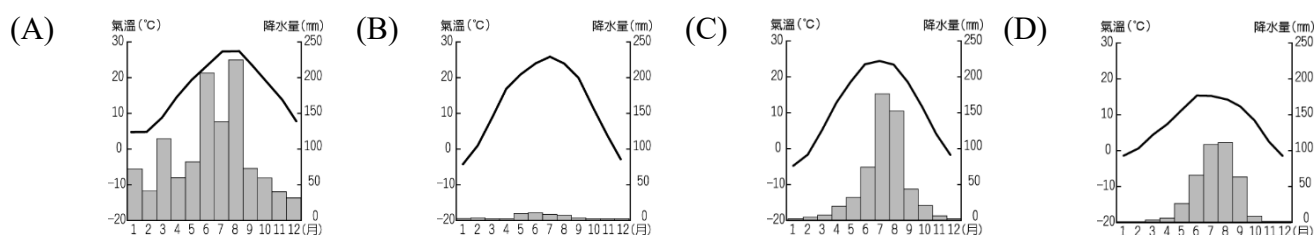


▲圖(二)

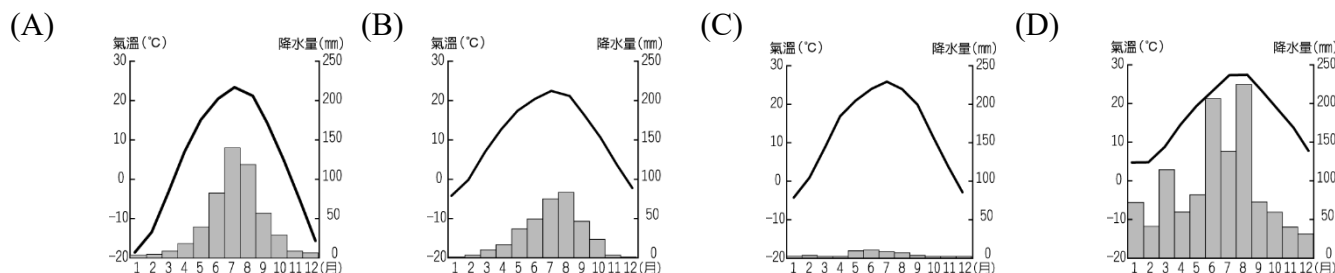
2. (D) 中國的氣候受到海陸性質的影響，形成季節性的差異。圖(二)為某時間的地面天氣圖。請問：此時北京盛行的風向性質為何？(A)西北風；乾燥氣流 (B)東南風；乾燥氣流 (C)西南風；溼潤氣流 (D)東南風；溼潤氣流。
3. (D) 王同學想要到中國遊學，尋找了當地的氣候資料，如附表所示，請根據表中資料加以判斷，當地的氣候類型應該為何？
(A)高地氣候 (B)溫帶草原氣候 (C)熱帶季風氣候 (D)溫帶季風氣候。

月分	1月	2月	3月	4月	5月	6月	7月	8月	9月	10月	11月	12月
月均溫(°C)	-3.7	-0.7	5.8	14.2	19.9	24.4	26.2	24.8	20.0	13.1	4.6	-1.5
降水量(mm)	3	5	8	21	34	78	185	160	46	22	7	3

4. (C) 中國境內的糧食作物生產，受到氣候條件的影響，南北地區各不相同。其中最有利於機械化生產的小麥，主要分布於下列哪一種氣候區內？



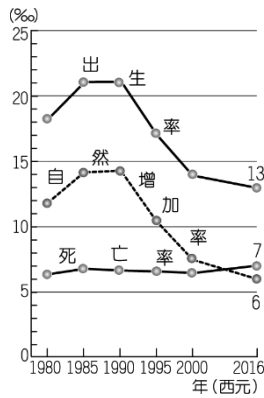
5. (C) 中國境內的人口分布受到自然環境的影響，綠洲為人口稠密的地區，主要分布於何種氣候區？



6. (C) 日本積極向海洋發展的主要因素為土地資源缺乏。請問：日本土地資源不足的眾多原因中，和下列何者的關係最小？(A)人口數量多 (B)地形崎嶇 (C)南北狹長 (D)人口密度高。
7. (D) 南韓的影視產品在亞洲掀起一陣韓流熱潮，相關的娛樂產品在亞洲國家大賣。請問：對於下列何項產業的助益最大？(A)電子業 (B)資訊業 (C)農牧業 (D)觀光業。
8. (D) 來自中國的霧霾微塵顆粒密集，隨著風向漂洋過海來到朝鮮半島，包括南韓最西北的白翎島，以及首爾京畿道地區都被霧霾淹沒。預估這種情況今後會更加頻繁。請問：中國的霧霾是橫渡哪一

個海域而到達朝鮮半島？(A)日本海 (B)印度洋 (C)太平洋 (D)黃海。

9. (B) 中國的外來移入人口不多，因此人口變化主要為國內內部的變化為主。請由圖(三)中的資料加以判斷，該國在 2016 年增加的總人口數量大約為何？
(A)8400 萬 (B)840 萬 (C)1.4 億 (D)1600 萬。
10. (D) 內蒙古治區運用科技化的方式管理牛隻如圖(四)，可以完善乳品殺菌到包裝成品的過程，延長乳製品的保存期限，克服了傳統酪農業需要的何種區位條件？
(A)原料 (B)交通 (C)勞力 (D)市場。
11. (D) 1980 年代中國在華南沿海設立經濟特區後，開啟該國經濟發展的序幕。請問：圖(五)中哪一個地區由於春節時大量外地勞工由經濟特區返鄉，因此出現爆滿的人潮？
(A)① (B)② (C)③ (D)④。



▲圖(三)



▲圖(四)



▲圖(五)

12. (B) 小明在報告中指出：「中國境內的工商業發展已超過農業，成為最主要的經濟活動。」請問：上述小明的說法可能是依據下列哪一項資料所做的判斷？
(A)發展時間 (B)就業人口 (C)利用面積 (D)產業產值。
13. (B) 根據圖(六)，此火車代表是由中國哪一省份通往歐洲？
(A)山西省 (B)陝西省 (C)山東省 (D)北京市。
14. (B) 根據圖(七)兩張照片判斷，可以發現中國現在以何種產業為主？
(A)輕工業 (B)重工業 (C)生化科技 (D)奈米科技。



▲圖(六)



▲圖(七)

15. (B) 日本政府 2008 年推出的留學生 30 萬人計畫，其目的是為了吸引各國的頂尖學生成為日本的重要高度人才，實際的情況卻是留學生成了「學工」，在便利商店或餐飲業等服務業都可以看到外國留學生的身影，為了學費每天超時工作，但當局對黑工一事視而不見。日本放任這種狀況的原因與下列敘述何者相同？(A)工廠移至東南亞國家 (B)超商推出無人店服務 (C)開發老人照護新產業 (D)港口多進口工業原料。

【歷史科】

1. (B) 阿立是生活在晚清時期租界區的人力車夫，他所在的城市夜晚有不會燙的電火照明，妻子受雇的人家也有自來水系統。阿立最有可能居住在下列哪一個城市？
(A)西安 (B)上海 (C)太原 (D)北京。
2. (C) 日本以島國之姿，在 19 世紀後期急起直追西方列強，在與中國的一場戰役中，日本擊敗了中國，成為世人所公認的亞洲強國，之後更進一步擊敗俄羅斯，成為世界強國。上述與中國的戰爭，所指為何？
(A)牡丹社事件 (B)八國聯軍 (C)甲午戰爭 (D)八年抗戰。
3. (A) 史學家黃仁宇曾說：「秦始皇統一六國後，六國王室和貴族全部被廢，全國畫為三十六郡，每一

- 個郡有守、尉和監。」秦始皇實施上述措施造成下列何種結果？
- (A)確立中央集權的政治制度 (B)有助於各地文化交流與經濟發展 (C)防禦北方外患匈奴的入侵 (D)學術自由受到嚴重打擊。
4. (B) 明末來華的□□，大多擁有先進的科學知識，他們帶來了大量的科技書籍，包括近代天文、數學、物理、機械工程、地理、火炮製造等。這些有益於實用的科學知識，卻引起朝野的震動，產生了兩種截然不同的反應。上述□□身分為下列何者？
- (A)日本海盜 (B)耶穌會傳教士 (C)穆斯林 (D)荷蘭人。
5. (C) 「封建親戚，以藩屏周」是指西周時逐步將親戚、功臣分封各地，成為護衛王室的責任；從天子分封諸侯，再由諸侯分封卿大夫，由上而下逐步的擴張。上述這種身分階級關係建立的基礎為下列何者？
- (A)郡縣制度 (B)用人唯才 (C)宗法血緣 (D)部落聯盟。
6. (D) 元代以草原民族統一中國建立王朝，在選才任官制度上，沿襲前朝宋代以科舉取士，但只考一科，並指定書籍為考試定本，該書籍為何？
- (A)《滿江紅》 (B)《出獵圖》 (C)《回回藥本》 (D)《四書集注》。
7. (D) 玉玲參加一場演講會，發表的演講內容有「鄭和出使西洋」、「蒙古西征」等題目。由此推斷，這次演講的主題最可能是下列哪一項？
- (A)科技發明與文明變遷 (B)中外文學的傳承與發揚 (C)歷史洪流下的革新變法 (D)中國與西方的文化交流。
8. (A) 19世紀中期，清帝國在鴉片戰爭後，天朝體制遭到前所未有的衝擊，逐漸崩潰。根據判斷，其主要原因可能為何？
- (A)中英簽署條約，經濟、司法自主權受到壓迫 (B)西方國家獲得冊封，壓縮亞洲各國貿易空間 (C)傳教士將基督教引入中國，中國放棄儒家思想 (D)歐洲人希望清帝國設立通商限制，優待歐洲人。
9. (A) 根據史書記載，中國曾經有位皇帝具備知人善用、容納直諫的美德，在他在位期間，擊敗東突厥，獲得「天可汗」稱號。上述這位皇帝是下列何者？
- (A)唐太宗 (B)北魏孝文帝 (C)漢武帝 (D)秦始皇。
10. (C) 日本橫須賀市內有一座培里公園，裡面的「培里紀念館」，紀念1853年，美國海軍提督馬休·培里登陸日本，成為日本放棄鎖國政策、正式開放外交的契機。在館內展示重現當年歷史場景的造景模型、描繪登陸前夕景象的畫軸。此紀念館的成立，與當年美國發動哪一事件促使日本走向現代化有關？
- (A)英法聯軍 (B)甲午戰爭 (C)黑船事件 (D)牡丹社事件。
11. (B) 清代自強運動時期，這個機構按照負責的事務，分成英國股、法國股、俄國股、美國股和海防股，並設有海關總稅務司署、同文館、清檔房、司務廳、電報處及銀庫等各個附屬機構，辦理外交、通商、海防、軍務、關稅等與洋務有關事宜。這個機構應該為下列何者？
- (A)郊 (B)總理各國事務衙門 (C)驛站 (D)市舶司。
12. (A) 小芝是生活在清末的上海市民，她利用假日從事休閒活動。下列哪些活動是她可以選擇的？(甲)到咖啡廳去喝咖啡(乙)去卡拉OK唱歌(丙)到歌劇院去聽歌劇(丁)到戲院去欣賞電影(戊)用手機聆聽音樂
- (A)甲丙丁 (B)乙丁戊 (C)丙丁戊 (D)甲乙戊。
13. (D) 以下是一位學者對於中國歷史上某次政治改革所做的評論：「憲法由資政院起草議決，皇帝頒布；修正權屬於國會；皇帝權力以憲法規定者為限。上述這些規定雖限制了部分皇權，卻仍然強調皇帝神聖不可侵犯，對於人民的民主權利隻字未提。」根據內容判斷，上述政治改革最可能是下列何者？
- (A)東周的商鞅變法 (B)漢代的薦舉制度 (C)宋朝的澶淵之盟 (D)清朝的立憲運動。
14. (C) 「北宋末年，位於東北的外族領袖稱帝，此外族曾與北宋聯盟，後又於宋欽宗靖康2年揮兵南下，攻陷汴京，擄走皇帝，造成北宋滅亡。」這件事在歷史上被稱為下列何者？
- (A)永嘉之禍 (B)澶淵之盟 (C)靖康之禍 (D)霧社事件。
15. (B) 同學們在討論歷史上某一制度，根據下列同學們討論的內容判斷，這個制度應該為何？
- 小遙：「明代與清初時，當時民間的海外貿易幾乎停頓，只剩下藩屬鄰邦對中國的進貢。」

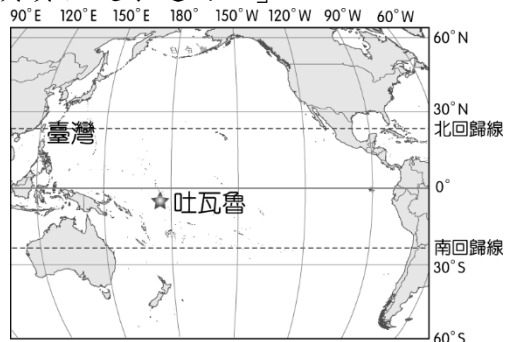
真琴：「外國必須接受中國的冊封，才能藉進貢的名義與中國進行貿易。」
- (A)市舶司制度 (B)朝貢貿易 (C)坊市制度 (D)海禁政策。

【公民科】

1. (D) 蘭嶼護理師蔡邑敏2018年2月協助患者後送任務，搭黑鷹救護直升機墜海身亡。官員解釋本案符合「執行職務發生意外或危險以致死亡」的因公撫卹類型，但要請領最高等級的「冒險犯難」因公撫卹，就需要更謹慎的認定，此話一出，引發社會批評。被社會批評的機關為下列何

- 者？ (A)教育部 (B)考選部 (C)審計部 (D)銓敘部。
2. (C) 政府為因應失業問題，除了提供失業給付外，更積極協助失業者參與職業訓練，提供就業資訊，以增加他們就業的機會。上述政府的作為保障了人民的哪項基本權利？
(A)財產權 (B)平等權 (C)工作權 (D)自由權。
3. (C) 根據以下文章內容，下列何者解讀正確？

吐瓦魯是位在南太平洋的島國，總人口數 1 萬 1,000 多人，近 6 成居民都居住在首都富納提，近年來，由於氣候暖化，海平面不斷上升，根據預測，2050 年富納提將有一半的土地遭海水淹沒。雖然已有 15 國與吐瓦魯簽署協定，同意吐瓦魯的國界不會因海平面上升而改變，但面對海平面上升危機，吐瓦魯總理在聯合國大會強調：「儘管承受氣候變遷的影響，我國在聯合國及其機構的會員資格是永遠的。」



- (A)海平面上升不影響人民的生活 (B)政府若遷都，將影響國際地位 (C)吐瓦魯仍是個主權完整的國家 (D)世界各國都同意該國領土不變。
4. (B) 志傑在查詢選舉原則時，看到附圖的一段文字敘述。根據圖中的敘述，這段文字在說明哪項選舉原則？

基於國民主權原理，具有國籍的公民均應享有選舉權。在此原則支配下，不得以階級、宗教、財產等因素限制人民選舉權，但是基於人民意志的表達，而限制年齡的選舉權，仍被允許。

- (A)平等原則 (B)普通原則 (C)直接原則 (D)秘密原則。
5. (D) 2024 年底聯合國大會表決通過決議案，呼籲以色列從所占領的巴勒斯坦領土撤軍，並推動巴勒斯坦建國。挪威、愛爾蘭和西班牙政府都宣布將正式承認巴勒斯坦的國家地位；對此，以色列政府宣布召回駐挪威和愛爾蘭大使。上述內容所涉及的國家組成要素，下列說明何者正確？
(A)以色列支持巴勒斯坦獨立建國 (B)以色列可影響西班牙主權的運作 (C)挪威和愛爾蘭並非主權獨立國家 (D)聯合國大會支持巴勒斯坦主權獨立。
6. (D) 西方有句法諺：「有權利，必有救濟。」在我國《憲法》第 16 條規定：「人民有請願、訴願及訴訟的權利」，即所謂的救濟權。下列關於救濟權的敘述，何者正確？
(A)請願是人民針對政府違法或不當的行政處分提起救濟 (B)訴願是指人民對於政策或利益，向主管機關或民意機關陳述願望 (C)請願、訴願與訴訟都是經由法院尋求救濟，希望變更不當的政策或處分 (D)訴訟是人民認為權利遭受不法侵害時，可以請求法院判決，以排除侵害或獲得賠償。
7. (D) 2017 年由土耳其總統主導的修憲公投通過，總統不再只有象徵性政治權力，而是握有實質行政權，且總統可以不用經過國會批准發布法令，並有權力解散國會。憲法法院雖然可以審判總統，但 15 席最高法院大法官中有 12 人是由總統任命。有關土耳其修憲後的制度，下列敘述何者正確？
(A)土耳其透過分權制衡的方式落實有限政府 (B)土耳其憲法畫分政府的權力，使權力受限 (C)總統雖然權力集中，大法官仍可防止其濫權 (D)總統權力缺乏監督，恐使人權無法受到完整保障。
8. (D) 行政院會為了籌組運動部，2024 年 10 月 17 日通過《運動部組織法》等草案，送立法院審議。立法院則於 2025 年 1 月 7 日三讀通過「行政院組織法第 3 條修正案」，增設運動部，並三讀通過《運動部組織法》，明定運動部掌理「國家運動政策與法規之研擬、規畫、推動、管理及監督」等十大事項，以辦理全國運動業務、推動全民運動。根據上述內容判斷，下列敘述何者正確？
(A)行政院通過《運動部組織法》草案後，即交由總統公布 (B)運動部是行政院下轄機關，成立不受到立法院監督 (C)增設運動部是為推動全民運動，故由總統提出法案 (D)「國家運動政策」的推動過程必須受到立法院監督。
9. (B) 下列是家淇在課堂報告舉例說明某一概念時的部分內容，根據內容判斷，這應該是在探討《憲法》中的哪項人民基本權利？

★瑋均加入職業工會，並參與街頭遊行，以實際行動捍衛自己的權利。

★立倫關心政治議題，經常在社群網路發表對於公共政策的看法。

- (A)參政權 (B)自由權 (C)請願權 (D)訴願權。
10. (C) 某市的市議會議長在會議中提到，議會要求市政府團隊積極推動捷運建設工程，確保如期如質完成，並提出鐵路地下化規畫，以改善城市交通及樣貌。針對上文內容的相關敘述，下列何者正確？
(A)該市應該是縣轄市，負責執行上級委辦事項 (B)市議會屬於地方行政機關，負有監督之責任 (C)市政府負責推動地方事務，並受到市議會監督 (D)議會要求積極推動的工程，屬於安全衛生事項。
11. (B) 我國已邁入高齡社會，為因應未來龐大的長照需求並減輕家庭照顧的負擔，政府自 2017 年起推動「長期照顧十年計畫 2.0」，長照預算從 2016 年近 50 億元增加至 2024 年超過 800 億元。根據上述內容判斷，下列敘述何者正確？
(A)長照計畫 2.0 攸關國家安全，應該是由總統負責執行 (B)長照計畫 2.0 屬於國家政策，應是由行政院負責執行 (C)長照預算須經由監察院審查通過，再交由行政院執行 (D)長照預算須經由立法院審查通過，再交由監察院執行。
12. (D) 怡如在網路上看到網友分享的投票懶人包圖片，圖中的「投票注意」，是提醒投票人要遵守選舉的哪項原則？



- (A)平等原則 (B)直接原則 (C)普通原則 (D)無記名原則。
13. (D) 日本因為地殼不穩定，飽受地震威脅，加上近年洪災增加，因此政府在防災基礎建設上投入巨額經費。從以上敘述判斷，日本政府在執行國家的何種目的？
(A)制定法律保障人權 (B)協助人民發展經濟 (C)保衛國民不受外來侵略 (D)維護人民的生命財產安全。
14. (D) 2013 年，中國提出「一帶一路」政策。至 2019 年 8 月，已有 136 國與其簽署合作文件。澳洲試圖反制中國在太平洋地區的影響力，而未加入此行列，但澳洲國內的州政府卻避開中央政府，私自與中國簽署參與「一帶一路」的諒解備忘錄，澳洲總理對此舉加以批評。請由上述例子判斷，下列何者為中央政府的職權？
(A)辦理社會救助 (B)舉辦藝文活動 (C)修建橋梁道路 (D)與他國簽署條約。
15. (D) 2020 年中，南韓政府因為政治醜聞、治水不力、抑制房價政策失敗，加上宣布將捐款給北韓，以支撐其糧食計畫，而引起民怨。為此，多名政府官員集體請辭。此官員請辭的舉動，反映哪項民主政治的特點？
(A)民意政治 (B)法治政治 (C)政黨政治 (D)責任政治。