

明正國中 114 學年度第 1 學期 社會領域 七年級 補考題庫

【地理科】

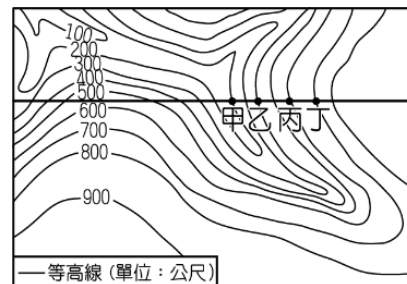
- (D) 圖(一)是一張未標示方向的簡易地圖，路名如圖所示，圖中的十字路口有甲、乙、丙、丁四個公車站，所有的公車皆靠右直行，已知阿虎坐公車向東行，在青松路甲公車站處下車，他打算到梅花路的北端去拜訪朋友。請問：阿虎要到哪一公車站轉車才正確？
(A) 甲站 (B) 乙站 (C) 丙站 (D) 丁站。
- (D) 圖(二)為南半球的示意圖，若依圖中經緯度判斷，乙地位於甲地的哪一方向？
(A) 東方 (B) 西方 (C) 南方 (D) 北方。









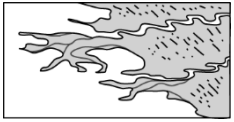
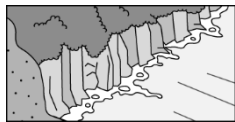
▲圖(一)



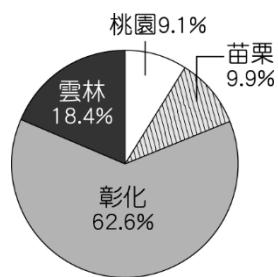
▲圖(二)



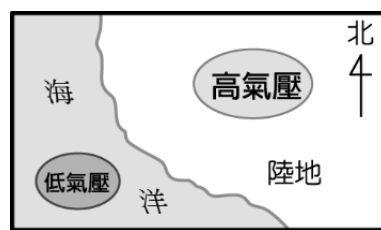
▲圖(三)

- (D) 圖(三)為某地區的等高線地形圖，若駕駛直升機從空中往地表拍攝，其飛行高度維持在 1,000 公尺，在通過哪一點的上空時，距離地表最近，所拍到的景物最清楚？
(A) 甲 (B) 乙 (C) 丙 (D) 丁。
- (A) 當英國倫敦（經度 0° ）時間是正午時，美國舊金山（ 120°W ）當地的時間是幾時？
(A) 4 時 (B) 8 時 (C) 12 時 (D) 20 時。
- (D) 隨著交通與資訊的發達，國與國之間的往來也更加密切，因此國際性事務的協商合作就顯得更加重要。下列哪一事項是臺灣和其他國家必須共同協商處理？
(A) 大西洋航運通行貨輪的載量限制 (B) 波斯灣石油輸出徵收的各項關稅
(C) 亞洲內陸國家邊境通商簽證協議 (D) 太平洋周圍海嘯預警系統的建立。
- (B) 臺灣的緯度位於溫帶與熱帶氣候的過渡帶上，因此每年均吸引許多候鳥遷徙時以臺灣為中繼站。請問：冬季時最可能出現來自下列哪一個地區的候鳥遷徙至臺灣避寒，形成相當壯觀的生態景象？
(A) 菲律賓群島 (B) 千島群島 (C) 印尼群島 (D) 琉球群島。
- (D) 金門的大膽島有「前線中的前線」、「離島中的離島」之譽，2019 年正式開放觀光。若從臺北搭機前往，主要飛行方向為何？(A) 東北 (B) 東南 (C) 西北 (D) 西南。
- (B) 2010 年的梅姬颱風給臺灣帶來強風豪雨，導致緊鄰海岸線的蘇花公路坍方，造成近 300 名旅客受阻。請問：這條連接宜蘭至花蓮的蘇花公路主要是沿著哪一座山脈的峭壁所開鑿？
(A) 雪山山脈 (B) 中央山脈 (C) 海岸山脈 (D) 玉山山脈。
- (A) 若以北回歸線為剖面線，所繪出的臺灣地形剖面圖，與下列哪一張圖最接近？
(A)  (B)  (C)  (D) 
- (A) 某國家要推動自由經貿園區，希望規畫港口供大型貨輪進行轉口貿易使用，成為區域經貿中心。若以港口條件來判斷，則下列何者較為適合？
(A)  (B)  (C)  (D) 
- (A) 目前臺灣最常使用的水資源來自於河川及地下水，這兩種水資源若受到地表過度開發，砍伐森林植被的影響，將會造成下列哪一現象？
(A) 河水滯留地表時間縮短，地下水滲透量減少 (B) 河水滯留地表時間加長，地下水滲透量增多
(C) 河水滯留地表時間加長，地下水滲透量減少 (D) 河水滯留地表時間縮短，地下水滲透量增多。

12. (D) 近年來政府不斷推廣再生能源，圖(四)是 2018 年各行政區離岸風力發電機組的發電比例，依據圖中資訊判斷，這些風力發電設施最可能分布在下列哪一海域？
 (A) 東海 (B) 太平洋 (C) 南海 (D) 臺灣海峽。
13. (A) 某陸地某日的海陸氣壓分布如圖(四)所示。請問：當時的天氣特色最主要為下列何者？
 (A) 吹乾燥的東北風 (B) 吹溼潤的東北風 (C) 吹乾燥的西南風 (D) 吹溼潤的西南風。

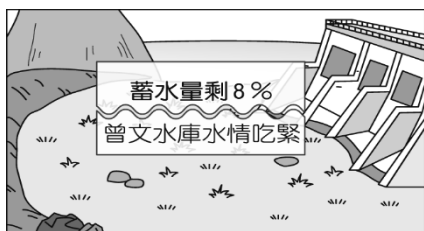


▲圖(四)

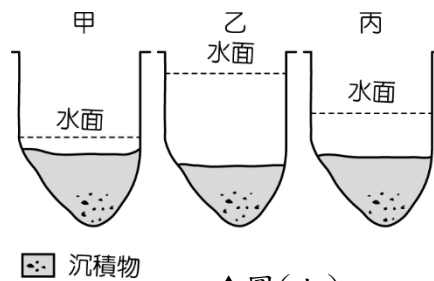


▲圖(五)

14. (D) 水資源影響居民生活及產業活動的發展，因此為國家重要的施政項目。圖(六)是王教授在某日看新聞時所見到的標題，不禁使他憂心忡忡。請問：該新聞的播出時間最可能為哪一個時候？
 (A) 中秋節 (B) 聖誕節 (C) 中元節 (D) 清明節。
15. (D) 圖(七)為曾文溪某地點在不同季節的主要水位示意圖。請問：圖中甲的現象最主要出現在下列哪一個季節？(A) 春季 (B) 夏季 (C) 秋季 (D) 冬季。



▲圖(六)



▲圖(七)

【歷史科】

- (A) 下列哪一原住民族很早就與漢人接觸，融入漢人社會？
 (A) 西拉雅族 (B) 阿美族 (C) 卑南族 (D) 排灣族。
- (A) 學者從語言學的研究中發現，在全球南島語族分布中，下列何者是南島語族分布的最北端？
 (A) 台灣 (B) 紐西蘭 (C) 印尼 (D) 馬達加斯加。
- (B) 在台灣的原住民中，下列哪一族群主要分布於北部？
 (A) 西拉雅族 (B) 凱達格蘭族 (C) 達悟族 (D) 阿美族。
- (A) 明朝初年為了防備倭寇，實行了下列哪一政策？
 (A) 海禁政策 (B) 鎖國政策 (C) 宗教政策 (D) 隔離政策。
- (C) 西元 1633 年日本實施鎖國政策，只准荷蘭人和中國人到何處港口貿易？
 (A) 雞籠 (B) 澳門 (C) 長崎 (D) 打狗。
- (B) 鄭氏時期，何人及其部落因多次反抗，遭鄭軍強力鎮壓，勢力最後衰微？
 (A) 郭懷一 (B) 大肚王 (C) 沈有容 (D) 施琅
- (C) 17 世紀初，荷蘭聯合東印度公司曾佔領澎湖，但被明朝將領逼退？
 (A) 鄭芝龍 (B) 顏思齊 (C) 沈有容 (D) 施琅。
- (B) 康熙 23 年，清廷將台灣納入版圖，設一府三縣，隸屬於哪一省管轄？
 (A) 廣東省 (B) 福建省 (C) 台灣省 (D) 浙江省。
- (C) 荷蘭招募漢人開墾，但對漢人管制嚴苛，導致何人曾領導漢人發動抗荷運動？
 (A) 施琅 (B) 鄭經 (C) 郭懷一 (D) 陳永華。
- (B) 荷蘭曾積極對原住民傳播何種宗教，使原住民透過宗教，順服統治？
 (A) 佛教 (B) 基督教 (C) 伊斯蘭教 (D) 道教。
- (C) 台灣歷史上首度出現的原住民文字，指的是下列何者？
 (A) 米蘭詔書 (B) 台灣府志 (C) 新港文書 (D) 羅馬文書。

12. (C) 康熙 23 年，清廷正式將台灣納入版圖，這是清採那哪一個人的主張？
 (A) 郭懷一 (B) 林爽文 (C) 施琅 (D) 鄭克塽。
13. (A) 驅逐荷蘭人建立台灣第一個漢人政權是下列何人？
 (A) 鄭成功 (B) 鄭芝龍 (C) 鄭經 (D) 鄭克塽。
14. (B) 清廷規定來台漢人須申請證照，且不准攜家帶眷，這項規定稱為甚麼？
 (A) 劃界封山 (B) 渡台禁令 (C) 海禁政策 (D) 鎖國政策。
15. (B) 清廷宣布台灣設省，任命誰為首任巡撫，積極推動各項改革及建設？
 (A) 邵友濂 (B) 劉銘傳 (C) 沈葆楨 (D) 施琅。

【公民科】

1. (A) 依照我國《國籍法》規定，下列何人為我國的國民？
 (A) 嫁到臺灣來，並已完成歸化手續的阿菊 (B) 來臺灣工作 5 年的日本人千繪
 (C) 父母都是美國人，但在臺灣出生的麥克 (D) 住在恆春的日本人中村先生。
2. (B) 按照我國的法規，以下關於「國民」與「公民」的敘述，何者正確？
 (A) 國民必然具有公民身分 (B) 公民必然具有國民身分 (C) 本國籍人民是為公民，歸化取得國籍的是為國民 (D) 只是名稱不同，兩者在權利義務上並無差別。
3. (A) 國宏深夜下班騎車回家，儘管街道上空無一人，但他遇到紅燈時，還是會乖乖停車，等待綠燈再繼續前行。國宏的行為，符合現代公民的何項基本德性？
 (A) 遵守法律規範 (B) 參與公共事務 (C) 理性批判思考 (D) 捍衛公平正義。
4. (B) 搭乘臺北捷運時，小呂聞著剛買的鹽酥雞香味，忍不住伸手要拿來吃，小美告誡他，捷運有車廂內不得飲食的相關規範，即便沒被其他人會發現，也請忍到下車後離開捷運站再吃。上述小美的態度，符合現代公民應具備的何項基本德性？
 (A) 和平尊重包容 (B) 遵守法律規範 (C) 理性批判思考 (D) 捍衛公平正義。
5. (B) 浩君轉學到新學校後，發現同學的身分多元，不同的族群身分與文化差異，衝擊著他的思維與生活。浩君應採取何種態度與同學互動較適當？
 (A) 無視同學的族群或身分，強迫他們接受自己的文化
 (B) 理解不同的人或群體之間的差異，對他們一視同仁
 (C) 看老師的態度行事，對於老師認同的人態度比較好
 (D) 與自己不同族群的同學及其文化特色，均予以排拒。
6. (D) 我國對於人權保障的最高法源依據為下列何者？
 (A) 《公民投票法》 (B) 《性別平等工作法》 (C) 《國籍法》 (D) 《中華民國憲法》。
7. (A) 林曉慧在某軟體公司擔任工程師，因懷孕即將臨盆，於是向雇主請假待產，近來雇主在工作上屢次刁難，以不適任此工作為由，要求林曉慧自動辭職。雇主的作法觸犯下列何法？
 (A) 《性別平等工作法》 (B) 《性別平等教育法》 (C) 《性騷擾防治法》 (D) 《國籍法》。
8. (A) 正揚的家庭成員眾多，他與爸媽、妹妹、叔叔嬸嬸、爺爺、姑姑、姑丈住在同一個屋簷下。下列有關這些家庭成員間彼此親屬關係的描述，何者正確？ (A) 媽媽與姑丈為姻親關係 (B) 嬸嬸與姑丈為旁系血親 (C) 爺爺與正揚兄妹為姻親關係 (D) 正揚與妹妹正葳為直系血親。
9. (D) 夫妻透過法律規定，經由收養子女而成立的親屬關係，屬於下列何者？
 (A) 姻親 (B) 旁系血親 (C) 自然血親 (D) 法定血親。
10. (C) 安真與瑞凡決議離婚，但兩人對未成年子女的親權行使問題爭執不下，這時可請哪個機關做出適當的判決？ (A) 社會局 (B) 警察局 (C) 法院 (D) 公益團體。
11. (C) 政府最近為舒緩民眾創業初期的資金壓力，將貸款的條件放寬，目的是讓有心 創業者更容易取得資金，獲得工作。該政策對何項家庭功能有最直接的助益？
 (A) 生育功能 (B) 教育功能 (C) 經濟功能 (D) 保護與照顧功能。
12. (A) 安親班與幼稚園因少子化現象常面臨招生不足的問題，而人人稱羨的婦產科、小兒科醫生也漸漸沒落。上述問題說明了少子化對哪個層面的影響？
 (A) 經濟發展 (B) 老人扶養 (C) 醫療支出 (D) 性別平衡。
13. (B) 2000 年，就讀屏東縣高樹國中的葉永誌，因不同的性別特質遭到校園霸凌而導致後續的意外死亡。這件新聞事件，說明學生在校園中的哪一項權利未被徹底落實？
 (A) 學習權 (B) 身體自主權 (C) 受教育權 (D) 投票權。

14. (C) 在票選班級模範生時，若有兩人票數相同，此時該如何決定人選？
(A)導師決定 (B)重新票選 (C)抽籤決定 (D)猜拳決定。
15. (A) 內政部修訂《紀念日及節日實施辦法》，規定原住民可於其本族歲時祭儀放假一日。這樣的規範用意為何？
(A)協助原住民族文化傳承 (B)振興原住民部落的經濟發展
(C)保護原住民族傳統領域 (D)協助原住民融入外界社會。