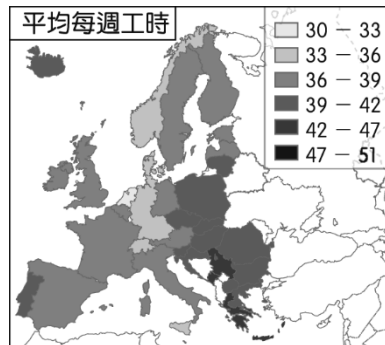


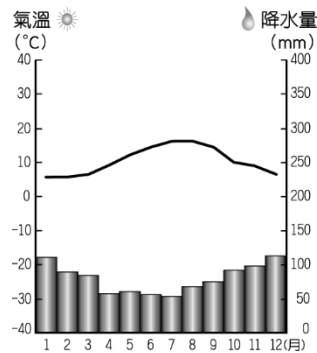
# 114 學年度第 1 學期 社會領域 九年級 補考題庫

## 【地理科】

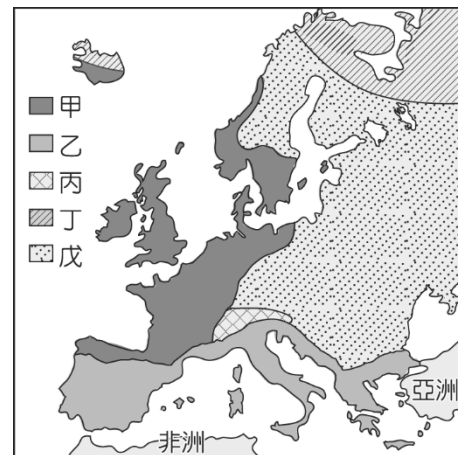
1. (C) 圖(一)為歐洲各國一週平均工作時數，根據附圖，下列敘述何者正確？  
 (A)該分布與人口密度正相關 (B)工時最短的國家位於北歐  
 (C)歐洲西半部的福利制度相對成熟 (D)歐洲東半部以勞動密集產業為主。



▲圖(一)



▲圖(二)



▲圖(三)

2. (A) 歐洲某地區的氣候圖如圖(二)所示，其分布區域應位於圖(三)中何處？  
 (A)甲 (B)乙 (C)丙 (D)戊。
3. (A) 「有人說西風是上帝對歐洲的恩賜，能帶給歐洲豐沛的降水量；但對中國來說，伴隨西風而來的卻常是漫天黃沙。」造成上述差異的原因為何？  
 (A)歐洲位於大陸的西岸；中國位於大陸的東岸 (B)歐洲的西風來自陸地；中國的西風來自海洋  
 (C)歐洲西風集中於冬季；中國西風集中於夏季 (D)歐洲的緯度位置較高；中國的緯度位置較低。
4. (A) 歐洲兩大河川藉由某一運河相互連結，以提升河川的航運價值。甲港口為該運河上重要的轉運樞紐，附表為 2016 年兩條河川流域內各國與甲港口之間的船舶貨運量。由表中資訊判斷，可推論出其中一條河川的貨運量較大，該河川應是注入哪個海域？(A)北海 (B)黑海 (C)地中海 (D)波羅的海。


國家	荷蘭	德國	比利時	奧地利	匈牙利	法國	斯洛伐克	羅馬尼亞	總計
船舶貨運量 (公噸)	100,488	68,520	50,813	34,498	8,891	5,552	4,094	854	273,710

註：船舶貨運量為各國以船舶運抵甲港口及從甲港口運至各國的貨運量總和。

5. (B) 俄羅斯受哪一因素影響，大部分地區屬於溫帶大陸性氣候，夏季為主要降水季節？  
 (A)地形 (B)緯度 (C)洋流 (D)經度。
6. (D) 「飛行釀酒師」是一個特別的行業，他們搭乘飛機穿梭在全球各地的葡萄園提供技術指導，尤其是在雨季來臨前的成熟葡萄採收時最為忙碌。某一釀酒師在西班牙葡萄採收的季節前往該國協助，而他在西班牙停留的月分最可能為下列何者？(A)1~2月 (B)3~4月 (C)6~7月 (D)9~10月。
7. (C) 巴西的國土面積廣大，加上氣候條件的配合，因此農業相當發達。請問：目前巴西產量眾多的作物中不包括下列何者？(A)咖啡 (B)柑橘 (C)棉花 (D)甘蔗。
8. (D) 位於澳洲南端小島的荷巴特為該國著名的古城，其溫帶海洋性氣候有利於當地的發展。請問：當地的降水來源主要為下列何者？(A)東南信風 (B)東北季風 (C)熱帶氣旋 (D)盛行西風。
9. (B) 臺灣探險隊在歷經千辛萬苦抵達南極點後，欲在南極點上面向臺灣，向國人證明他們做到了。此時應該朝哪一個方向前進才會找到臺灣？(A)東北方 (B)正北方 (C)西北方 (D)正南方。

10. (C)附表為 2014 年中國、美國、印度和巴基斯坦的棉花生產與消費資料。已知棉花的消費主要用在製造紡織產品，而棉紡織工廠多設在勞力較為低廉的地方。根據表中資料判斷，何者應為美國？  
(A)甲 (B)乙 (C)丙 (D)丁。

單位：萬噸		
國家	國內棉花生產量	國內棉花消費量
甲	713.1	751.2
乙	675.0	508.4
丙	281.1	77.3
丁	206.8	226.4



▲圖(四)

11. (B)小飛去位於玻里尼西亞的大溪地旅遊，住在當地的度假村（如圖四），他在當地最可能會有下列哪一體驗？(A)品嚐當地產的葡萄酒 (B)浮潛欣賞美麗的珊瑚礁 (C)前往廣闊的沙漠探險 (D)遊覽因冰河侵蝕形成的湖泊。
12. (C)美國中部大平原的氣候變化劇烈，北部五大湖區冬季常有寒流帶來暴風雪，中南部則在春、夏之交經常有龍捲風肆虐，南部夏季則易受颶風侵襲。上述氣候特色和哪一項自然地理特徵關係最為密切？  
(A)位於中緯度溫帶地區 (B)終年受西風吹拂  
(C)主要山脈呈南北向偏西分布 (D)位於大西洋及太平洋之間。
13. (D)北美洲為世界重要的消費市場，由於當地盛行何種商業文化，使經濟活動得以蓬勃發展？  
(A)大量生產、大量出口 (B)大量進口、大量出口  
(C)小量生產、大量消費 (D)大量生產、大量消費。
14. (C)中南美洲的氣候類型受到緯度及地形的影響相當明顯。請問：下列哪一個地形區的氣候類型主要影響因素為地形？(A)亞馬孫盆地 (B)巴西高原 (C)墨西哥高原 (D)智利北部。
15. (C)美國允許在北極海沿岸的生態保護區設置鑽油平臺，引發當地原住民族的抗議。上述引發抗議的地點，應是發生美國的哪個州？(A)夏威夷 (B)華盛頓 (C)阿拉斯加 (D)加利福尼亞。

【歷史科】

1. (A)近代的科學家中，何人提出「三大運動定律」、「萬有引力定律」等物理學說？  
(A)牛頓 (B)培根 (C)笛卡兒 (D)哥白尼
2. (B)佩脫拉克在其詩集《祕密》中說：「我不想變成上帝……我自己是凡人，我只要求凡人的幸福。」請問：當佩脫拉克提出這句話時，代表下列何種主義開始興起？  
(A)浪漫主義 (B)人文主義 (C)神本主義 (D)理性主義。
3. (D)每年 1 月 26 日為澳洲國慶日，在這天全國統一慶祝國慶。但澳洲民間開始有不同意見提出，認為英國人踏上澳洲土地之時，就是澳洲原住民苦難的開始。請問：上述的苦難不包括下列何者？(A)傳統習俗受到侵害 (B)喪失土地 (C)飽受傳染病摧殘 (D)傾銷鴉片。
4. (B)速食店的薯條普遍受大家的喜愛。請問：歐洲人最早能享用馬鈴薯等美洲作物，是因為下列何者的發生？(A)文藝復興 (B)海外擴張 (C)蒙古西征 (D)宗教改革。
5. (C)西元 18 世紀中期源於英國的工業革命，徹底改變了全人類的生產方式。請問：工業革命造成了什麼社會現象？(A)人口往鄉村集中 (B)個人生產力降低 (C)工廠制度的普遍 (D)失業不再是社會問題。
6. (D)心怡和家人到非洲旅遊時，參觀了埃及著名的金字塔，這些被譽為「世界七大奇蹟」之一的建築，在古代的功能為下列何者？(A)國王的宮殿 (B)公眾集會場所 (C)太陽神的神殿 (D)統治者的陵墓。
7. (B)宗教信仰在人類的生活中扮演重要的角色，在歷史課堂裡，同學們紛紛發表自己對於宗教的看法。請問：下列何人的看法錯誤？(A)東昇：喀爾文教派提出預選說的概念，主張人的得救與否，上帝早已決定 (B)振旗：羅耀拉創立長老教會，要求教士嚴格自律 (C)曉霖：英王亨利八世因婚姻問題與羅馬公教教會決裂，才創立英國國教派 (D)筱碧：馬丁路德認為虔誠的信仰便會得救，而其信仰應以《聖經》為依據。
8. (C)自從麥哲倫死後，某國持續在菲律賓進行探險，雖然遭到當地伊斯蘭教徒抵抗，但仍在西元 1571 年後控制馬尼拉，展開與中國和日本的貿易活動，有定期的「大帆船貿易」往來墨西哥和菲律賓之間。請問：上述的某國是哪一個國家？(A)法國 (B)葡萄牙 (C)西班牙 (D)荷蘭。
9. (B)【圖五】為古代雕塑家米隆的《擲鐵餅者》，這項作品取材自當時舉辦來取悅神明的運動競賽祭典，作品充分顯現崇尚力與美的精神。請問：這個作品最有可能是何

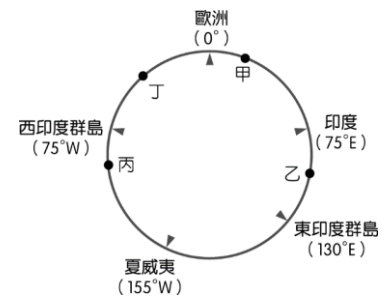
時所做？(A)印度古文明 (B)古希臘文明 (C)希臘化時期 (D)西亞古文明。

10. (A) 羅馬共和時期末年，內部衝突時起，難以和平解決，其最後的結果為何？(A)政權落入軍事將領手中 (B)封建制度逐漸興起 (C)王權提高，進入王政時期 (D)人民獲得最後的勝利，走向民主政治。
11. (C) 奠定歐洲在近代世界政治、經濟、軍事、文化上領導地位的「科學革命」發生於何時？(A) 14~15 世紀 (B) 15~16 世紀 (C) 16~17 世紀 (D) 17~18 世紀。
12. (D) 附表呈現歷史上某變革的內容，? 中最適合填入下列何者？(A)古典學術研究的恢復 (B)羅馬公教教會的腐敗 (C)科學革命思想的萌芽 (D)社會主義學說的興起。



▲圖(五)

變革的內容	
起源地	英國
早期傳播地區	英國 ↙ 美國 ↘ 歐陸
影響	新興城市的林立 工廠制度的出現 ?



▲圖(六)

13. (A) 15 世紀開始，許多歐洲探險家出海探尋通往亞洲的新航路。附圖是 15 世紀~18 世紀部分歐洲探險家到達地區的示意圖，其標示方式僅依照這些地區的經度位置排列，而未考慮其緯度位置。狄亞士在 1487~1488 年的探險旅程中到達某洲的最南端，若要在【圖六】中呈現，應標示於何處？(A)甲 (B)乙 (C)丙 (D)丁。
14. (D) 關於基督教與猶太教，下列敘述哪些是正確的？(甲)基督教是改革猶太教而逐漸形成的宗教(乙)猶太教信仰耶和華，基督教不信耶和華，只信耶穌(丙)猶太教的唯一經典是《舊約》，基督教的唯一經典是《新約》(丁)猶太教與基督教皆創立於巴勒斯坦地區 (A)甲丙 (B)丙丁 (C)乙丙 (D)甲丁。
15. (A) 下列是老師規畫「伊斯蘭文明的巡禮」造訪的三個城市，依照該城市含括於伊斯蘭世界的時間先後順序排列，何者正確？(A)甲丙乙 (B)甲乙丙 (C)乙丙甲 (D)丙甲乙。

甲：沙烏地阿拉伯的麥加  
乙：土耳其的伊斯坦堡  
丙：西班牙的哥多華

### 【公民科】

- (D)關於經濟學提到的「自由財」，下列敘述何者正確？(A)具有強烈的稀少性 (B)需要支付高昂的代價 (C)取得相當困難 (D)陽光屬於自由財的一種。
- (D)嘉嘉進入職場工作已經 3 年，準備在年底跟公司請長假，打算到日本遊學。嘉嘉的薪水一個月是 40,000 元，預計遊學 3 個月，包含食宿、生活費及機票約 90,000 元。嘉嘉出國遊學的機會成本是多少？(A)4 萬元 (B)9 萬元 (C)13 萬元 (D)21 萬元。
- (C)國際畜牧地面臨嚴重乾旱，酪農提前宰殺牛、羊。此訊息經新聞報導後，有消費者認為進口奶粉未來將會漲價，因而選擇在目前價格下增加消費。根據上述，下列何者是影響消費者對商品的購買數量？(A)商品價格 (B)收入多寡 (C)預期心理 (D)個人偏好。
- (B)最近在便利商店賣的 10 元咖啡銷售成績突出，廠商便決定延長優惠活動的時間，繼續提供低價的咖啡賺取利潤。業者是以何種方式來增加或穩定獲利？(A)提高單位價格 (B)降低單位價格 (C)降低生產成本 (D)提高生產成本。
- (A)曾經風靡一時的甜甜圈，在熱度逐漸退燒後，整體銷售預估下降了 5 成。依上述判斷，生產者對此商品將會採取何種作法？(A)減少甜甜圈生產數量 (B)限制民眾購買甜甜圈的數量 (C)增加甜甜圈生產數量 (D)提高甜甜圈的價格。
- (D)在市場經濟制度中，下列何者被比喻為「看不見的手」？(A)擁有公權力的政府 (B)實際參與交易的消費者族群 (C)提供商品的生產者族群 (D)商品價格帶來的影響力。
- (B)有知名的連鎖餐廳推出母親節主題活動，凡是名字中有「雅、婷、怡、君」的女性，到店用餐可以免費招待一客龍蝦。店家推出這種主題活動，最重要的目的是什麼？(A)降低生產成本 (B)提高銷售業績 (C)回饋社會公益 (D)消耗龍蝦庫存。

8. (A)各國選擇生產本國最有利的產品，進行國際貿易，可以帶來哪些好處？甲、可提高資源的使用效率；乙、不用出國即可買到別國商品；丙、對進口國而言，可以賺取外匯；丁、對出口國而言，可以享受到世界各國的產品 (A)甲乙 (B)甲丙 (C)乙丁 (D)甲丁。
9. (C)臺灣有高達98%的能源仰賴進口，近年整體的能源供給中，原油、原油產品約占48%，煤及煤產品占29%，進口液化天然氣約占15%，核能約占5%。為什麼臺灣需要從國外進口能源？ (A)臺灣不想開發能源 (B)進口能源成本較低 (C)臺灣境內欠缺能源 (D)國外能源品質優良。
10. (C)在臺北如果想買3C產品，許多人往往會想到光華商場，那裡相關店家眾多，消費者可以貨比三家，往往有機會找到優惠價格，或是爭取到更多贈品或服務。據此判斷，光華商場對3C產品而言，屬於何種競爭型態的市場？ (A)缺乏競爭 (B)競爭程度低 (C)競爭程度高 (D)惡性競爭。
11. (B)明樺用100元鈔票，在廣記燒臘店買了一個燒鴨便當。這顯示貨幣的哪一項功能？ (A)價值衡量 (B)交易媒介 (C)價值儲藏 (D)債務清償。
12. (B)我國的貨幣是由下列何者發行的？ (A)臺灣銀行 (B)中央銀行 (C)經濟部 (D)財政部。
13. (A)「塑膠貨幣」的使用，在目前的交易市場上已經非常普遍。下列何者屬於塑膠貨幣？ (A)銀行發行的信用卡 (B)比特幣 (C)百貨公司發行的會員卡 (D)政府發行的貨幣。
14. (A)如萱的孩子出生後，她與丈夫敏智協調好，敏智負責工作賺錢，如萱則在家擔任全職的家庭主婦，如萱每天將家務打理得井井有條，孩子也得到了妥善的照顧，敏智則在工作上一帆風順，近期即將升值加薪。關於如萱所從事的勞動，下列敘述何者正確？  
(A)讓其他家庭成員無後顧之憂 (B)創造了豐厚的經濟收入  
(C)屬於市場勞動的一種 (D)因為沒有支領薪酬，因此屬於失業者。
15. (D)下列哪一項法律的立法目的是為了提升勞工就業技能，促進就業，保障勞工職業訓練及失業一定期間的基本生活？ (A)《勞動基準法》 (B)《民法》 (C)《性別平等工作法》 (D)《就業保險法》。