

## 屏東縣明正國中 113 學年度第二學期七年級【社會領域】補考題庫

### 【公民】

- (D) 關於「文化」的認識，下列敘述何者錯誤？ (A)文化是人類社會特有的現象 (B)新住民為臺灣帶來豐富的異國文化 (C)文化是人類因應生存所需，經由學習而來的成果 (D)高山縱谷都是人類共同創造出來的文化。
- (D) 玉珊新婚不久後便生下一子，親朋好友紛紛送上新生兒的衣物。由於臺灣有個習俗，認為「小孩子穿舊衣服，會比較好帶」，所以玉珊還是謹遵長輩的交代，讓寶寶穿著舊衣。由上述可見文化具有下列何項特徵？ (A)普遍性 (B)差異性 (C)累積性 (D)制約性。
- (B) 郝大尾董事在國內都是以乘坐計程車代步，某天他到澳洲出差，一樣叫了計程車代步，並習慣的坐上後座，結果卻遭到司機怒罵並趕下車。原來在澳洲搭計程車應坐在前座，不然會被視為自大或貶低他人地位。上述情形較符合下列何種概念？ (A)文化歧視 (B)文化衝突 (C)文化融合 (D)文化位階。
- (A) 科莉亞國為了提倡該國人民的國家認同，在教育上不斷傳達本國文化優於其他文化的觀念，此舉可能導致科莉亞國的文化有何結果？ (A)文化趨向單一 (B)文化內容豐富 (C)文化創新多元 (D)本土文化消失。
- (A) 為了維持社會秩序，人與人的互動有一套行為準則，使人的行為有遵循的方向，知道哪些事應該做、哪些事不應該做，而這套行為準則稱為下列何者？ (A)社會規範 (B)公共事務 (C)社會變遷 (D)社會參與。
- (C) 日本發生 311 大地震後，日本民眾仍然守秩序地排隊領取救難物資、購買日用品，絲毫不見紊亂。上述文字，顯示下列何者存在的重要性？ (A)社會變遷 (B)社會發展 (C)社會規範 (D)社會參與。
- (A) 印度西部每年從 10 月 31 日起為新年，共 5 天，第四天為元旦。印度人會用哭聲來表示歲月易逝的感嘆，有些地區則以禁食一天一夜來迎接新的一年，因此印度的元旦又被人稱為「痛哭元旦」或「禁食元旦」。印度人用哭聲或禁食來迎接新年的到來，這是屬於當地的何種社會規範？ (A)風俗習慣 (B)倫理道德 (C)宗教信仰 (D)法律。
- (A) 每年農曆 7 月 15 日的「中元節」，我國各地都會舉行祭祀孤魂野鬼的普渡活動。普渡活動是受到下列何種社會規範的約束與影響？ (A)風俗習慣、宗教信仰 (B)法律、倫理道德 (C)風俗習慣、倫理道德 (D)法律、宗教信仰。
- (B) 各地過年習俗不同，中國人是圍爐、守夜、放鞭炮，香港人在年初三進賽馬場試手氣，日本人在除夕夜藉由敲鐘一掃煩惱。上述說明文化具有下列何項特徵？ (A)普遍性 (B)差異性 (C)累積性 (D)制約性。
- (B) 臺灣的社會呈現多元面貌，面對不同的文化群體，下列何種觀念較不適當？ (A)彼此交流溝通，互相學習以求進步 (B)為保存自身的文化，應排斥其他群體 (C)不同的文化使社會文化更豐富多元 (D)文化沒有優劣之分，只是內涵不同。
- (C) 公民課時同學們討論「團體」的主題，下列何人的說法符合團體的定義？ (A)胖虎：每個人只能選擇加入一個團體 (B)小夫：團體內的成員彼此完全互不相干，各自獨立 (C)大雄：個人最早接觸的團體是家庭 (D)靜香：必須 5 人以上才能組成團體。
- (B) 志願結社是公民參與公共事務的管道之一，下列對於志願結社的描述，何者錯誤？ (A)透過志願結社，可以發揮影響公共生活的力量 (B)1987 年解嚴後，志願結社迅速萎縮 (C)志願結社是現代國家民主化的指標 (D)動保團體也是志願結社的一種。
- (B) 1997 年臺北市政府開始推動「垃圾不落地」的政策，有民眾認為該政策讓環境變得很乾淨，但也有民眾認為無法配合垃圾車的時間很困擾，這是屬於公共意見的哪一個特性？ (A)公開性 (B)差異性 (C)影響性 (D)變動性。
- (D) 立法委員阿銘認為「大山電視臺」在沒有求證的情況下，大肆報導我國與邦交國可能斷交的傳言，損及國家利益，希望政府相關單位能出面制止或開罰。阿銘所指的政府單位是指下列何者？ (A)公共政策網路參與平臺 (B)臺灣事實查核中心 (C)原住民族委員會 (D)國家通訊傳播委員會 (NCC)。
- (D) 全國 368 個鄉鎮區中，有 3 個「無醫鄉」。無醫鄉是指缺乏醫院或診所的鄉鎮，居民必須到別的城市尋求治療。上述不公平現象較符合下列哪種議題？ (A)貧富差距議題 (B)性別議題

(C)族群議題 (D)城鄉差距議題。

【歷史】

- ( A ) 西元 1895 年，清帝國簽訂馬關條約，將台灣割讓給哪一個國家？  
(A)日本 (B)韓國 (C)美國 (D)法國 (1-1)
- ( B ) 日本治臺時期，總督府得以瓦解可能存在的反抗勢力，而且能確實掌握臺灣的戶口，奠定堅實的統治基礎，與下列何者「最」有關係？  
(A)六三法 (B)警察與保甲制度 (C)皇民化運動 (D)日本軍隊 (1-1)
- ( D ) 阿慧是臺灣人，後來改名為「慧子」。她的家庭因為響應政府的國語政策而獲頒證書。另外，有節日時，她也會穿著和服到附近的神社參拜。不久後，她的哥哥被政府徵召入伍，派往東南亞。從文中可知，當時政府正在臺灣施行何種統治政策？  
(A)六三法 (B)殖民地特殊統治 (C)內地延長主義 (D)皇民化運動 (1-2)
- ( D ) 日治初期臺灣對日抗爭不斷，每年需對臺灣補助七百萬日圓，日本認為臺灣殖民地對日本而言是負擔。請問：總督府採取下列哪項措施，使得財政收入提高，減少日本的經濟負擔？  
(A)廣設郵電通訊 (B)修築高鐵 (C)耕者有其田 (D)鴉片專賣 (2-1)
- ( A ) 日本統治臺灣後，臺灣對外輸出最大宗的物產是下列哪兩項？  
(A)稻米、蔗糖 (B)稻米、鹿皮 (C)稻米、香蕉 (D)茶、稻米 (2-2)
- ( B ) 日本的對臺統治政策從「農業臺灣、工業日本」轉變為「工業臺灣、農業南洋」，主要原因是什麼？(A)因應能源危機 (B)配合南進政策 (C)南洋工資低廉 (D)臺灣農業升級 (2-3)
- ( D ) 下表為日治時期某一年臺灣的教育狀況，從表中可看出當時的教育情形為何？

項目	基礎教育		中等學校 學生數	專門學校 學生數	高等教育 學生數
	學生數	學齡兒童就學 率			
日本人	23,711 人	98.2%	477 人	6,856 人	220 人
臺灣人	210,727 人	28.4%	251 人	4,642 人	28 人

- (A)臺人基礎教育較日人更為普及 (B)升學管道暢通，臺人紛紛入學  
(C)臺人與日人都有平等的受教權 (D)臺人基礎教育不足且升學不易 (3-1)
- ( C ) 由右圖內容推斷，講述的主題應是下列何者？  
(A)霧社事件 (B)美麗島事件  
(C)臺灣議會設置請願運動 (D)農民運動 (3-2)

**重點**

- \*非武裝反抗
- \*合法政治運動
- \*始於1920年代
- \*爭取立法權

- ( D ) 右圖是日治時期的宣傳海報，內容是「時間是金，時間不待，請互相遵守時間」，與下列何者有關？ (A)放足 (B)斷髮 (C)守法 (D)守時 (3-3)



- ( C ) 二二八事件是因為查緝何種物品，終於引爆警民衝突，導致全台大動亂？  
(A)鴉片 (B)假鈔 (C)私菸 (D)禁藥 (4-1)
- ( A ) 下列有關「戒嚴時期」的各項敘述，哪一項才是正確的？

- (A)限制人民言論、集會、出版等自由 (B)總統為了經濟發展，而宣布實施  
(C)此時期的政治受難者皆為外省人 (D)終止動員戡亂後宣告結束 (4-2)
12. ( B ) 近年來，台灣人可以自由參與集會，也能走上街頭示威遊行抗議，與下列何者有關？  
(A)中共解放台灣 (B)宣布解嚴 (C)政黨輪替 (D)台灣光復 (4-3)
13. ( C ) 請問：我國近年來在國際外交活動屢遭困難，其主要原因為何？  
(A)與日本斷交 (B)外交經費困難 (C)中共惡意排擠 (D)退出世界貿易組織 (5-1)
14. ( C ) 「這次衝突」改變臺灣的命運，使臺灣暫時免去被中共攻擊的危機，並獲得美國援助，絕處逢生。此外，民主和共產陣營在亞洲地區進行軍事對抗，聯合國安理會召開緊急會議介入這次衝突，這是聯合國成立以來首次進行軍事聯合行動。請問：「這次衝突」是指哪個戰爭？  
(A)國共內戰 (B)古寧頭戰役 (C)韓戰 (D)八二三炮戰 (5-1)
15. ( A ) 某時期，海峽對岸時常喊出「我們一定要解放台灣」的口號，請問：下列哪個選項可以反映當時的時代背景？  
(A)海峽兩岸情勢緊張，雙方不時爆發武力衝突  
(B)台灣解除戒嚴後，我方成立大陸委員會因應  
(C)中共與美國建交後，承認我方擁有主權的事實  
(D)台灣與美國斷交後，對中共提一國兩制統一中國 (5-2)
16. ( A ) 民國六十年代末期，中共提出「三通」、「一國兩制」的口號，從此兩岸關係的走向有何改變？  
(A)武力對抗→政治對峙 (B)政治對峙→武力對抗  
(C)政治對峙→民間交流 (D)民間交流→政治對峙 (5-2)
17. ( A ) 民國 38 年(1949 年)起，政府陸續推動三七五減租、公地放領、耕者有其田等措施，提高農業生產量。這是政府的哪一政策，為臺灣最初的經濟發展奠下基礎？  
(A)土地改革 (B)進口替代 (C)出口導向 (D)十大建設 (6-1)
18. ( D ) 臺灣的環保運動在某一年代開始興起，有反核四運動、反六輕運動。請問：環保運動興起的背景正好是臺灣經濟處於哪一個階段的時候？  
(A)進口替代 (B)出口導向 (C)十大建設 (D)產業升級 (6-1、6-2、4-3)
19. ( D ) 現今臺灣隨處可見韓式、日式餐飲，韓系、日系、美系、法系等服飾品牌或生活用品。除外，東南亞文化在臺灣也愈來愈常見。請問：上述反映臺灣社會何種風貌？  
(A)創造能量消失 (B)客家文化再造 (C)傳統文化衰退 (D)多元文化並存 (6-2)
20. ( D ) 民國 50 年代，台灣年輕人受到西方文化影響，流行穿牛仔褲、長筒靴、露背裝及迷你裙。依據台灣歷史發展來看，應是與哪一個國家關係密切的緣故？  
(A)日本 (B)韓國 (C)英國 (D)美國 (6-3)

### 【地理】

附表為民國 112 年臺灣六個直轄市的人口數據統計資料，請回答下列問題：

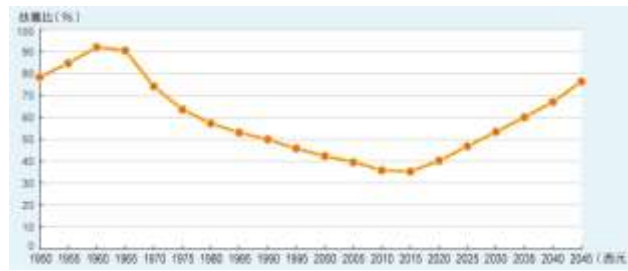
	出生率 (‰)	死亡率 (‰)	社會增 加率 (‰)	0~14 歲人口 (%)	15~64 歲人口 (%)	65 歲以 上人口 (%)	人口總 數(萬 人)
新北市	4.6	7.4	14.2	11.3	70.7	18.0	404.1
臺北市	6.4	8.1	14.2	12.4	65.6	22.0	251.2
桃園市	7.7	6.9	14.9	13.8	71.2	15.0	231.8
臺中市	6.0	7.3	12.4	13.3	71.0	15.7	284.6
臺南市	5.0	9.6	8.4	11.4	69.9	18.7	186.0
高雄市	5.8	9.3	7.2	11.2	69.8	19.0	273.8

- ( D ) 1.觀察附表，新北市的自然增加率是多少？  
(A) 14.2‰ (B) 12‰ (C) 2.8‰ (D) -2.8‰
- ( D ) 2.新北市的人口增加率是多少？  
(A) 26.2‰ (B) 18.8‰ (C) 17‰ (D) 11.4‰

( A ) 3.65 歲以上的人口稱為老年人口，下列哪個直轄市的老年人口比例最高？

- (A)臺北市 (B)桃園市 (C)臺南市 (D)高雄市

扶養比是描述從事勞動生產和不會從事勞動生產的人口之比例。這個比例可以計算勞動人口的壓力，扶養比愈大，表示受扶養的人口比例愈高，壯年人口的經濟負擔愈沉重。附圖是臺灣 1950~2045 年的扶養比趨勢統計圖，請回答下列問題：



▲臺灣 1950~2045 年的扶養比趨勢統計圖

( A ) 4. 1950~1960 年的扶養比呈上升趨勢，是因為什麼年段的人口快速增加？ (A)幼年人口 (B)壯年人口 (C)老年人口

( C ) 5. 2015 年後的扶養比又開始呈上升趨勢，是因為什麼年段的人口快速增加？ (A)幼年人口 (B)壯年人口 (C)老年人口

( C ) 6. 小萱是一位住在彰化縣的國中生，夢想成為美甲師，爸爸是美食外送員，媽媽在成衣工廠擔任裁縫師，而爺爺與奶奶則是稻農。根據上述，下列何者推論較適宜？

- (A)小萱夢想的職業屬第二級產業 (B)媽媽的職業為直接取用自然資源生產  
(C)爸爸的職業類別與金融業相同 (D)爺爺的職業目前就業人口占比為最高

( B ) 7. 臺灣畜牧業的飼養方式和哪項地理條件最為相關？

- (A)四面環海 (B)地狹人稠 (C)糧食缺乏 (D)年降水量變化大

( C ) 8. 華碩電腦股份有限公司和台灣積體電路製造股份有限公司生產的產品，屬於哪種工業類型？

- (A)輕工業 (B)重工業 (C)高科技產業 (D)觀光業

( C ) 9. 中國鋼鐵股份有限公司在民國 60 年由政府出資成立，為十大建設的重要項目之一，總公司與主要工廠位於高雄市臨海工業區（今臨海產業園區），這是因為高雄具有哪項區位優勢？

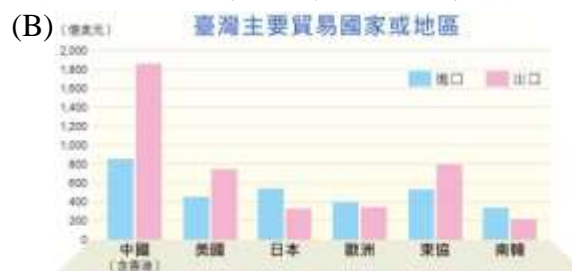
- (A)動力 (B)原料 (C)交通 (D)市場

( B ) 10. 下列為各時期臺灣工業發展的特色，請依照時間先後，按照順序排列：

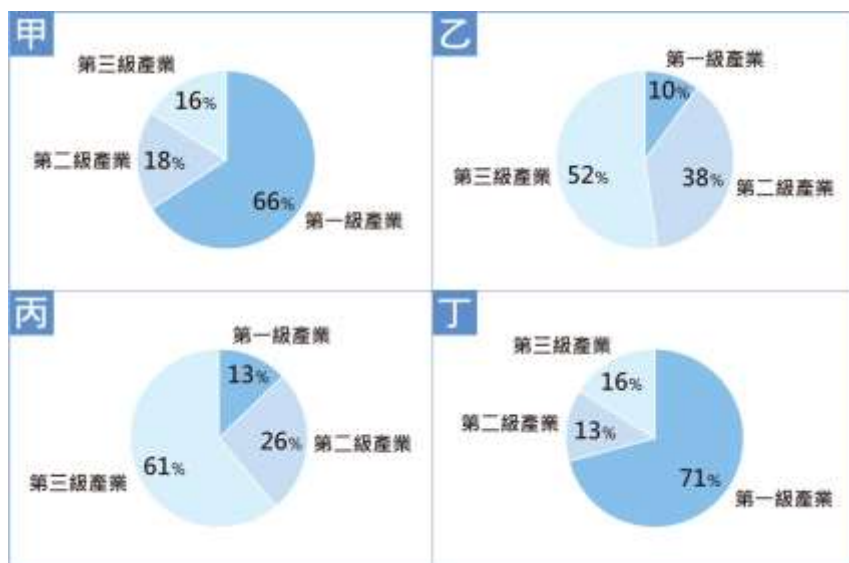
- (甲)發展輕工業和農產加工業  
(乙)產業升級，發展高科技產業  
(丙)成立加工出口區，發展勞力密集產業  
(丁)發展重化工業為主，如臺灣國際造船股份有限公司（中船）

- (A)甲乙丙丁 (B)甲丙丁乙 (C)乙甲丙丁 (D)乙丙甲丁

( A ) 11. 若要分析臺灣某段時間的出口總值變化趨勢，則應參考哪個圖表的資料？



下面是四個聚落的三級產業就業人口比例圖，請觀察統計圖，並回答下列問題：



- ( D ) 12. 哪兩個聚落最可能是鄉村？  
 (A)甲乙 (B)丙丁 (C)乙丙 (D)甲丁
- ( C ) 13. 哪兩個聚落的人口大部分以從事服務業為主？  
 (A)甲乙 (B)丙丁 (C)乙丙 (D)甲丁
- ( D ) 14. 哪兩個聚落的人口外移情形可能比較嚴重？  
 (A)甲乙 (B)丙丁 (C)乙丙 (D)甲丁
- ( B ) 15. 請觀察統計圖，圖中的資料可以推得下列哪項結論？  
 (A)全國的人數不斷增加  
 (B)人口的聚集程度增加  
 (C)鄉村的人口移入率高  
 (D)老年人口的比例增加



▲民國 110 年臺灣都市化程度統計圖