

# 屏東縣立明正國中 113 學年度第一學期八年級【社會領域】補考題庫

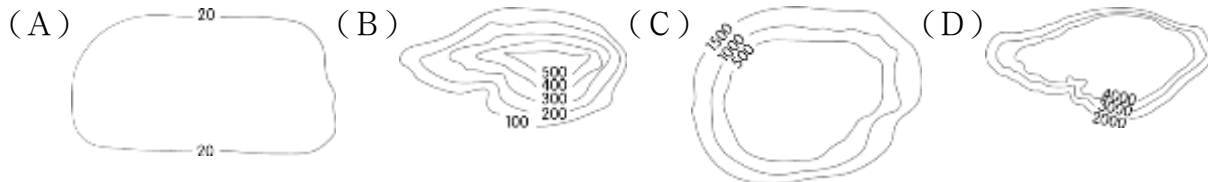
## 【地理】

(C)1、附表為中國某都市的氣溫、降水量統計表，由表中資料判斷，當地何時盛行東南季風？

(A)1月(B)4月(C)7月(D)10月。

月分	1月	2月	3月	4月	5月	6月
月均溫(°C)	-3.7	-0.7	5.8	14.2	19.9	24.4
降水量(mm)	3	5	8	21	34	78
月分	7月	8月	9月	10月	11月	12月
月均溫(°C)	26.2	24.8	20.0	13.1	4.6	-1.5
降水量(mm)	185	160	46	22	7	3

(C)2、下列為中國境內四個不同地區的地形剖面圖，由圖中資料判斷，下列何者應位於中國地勢中階地形？



(B)3、附圖為中國境內四個氣候之最的位置，其中以何地的一月月均溫最低？

(A)①(B)②(C)③(D)④。



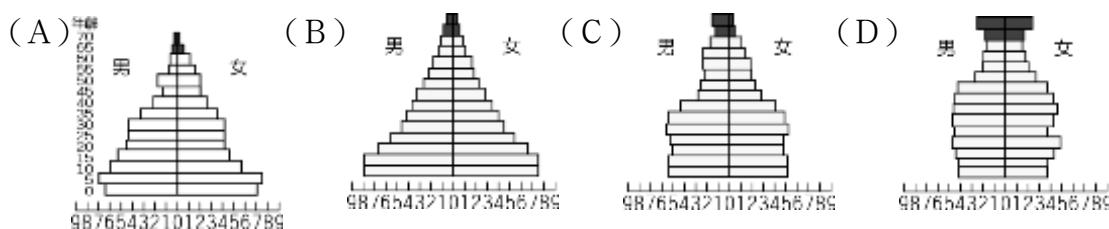
(C)4、中國的人口分布不均已成為重要的社會問題，其疏密的分界線，大致呈現下列哪一個方向？(A)東—西方向(B)南—北方向(C)東北—西南方向(D)西北—東南方向。

(B)5、附圖為東南亞華人聚集區常可看到的宗祠堂號，後代子孫藉以在異地追溯祭拜祖先。請問：此現象與下列何者有關？

(A)中國施行人口節育計畫(B)華人擴散遷移至東南亞(C)華人傳統重男輕女觀念(D)沿海移民將佛教信仰擴散到他鄉。



(B)6、中國在實施一胎化之前的人口金字塔結構最接近下列何者，因此採取較為激烈的政策手段，進行相關調整？

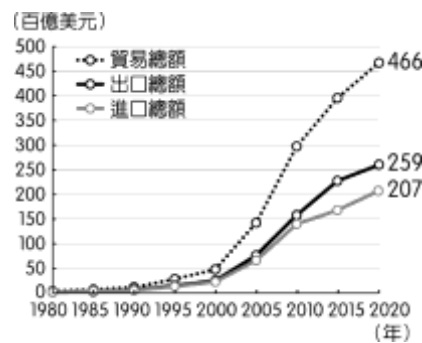


(C)7、「阿莫來到中國的首都—北京市，吃到了香噴噴高粱香腸、火辣熱情烤玉米、意猶未盡麵疙瘩及粒粒分明蝦仁炒飯……等。」請問：上述這些美食中，哪一個可能是來自當地主要生產的糧食作物？(A)高粱香腸(B)烤玉米(C)麵疙瘩(D)蝦仁炒飯。

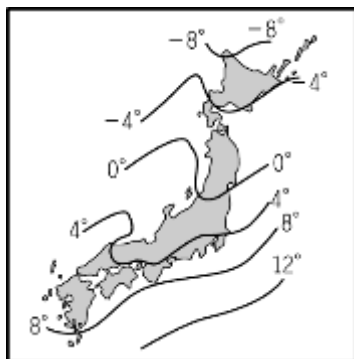
- (C)8、農業活動中受到自然環境的影響相當大，其中灌溉水源為農業發展必要的條件。然而中國的水資源由於人口增加及工商業的使用，漸趨不足，其分布狀況如附圖所示。請問：圖中水資源嚴重短缺的地區大多位在何處？(A)珠江三角洲(B)東北平原(C)華北平原(D)青藏高原。



- (C)9、附圖為中國的進出口貿易總額變化圖，近年持續呈現出超，下列敘述何者與中國貿易情形不同？(A)臺灣對美國是貿易順差(B)香港出口依存度超過 100%(C)東協進口總值大於出口總值(D)印度外匯存底升至 5 千億美元。



- (D)10、中國市場已成為世界各廠商兵家必爭之地，更帶動了物流及電子金融業的發展。上述產業的發展和下列何者的關係最大？(A)實施改革開放(B)設立經濟特區(C)推行一帶一路(D)電子商務盛行。
- (D)11、觀光業為日本重要的外匯來源，四季分明的氣候特色讓該國呈現不同的東瀛風情，因此一年內前往該國旅遊的人數可達九百萬人，帶來極為豐富的外匯收入。附圖為日本冬季氣溫分布圖。請問：影響圖中氣溫分布的因素不包括下列何者？(A)緯度位置(B)沿岸洋流(C)地勢高度(D)經度位置。



- (B)12、傳統上日本人吃米飯壽司，而中國華北的居民則吃饅頭麵條。兩地緯度相近，主要的糧食作物卻不相同，這種差異與下列哪一要素關係最密切？(A)氣溫(B)降水量(C)地形(D)人口。
- (D)13、北韓近年來遇到嚴重的饑荒問題，這和下列哪一個因素的關係較小？(A)耕地較少(B)冬季寒長(C)生產技術落後(D)勞力不足。
- (B)14、依據 2004 年的資料，南韓的平均國民所得為 14,162 美元，與北韓的平均國民所得 914 美元有很大的差距。小賴想用不同因素來解釋南、北韓的經濟發展差異，如附表所示，其中哪一個因素無法解釋上述差異？(A)氣候條件(B)礦產資源(C)經濟制度(D)貿易總值。


因素 \ 國家	南韓	北韓
氣候條件	生長季長	生長季短
礦產資源	少	多
經濟制度	偏市場經濟	偏計畫經濟 (統制經濟)
貿易總值	高	低

(A)15、南韓政府近年來積極在首爾西南方 40 公里處，填海造陸擴建仁川港，希望藉由和中國及其他國家的經貿往來，增加港口的吞吐量。若由地緣關係判斷，南韓政府宜優先考量就近與中國哪一地區合作？(A)環渤海地區(B)廈門經濟特區(C)珠江三角洲地區(D)長江三角洲地區。

【公民】

(B)1.下列哪些是國家的組成要素？(甲)總統(乙)主權(丙)政府(丁)領土(戊)人民 (A)甲乙丙丁 (B)乙丙丁戊 (C)甲丙丁戊 (D)甲乙丁戊。

(D)2.民主國家的政府運作方式需具備四項特色，附圖中的報導最能展現哪一項特色？



(A)法治政治 (B)政黨政治 (C)民意政治 (D)責任政治。

(B)3.附表為《憲法》與法律的比較，其中敘述何者正確？

	《憲法》	法律
(甲)效力	弱	強
(乙)法律位階	較高	較低
(丙)修正過程	較容易	較困難
(丁)舉例	《中華民國憲法》	《中華民國憲法增修條文》

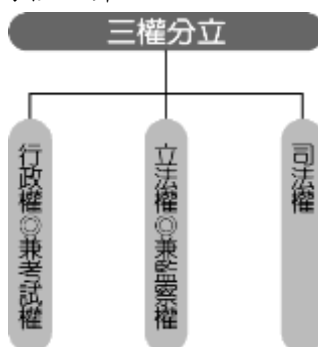
(A)甲 (B)乙 (C)丙 (D)丁。

(C)4.權力和權利是現代法治國家的兩個軸心，請判斷下文中，哪一段畫底線部分所代表的是「權利」？

(甲)政府要求有染疫風險者住進集中檢疫所，但有民眾抱怨(乙)檢疫人員詳加檢查家人送來的物品，似乎把他們當作受刑人。檢疫所表示為避免違禁品被夾帶進入，例如毒品、酒類，引發安全疑慮，因此在執行上較為嚴謹。(丙)法律雖然保障人民的人身自由權，但因為疫情不得不加以限制，不過(丁)執法者在依法行政之時，也應注意是否有執法過當的問題。

(A)甲 (B)乙 (C)丙 (D)丁。

(B)5.從附圖可以觀察到這樣的政府體制，可能會產生何種流弊？



(A)司法權無法超出黨派之外，並依據法律獨立行使職權 (B)行政權兼考試權，易濫用私人；立法權兼監察權，國會易專制 (C)考選制度選出來的人，不一定能符合用人需求 (D)互相制衡的設計，可避免政黨立場或利害得失的衝突。

(D)6.下列關於人民基本權利的說明，何者正確？ (A)自由權：人民有積極要求國家有所作為，而享受特定利益的權利 (B)受益權：人民有選舉、罷免、創制、複決及應考試與服公職的權利 (C)參政權：人民有防止國家公權力不當作為的權利 (D)平等權：每個人在法律上享有同等的權利，擔負同等的義務。

(B)7.新聞指出陸軍司令官邸的勤務兵經過調查，發現並沒有嚴守公私分際，竟幫忙長官買菜，嚴重影響軍譽與浪費國家公帑，通過「糾正」國防部陸軍司令部，要求檢討改善。上述案例中，負責調查並提出糾正案的是哪一政府機關？ (A)司法院 (B)監察院 (C)立法院 (D)行政院。

(C)8.關於不信任案與解散制度的了解，下列哪一個同學的觀念正確？ (A)小黎：總統得提出不信任案 (B)小義：不信任案不論通過與否，都可對同一對象再度提出 (C)小杰：不信任案若通過，總統可被動解散立法院 (D)小承：不信任案通過後，立法院院長應提出辭職。

(A)9.下列何者是我國地方政府的行政首長？ (A)縣、市長 (B)行政院院長 (C)縣、市議會議長 (D)總統。

(B)10.開同學會時，大家閒聊著自己現在從事的工作。下列四位同學中，何者最可能是任職於地方行政機關？ (A)阿虹：我必須議決地方自治預算 (B)大洋：我負責推動地方自治工作 (C)我負責議決地方自治條例 (D)偉仔：我專門彈劾失職的公務人員。

(C)11.附圖中的選票應是出現在下列哪一項公職人員選舉？



(A)總統、副總統 (B)縣、市長 (C)立法委員 (D)直轄市議員。

(B)12.關於公職人員選舉的原則，下列哪一位選民的理解最正確？

- (A) 因為我在選舉區設籍才6個月，所以不具有投票權。  
郭先生
- (B) 我和總統都只擁有一張選票，且選票具有同等價值。  
邱小姐
- (C) 若我不在國內，我可以委託我太太替我行使投票權。  
齊先生
- (D) 為了落實責任政治，投票時必須簽署個人姓名。  
潘小姐

### 【歷史】

- (B)東周相對於西周，是一個劇烈動盪的時代，政治、經濟、社會、文化各方面都有所變動。請問：關於東周時代的變化，下列配對何者正確？  
(A)政治：郡縣制度崩解 (B)社會：貴族沒落，平民崛起 (C)政治：王室強化對諸侯的統治 (D)社會：知識被貴族壟斷。
- (C)漢武帝派張騫出使西域。請問：張騫通西域的最大貢獻為何？  
(A)成功驅逐匈奴 (B)認識西域地理環境，並使匈奴成功漢化 (C)溝通中西交通與促進文化交流 (D)使西域各國都服從漢朝。
- (C)我們可從張擇端的《清明上河圖》中窺見北宋工商業發達，商品經濟熱絡以及首都中繁榮的景象。請問：圖中所描繪的是宋代哪個城市的熱鬧景象？  
(A)大都 (B)廣州 (C)汴京 (D)臨安。
- (B)如果到西藏旅遊，一定要品嚐當地的酥油茶與甜茶。西藏人嗜茶成風，甚至到「寧可三日無油鹽，不可一日無茶」的程度。請問：藏人喝茶的歷史淵源，可以推溯自唐代哪一位公主下嫁吐蕃？  
(A)太平公主 (B)文成公主 (C)安樂公主 (D)平陽公主。
- (A)根據史書記載，中國曾經有位皇帝具備知人善用、容納直諫的美德，在他在位期間，擊敗東突厥，獲得「天可汗」稱號。請問：上述這位皇帝是下列何者？  
(A)唐太宗 (B)北魏孝文帝 (C)漢武帝 (D)秦始皇。
- (D)小昭在《中國歷史故事》看到宋太祖「陳橋兵變」後建立宋朝的故事。請問：「陳橋兵變」的典故，出自於何人篡奪政權成功？  
(A)嬴政 (B)忽必烈 (C)鐵木真 (D)趙匡胤。
- (C)乾隆年間，清廷以通商口岸太多，管理不便為由將通商口岸限定在廣州。西元18世紀時，積極與清廷交涉，希望能打破清廷通商限制的是哪一個國家？  
(A)西班牙 (B)葡萄牙 (C)英國 (D)法國。

8. (B) 小悅鑽研中國科技史，她為了整理宋元時期科技的發展重點，特別列出了附表以供參考。請問：表中的甲、乙、丙分別為何？

甲	遠洋航行技術的基礎
乙	改變戰爭型態
丙	改善印刷缺點，提高印刷效率

- (A)指南針、活字印刷術、火藥 (B)指南針、火藥、活字印刷術 (C)火藥、活字印刷術、指南針 (D)活字印刷術、指南針、火藥。
9. (C) 有一本書《四書集注》是南宋學者所做，並且成為科舉考試定本，影響深遠。請問：該書成為科舉考試定本，最早發生在何時？  
(A)唐代 (B)宋代 (C)元代 (D)明代。
10. (A) 14世紀時，為了進行貿易而東來的阿拉伯商人，在前往中國首都的路程上，發現頻繁設置的招待所，而服色各異的外國使節、公務往來的官員均在此進出。請問：此招待所為何？  
(A)驛站 (B)市舶司 (C)坊市 (D)夜市。
11. (A) 咸豐10年清廷下詔設立的「總理各國事務衙門」，其目的為何？  
(A)統籌涉外事務推行新政 (B)負責逮捕犯罪分子 (C)培養翻譯外交人才 (D)建立新式國防。
12. (D) 自強運動期間，已有人倡議英國式的議會制度，但皆未被清廷所接納。直到哪一個事件後，朝野要求立憲的聲勢更大，清廷為安撫當時的輿論，並遏止革命勢力的擴張，才下詔預備立憲？  
(A)清法戰爭 (B)甲午戰爭 (C)八國聯軍 (D)日俄戰爭。
13. (C) 清朝統治者以少數民族之姿統治大多數的漢人，導致清朝統治者在治理帝國上特別小心謹慎，一方面採取懷柔政策，一方面也使用高壓手段。下列何者不是清初採用的手段之一？  
(A)舉行科舉制度 (B)大興文字獄 (C)允許傳教士來華 (D)薙髮留辮。
14. (B) 清末以來，近代西方思潮傳入中國後，知識分子開始省思傳統社會的男女地位。下列何者逐漸成為清末民初社會主要現象？  
(A)政府與民間堅守男尊女卑 (B)男女平等觀念逐漸傳布 (C)女性就業人數逐漸減少 (D)女性成為工廠作業員的主力。
15. (A) 「清末時，這座城市連接中俄之間交通要道，導致城市中隨處可見俄式建築及餐飲。」請問：上述的這座城市是下列何者？  
(A)哈爾濱 (B)北京 (C)上海 (D)廣州。