

屏東縣立明正國中 113 學年度第一學期七年級【社會領域】補考題庫

【歷史】

- (D) 1. 被稱為「國姓爺」的是下列何人？(A) 鄭芝龍 (B) 鄭經 (C) 鄭克塽 (D) 鄭成功。
- (A) 2. 學者從語言學的研究中發現，在全球南島語族分布中，下列何者是南島語族分布的最北端？(A) 台灣 (B) 紐西蘭 (C) 印尼 (D) 馬達加斯加。
- (B) 3. 下列何者是舊石器時代的代表文化？(A) 卑南文化 (B) 長濱文化 (C) 圓山文化 (D) 十三行文化。
- (D) 4. 荷蘭人以台灣作為國際貿易的轉運站，下列何者是台灣自產的商品？(A) 瓷器 (B) 絲織品 (C) 香料 (D) 鹿皮。
- (C) 5. 西元 1633 年日本實施鎖國政策，只准荷蘭人和中國人到何處港口貿易？(A) 雞籠 (B) 澳門 (C) 長崎 (D) 打狗。
- (B) 6. 鄭氏時期，何人及其部落因多次反抗，遭鄭軍強力鎮壓，勢力最後衰微？(A) 郭懷一 (B) 大肚王 (C) 沈有容 (D) 施琅
- (B) 7. 台灣歷史上在哪一個時期，官方稱原住民是「生番」和「熟番」？(A) 明帝國時期 (B) 清帝國時期 (C) 日治時期 (D) 中華民國時期。
- (B) 8. 康熙 23 年，清廷將台灣納入版圖，設一府三縣，隸屬於哪一省管轄？(A) 廣東省 (B) 福建省 (C) 台灣省 (D) 浙江省。
- (C) 9. 金屬器時代的文化主要以何者為代表？(A) 長濱文化 (B) 大坌坑文化 (C) 十三行文化 (D) 卑南文化。
- (A) 10. 鄭氏政權是因為驅逐哪一個政權而建立的？(A) 荷蘭 (B) 西班牙 (C) 葡萄牙 (D) 英國。
- (C) 11. 台灣歷史上首度出現的原住民文字，指的是下列何者？(A) 米蘭詔書 (B) 台灣府志 (C) 新港文書 (D) 羅馬文書。
- (C) 12. 清廷在發生了哪一個事件之後，決定把台灣改建為省？(A) 牡丹社事件 (B) 鴉片戰爭 (C) 清法戰爭 (D) 英法聯軍。
- (A) 13. 驅逐荷蘭人建立台灣第一個漢人政權是下列何人？(A) 鄭成功 (B) 鄭芝龍 (C) 鄭經 (D) 鄭克塽。
- (B) 14. 清帝國時期，來自泉州的漢人移民大多信仰下列哪一個鄉土神？(A) 三山國王 (B) 清水祖師 (C) 溫府王爺 (D) 開漳聖王。
- (B) 15. 清廷宣布台灣設省，任命誰為首任巡撫，積極推動各項改革及建設？(A) 邵友濂 (B) 劉銘傳 (C) 沈葆楨 (D) 丁日昌。
- (D) 16. 清廷經營台灣，陸續設置地方行政單位。下列哪一行政區最晚設立？(A) 淡水廳 (B) 彰化縣 (C) 諸羅縣 (D) 噶瑪蘭廳。
- (B) 17. 台灣原住民中唯一分布在離島的海洋民族，擅長與海為伍的下列何者？(A) 鄒族 (B) 達悟族 (C) 排灣族 (D) 阿美族。
- (A) 18. 16 世紀起，葡萄牙人佔領下列何地，作為在東亞的貿易據點？(A) 澳門 (B) 香港 (C) 台灣 (D) 澎湖。
- (D) 19. 17 世紀初荷蘭東印度公司的商隊曾佔領澎湖，但最後被明朝哪一位將領逼退？(A) 鄭成功 (B) 鄭芝龍 (C) 顏思齊 (D) 沈有容。
- (C) 20. 清初台灣與中國之間的貿易，最初以下列何者為唯一合法的港口？(A) 八里坌 (B) 鹿港 (C) 鹿耳門 (D) 打狗。

【地理】

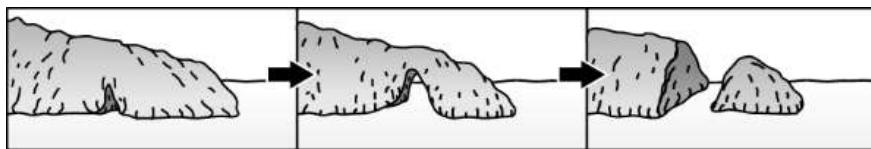
- (B) 1. 下列敘述中，何者屬於「相對位置」？(A) 麥當勞位於中華路與林森路交叉路口 (B) 新光三越位於臺灣銀行的正北方 (C) 西堤餐廳位於民族路 450 號 (D) 臺東縣位於東經 121°、北緯 23° 的位置上。
- (B) 2. 臺灣 (25°N, 120°E) 晚上 8 點正在直播世界棒球經典賽，在海外觀看實況直播的粉絲美好，表示

現在正要叫午餐外送來邊吃邊看球賽。由所在位置判斷，她最有可能在下列哪個國家？(A)菲律賓 (10°N, 120°E) (B)英國 (51°N, 0°) (C)澳洲 (35°S, 135°E) (D)美國 (33°N, 90°W)。

- (B)3、小明將臺北捷運路網圖與臺灣北部行政區圖以捷運淡水站為基準點套疊，顯示如附圖所示的現象：路網圖中各站位置與行政區圖中的實際位置並不一致。造成上述現象的原因最可能為下列何者？
 (A)路網圖為被簡化過的地圖 (B)路網圖的比例尺較行政區圖大 (C)路網圖涵蓋的範圍較行政區圖大 (D)路網圖繪製的時間較行政區圖早。

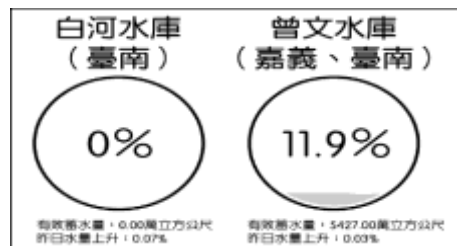


- (A)4、知名編劇小林，將全球人口與海陸分布的概念編入劇本中，電影上映後卻招來影評的批評，認為部分片段的內容有誤，導致觀眾誤解。影評所指的內容應是下列何者？(A)沒想到全世界的人，多集中在南半球 (B)不論在北半球或南半球，看到的海洋都比陸地多 (C)廣闊的陸地只占地表總面積約 30%，看來地球是個水世界 (D)北半球的陸地比南半球多，徒步走完一趟的時間比在南半球還久。
- (A)5、「風中旅者——生態影片放映會」耗時 2 年攝製而成的生態影片，可藉以完整了解黑面琵鷺生態習性、遷徙、國內外相關保育過程。上述生物是受到哪一因素影響而遷徙？(A)氣候過渡位置 (B)海陸交會位置 (C)具較多特有種 (D)地形起伏落差大。
- (A)6、陸地為人類主要的生活空間，全球共分為七大洲。請問：下列哪一洲的位置全位於北半球？(A)歐洲 (B)亞洲 (C)非洲 (D)大洋洲。
- (D)7、地表會受到各種地形作用力的影響而呈現出多樣化的景觀，附圖為某地沿海岩石形成示意圖。形成這種景觀的原因為何？(A)內營力—火山活動 (B)內營力—地殼變動 (C)外營力—風力堆積 (D)外營力—海水侵蝕。

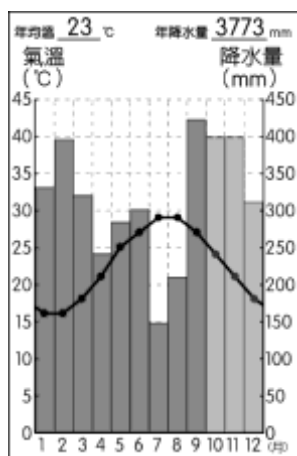


- (B)8、小明來到此地，發現「四周岩壁陡峭，頂部平坦，絕對高度較大，與山地相近。」請問：該地區地形為下列何者？(A)丘陵 (B)高原 (C)台地 (D)盆地。
- (B)9、過去 400 萬年來，已經發生上萬個規模 6 以上地震，才會擠壓出海岸山脈，由於板塊持續推擠，造成多次增高、降低，雖然如此，山脈每年還是會「長高」2 至 3 公分。根據上述地形形成的作用力，與下列何者相同？(A)河川侵蝕高山而出現峽谷 (B)陽明山的小油坑終年冒煙 (C)西部河川交會處的沖積扇 (D)台江內海泥沙淤積成沿海平原。
- (B)10、小華到琉球嶼旅遊，經由導遊帶領前往潮間帶認識豐富的海洋生態，並且介紹當地的自然環境。下列有關琉球嶼的介紹，何者正確？(A)位居於臺灣東側海面上 (B)具有熱帶海洋生態環境 (C)受到火山噴發作用形成 (D)主要為崎嶇的丘陵地形。

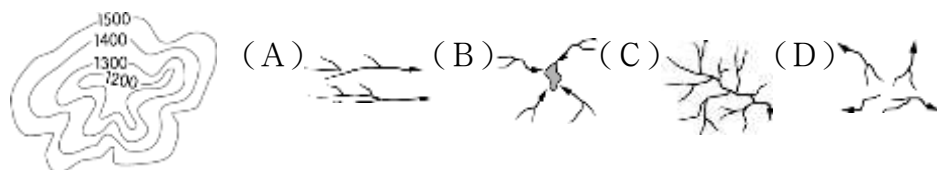
- (D)11、曾有一位詩人於海上航行時，即景作詩一首：「平嘉嶺已逾，雞籠嶼安在？花瓶影沉浮，釣魚沉翠黛。」依內容判斷，當時該詩人應航行於何處海域？(A)臺灣海峽中央(B)巴士海峽附近(C)東沙群島南方(D)臺灣東北方。
- (A)12、臺灣水庫的水源多來自於降水，附圖是位於臺灣南部的兩個水庫在2018年某時段的即時蓄水情形。依據圖中資訊判斷，該訊息的發布時間應為何？(A)4月8日(B)6月25日(C)7月13日(D)9月5日。



- (C)13、氣候圖為判斷一地氣候特色的統計圖，附圖為臺灣某地的測站資料，下列有關此圖的分析，何者正確？(A)年均溫為每月月均溫的總和(B)降水季節為夏雨冬乾的型態(C)該測站應位於臺灣北部地區(D)年溫差可達到攝氏20度以上。



- (D)14、人類可利用的水資源中，蘊藏量最多的為下列何者？(A)海水(B)河水(C)湖水(D)地下水。
- (B)15、河川水系的分布特色受到自然環境的影響而有不同，附圖等高線中的地形區最容易出現何種水系型態？



【公民】

- (C)1. 依據法律的相關規定，人民如具有某國國籍，就是該國的國民。下列哪一個人的敘述，最足以判斷他是中華民國國民？(A)小米：「我的大學學生證號碼是9101016。」(B)大華：「我在總統府擔任外語翻譯的工作。」(C)達力：「下個月縣長選舉時，我有投票權。」(D)阿奇：「我居住在離島，就讀高職一年級。」
- (A)2. 剛開學，老師請同學們自我介紹，依照附圖中小筑的說法，她取得我國國籍的途徑應為下列何者？



- (A)血統原則 (B)出生地原則 (C)歸化取得 (D)後天取得。
- (D)3. 是聯合國於1948年發表的法規，宣示每個人享有基本人權與自由，並不受任何的歧視。上述的

□是指下列何者？ (A)《性別平等教育法》 (B)《性別工作平等法》 (C)《性騷擾防治法》 (D)《世界人權宣言》。

(D)4.由附圖中的對話判斷，該公司的政策已違反下列哪一項法令？



(A)《性別平等教育法》 (B)《性騷擾防治法》 (C)《公民投票法》 (D)《性別工作平等法》。

(B)5.下列四位同學介紹自己的家庭型態，哪一位同學的家庭型態是「大家庭」？ (A)銘傑：我們家人口簡單，就只有爸爸、媽媽和我一起住 (B)阿茂：爺爺是我們家的大家長，伯父一家人也和我們同住 (C)曉莉：我爸媽已經離婚，現在我和媽媽相依為命 (D)采潔：外婆和我們一起住，她每天都會來接我放學，做飯給我吃。

(C)6.小英每天上課都在打瞌睡，因為她家境清寒，晚上都到美容院幫人洗頭賺錢來貼補家用，並替自己和弟妹籌措學費。根據上述可知，小英要能好好就學，必須先改善其家庭的哪一項功能？ (A)保護與照顧功能 (B)教育功能 (C)經濟功能 (D)生育功能。

(B)7.根據附圖中的情境判斷，兩人應該前往下列哪一單位辦理？



(A)社會局 (B)法院 (C)派出所 (D)里長辦公室。

(C)8.«少子化»、「高齡社會»是我國社會面臨的現象，下列何種措施較無助於解決此類的家庭難題？

(A)辦理課後照顧 (B)提供托育補助 (C)開辦新住民生活適應班 (D)推動長者交通接送服務。

(A)9.四位同學正在介紹自己在班會所擔任的角色，下列哪一位是主席？



(B)10.幾位同學正在討論期末話劇表演的劇本，內容是關於師生關係，下列哪一位同學的版本符合友善校園的描述？



(B)11.玉祥負責整理同學們蒐集到的原住民族資料，以下這篇應該放在哪一個分類文件夾中？

族人在溪流中以自然素材製作讓魚類棲息的陷阱網，魚類可自由進出、棲息，不影響牠們的繁衍。若族人需要吃魚時，秉持吃多少、捕多少的原則，而且不捕食小魚。

(A)祭神慶典 (B)生態平衡 (C)部落會議 (D)身分認同。

(B)12.珮瑤剪貼以下一則地方新聞給族人做為參考，新聞中所述與下列何種部落發展方式較相似？

地方萬花筒

布莊與部落的藝工師傅合作，幫忙販售他們製作的傳統原住民族服飾和配件飾品，讓許多族人增加收入。

(A)落實部落會議組織，奠定原住民族自治基礎 (B)發展部落經濟產業，促進部落就業機會
(C)強化生活照顧功能，推動健康部落生活 (D)營造民族生活環境，建構部落安全場域。