

## 明正國中 112 學年度第一學期八年級【社會領域】補考題庫

### 【歷史】

- (A) 1. 東周時期，秦國以何人實施變法，因而奠下強盛的基礎？(A) 商鞅 (B) 沈葆楨 (C) 陳永華 (D) 鄭成功。
- (C) 2. 中國古代的統治者原稱為「王」，但在哪一個時期之後，改稱為「帝」？(A) 商代 (B) 周代 (C) 秦代 (D) 漢代。
- (C) 3. 中國自隋代開始，採取哪一種方法作為選才任官的方法？(A) 察舉選才辦法 (B) 九品官人之法 (C) 科舉制度 (D) 舉辦高普考。
- (B) 4. 魏晉南北朝時代，控制朝廷地方政治大權，並享有減免賦役特權的是哪一階層？(A) 士人 (B) 世族 (C) 僧侶 (D) 商賈。
- (C) 5. 中國造紙術的西傳，和唐代與哪一國的戰役有關？(A) 吐蕃 (B) 新羅 (C) 大食 (D) 日本。
- (B) 6. 唐代何人不但促進漢藏文化的交流，也有助於佛教在西藏的發展？(A) 玄奘 (B) 文成公主 (C) 張騫 (D) 李白
- (A) 7. 明末清初，中西文化交流的媒介是哪一教派的傳教士？(A) 耶穌會 (B) 長老教會 (C) 道明會 (D) 路德教派。
- (C) 8. 下列何著是慈禧太后首次下令推行的改革運動？(A) 戊戌變法 (B) 自強運動 (C) 庚子後新政 (D) 立憲運動。
- (B) 9. 蒙古帝國幅原廣大，貿易興盛，帝國的何種設置，促進東西陸路貿易往來？(A) 市舶司 (B) 驛站 (C) 坊市 (D) 商幫。
- (C) 10. 今日所見長城，為明代所修築，明代長城，是為了防禦北方哪一個民族？(A) 契丹 (B) 女真 (C) 蒙古 (D) 匈奴。
- (D) 11. 蒙古人的崛起，應與下列何人有關？(A) 馬可波羅 (B) 沈括 (C) 張擇端 (D) 成吉思汗。
- (A) 12. 中國皇帝將傳教士逐出中國，除了因傳教士涉及宮廷的政爭外，還因為何種原因？(A) 禮儀之爭 (B) 冊封失敗 (C) 通商失敗 (D) 排斥西學。
- (D) 13. 下列哪一民族在隋唐時期是中國北方的主要外患？(A) 匈奴 (B) 鮮卑 (C) 吐蕃 (D) 突厥。
- (C) 14. 古代中國經濟與文化重心在北方，應於下列哪一個時期逐漸南移？(A) 東周 (B) 秦漢 (C) 魏晉 (D) 隋唐。
- (A) 15. 漢武帝曾派張騫出使西域，是從當時哪個城市出發？(A) 長安 (B) 洛陽 (C) 武威 (D) 酒泉。
- (B) 16. 大寶在元朝時任財政職務，請問他的身分最可能是哪一種？(A) 蒙古人 (B) 色目人 (C) 漢人 (D) 南人。
- (D) 17. 蒙古人的崛起，應與下列何人有關？(A) 馬可波羅 (B) 忽必烈 (C) 張擇端 (D) 鐵木真。
- (D) 18. 下列何著是第一個統一中國的草原民族？(A) 契丹 (B) 黨項 (C) 女真 (D) 蒙古。
- (D) 19. 在光緒年間，清朝與日本曾因哪一國的國際事務而爆發戰爭？(A) 大食 (B) 吐蕃 (C) 越南 (D) 朝鮮。
- (D) 20. 楊堅結束魏晉南北朝的分裂局面，由此可知他是哪一朝代的開創者？(A) 東周 (B) 北魏 (C) 西晉 (D) 隋代。

### 【地理】

- (D) 1. 中國龐大的消費能力，使阿里巴巴、淘寶等網路購物平臺在中國蓬勃發展，這是何種交易活動的興起？(A) 批發 (B) 零售 (C) 量販店 (D) 電子商務。
- (A) 2. 根據中國國家統計局所發布的報告顯示，2018 年在珠江三角洲地區就業的農民有 4536 萬人，為當地重要的勞力來源。上述大量農民前往都市就業，其主要原因為下列何者？(A) 農民收入偏低 (B) 農村人口過多 (C) 農產品多元化 (D) 推廣機械耕作。
- (D) 3. 受到太陽輻射影響，中國夏季各地普遍高溫。請問：盛夏季節時，附圖中哪一個地方的溫度較低？(A) 甲 (B) 乙 (C) 丙 (D) 丁。




- (A) 4. 重慶、武漢及上海分別為長江上游至下游的重要都市，這三個長江沿岸都市中，所屬的經濟帶產值由高到低排列，下列何者正確？(A) 東部上海 > 中部武漢 > 西部重慶 (B) 西部重慶 > 中部武漢 > 東部上海 (C) 東部上海 > 西部重慶 > 中部武漢 (D) 西部重慶 > 東部上海 > 中部武漢。

- (C)5、中國各地的地理環境不同，影響其農牧業活動的發展。請問：老王到附圖中的丁處旅遊，見到其農業活動的進行，這和當地具備何種條件有關？(A)年降水量豐富(B)沖積土壤肥沃(C)綠洲水源豐富(D)農業勞力充足。



- (C)6、中國自實施新的勞工法規後，企業的勞力成本大幅增加。此時中國境內哪一個經濟區因為工資相對低廉，又處於東西交通的中樞位置，且資源豐富，成為今日外資積極投資的新興地區？(A)東北地區(B)東部地區(C)中部地區(D)西部地區。

- (D)7、中國經濟發展的過程中，對外貿易順差成為重要外匯來源。請問：關於附圖的貿易曲線圖，下列何者敘述正確？(A)甲—出口總額；乙—進口總額；丙—貿易總額(B)甲—進口總額；乙—貿易總額；丙—出口總額(C)甲—貿易總額；乙—進口總額；丙—出口總額(D)甲—貿易總額；乙—出口總額；丙—進口總額。

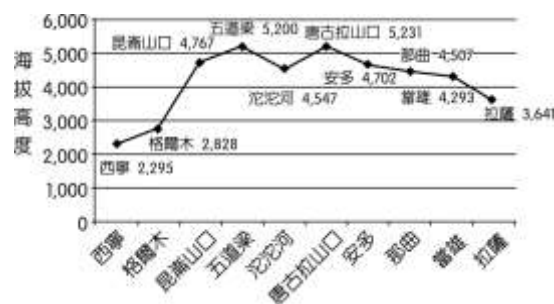


- (D)8、中國自 1980 年代實施經濟改革開放以後，市場需求出現改變，導致農作物的生產出現下列哪一種變化？(A)經濟作物改種糧食作物(B)溫帶作物改種熱帶作物(C)作物進口改為作物出口(D)糧食作物改種經濟作物。

- (B)9、附圖為報紙的一部分，由報導的內容可以看出當時中國具有下列哪一項優越的區位條件？(A)原料豐富(B)市場廣大(C)科技發達(D)勞工充足。



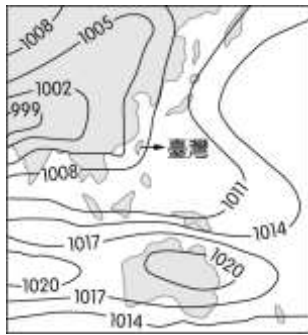
- (C)10、青藏鐵路是全球海拔高度最高的鐵路，因此鐵道部發出「高原旅客提示」，提醒有心臟病、慢性呼吸系統疾病等病史的旅客不宜乘坐，以避免路程的海拔高度變化導致高山症。附圖為青藏鐵路行經各站的海拔高度變化圖，由左至右的方位應為何？(A)由西向東(B)由南向北(C)由東向西(D)由北向南。



- (C)11、中國稻米之父袁隆平與其團隊長期研究海水稻米的育種，並已在中國各地設立示範區，通過改良稻米的耐鹽鹼性有助改善中國境內 15 億畝鹽鹼地的糧食困境。中國目前出現此困境的原因與下列何者最相關？(A)土壤液化(B)農村

人口外流(C)環境負載力降低(D)極端氣候災害頻發。

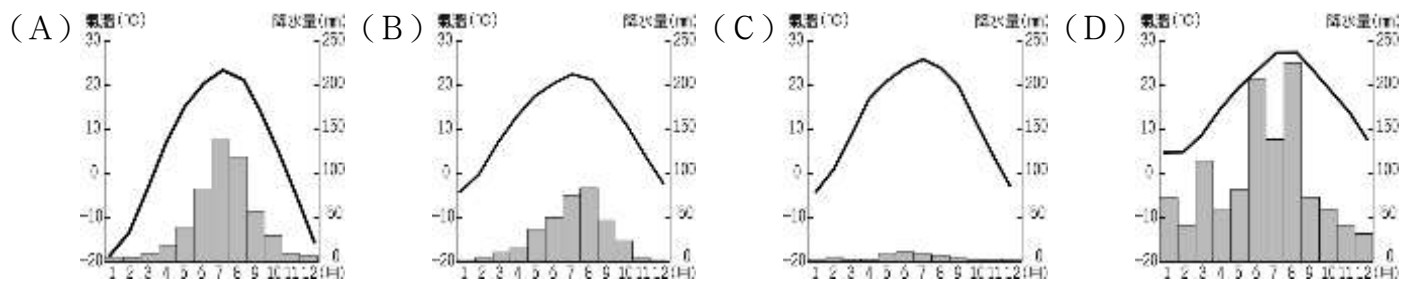
(D)12、中國的氣候受到海陸性質的影響，形成季節性的差異。附圖為某時間的地面天氣圖。請問：此時北京盛行的風向性質為何？(A)西北風；乾燥氣流(B)東南風；乾燥氣流(C)西南風；溼潤氣流(D)東南風；溼潤氣流。



(D)13、王同學想要到中國遊學，尋找了當地的氣候資料，如附表所示，請根據表中資料加以判斷，當地的氣候類型應該為何？(A)高地氣候(B)溫帶草原氣候(C)熱帶季風氣候(D)溫帶季風氣候。

月分	1月	2月	3月	4月	5月	6月
月均溫(°C)	-3.7	-0.7	5.8	14.2	19.9	24.4
降水量(mm)	3	5	8	21	34	78
月分	7月	8月	9月	10月	11月	12月
月均溫(°C)	26.2	24.8	20.0	13.1	4.6	-1.5
降水量(mm)	185	160	46	22	7	3

(C)14、中國境內人口分布受到自然環境的影響，綠洲為人口稠密的地區，主要分布於何種氣候區？



(B)15、朝鮮半島因天氣寒冷，居民都有醃製泡菜的習慣及當地傳統民居韓屋會設置何種設施取暖？(A)火爐(B)溫突(C)壁爐(D)電暖器。

(C)16、2021年6月麥當勞推出與南韓知名男團BTS的聯名特餐，不僅讓南韓麥當勞的雞塊銷量激增283%，網路上甚有人高價兜售套餐包裝紙，掀起了BTS特餐旋風。南韓蓬勃發展向外輸出的娛樂影視產業屬於第幾級產業？(A)一(B)二(C)三(D)四。

(B)17、附圖是日本的蛋包飯及日文發音，由圖可見日本文化具有何種特色？(A)單一性(B)多元性(C)傳統性(D)專業性。



(D)18、南韓的影視產品在亞洲掀起一陣韓流熱潮，相關的娛樂產品在亞洲國家大賣。請問：對於下列何項產業的助益最大？(A)電子業(B)資訊業(C)農牧業(D)觀光業。

(B)19、依據2004年的資料，南韓的平均國民所得為14,162美元，與北韓的平均國民所得914美元有很大的差距。小賴想用不同因素來解釋南、北韓的經濟發展差異，如附表所示，其中哪一個因素無法解釋上述差異？(A)氣候條件(B)礦產資源(C)經濟制度(D)貿易總值。

國家	南韓	北韓
氣候條件	生長季長	生長季短
產資源	少	多
濟制度	偏市場經濟	偏計畫經濟 (統制經濟)
易總值	高	低

(C)20、日本的工業區多集中於交通便利之處，主要分布於下列何處？(A)填海造陸機場(B)日本海附近港口(C)太平洋岸港口(D)高速公路沿線。

### 【公民】

- (C) 地方自治乃是為了因應各地不同需求，由當地人士組成自治機關，以貼近地方特色。地方自治在權限上享有哪些權力？  
(A)司法權、立法權 (B)立法權、考試權 (C)行政權、立法權 (D)行政權、監察權
- (B) 發展各地的觀光業，通常是由當地地方政府來推動，這是因為觀光業具有何種性質？  
(A)國際化性質 (B)因地制宜性質 (C)全國一致性質 (D)中央統籌規畫性質
- (C) 馬祖利用投票決定開放觀光賭場，以爭取更多基礎建設。上述投票過程是受我國哪一項法律規範？  
(A)《地方制度法》 (B)《勞動基準法》(C)《公民投票法》 (D)《公職人員選舉罷免法》
- (D) 《公職人員選舉罷免法》規定，禁止選民攜帶照相手機進入投開票所，此乃為防範有人公開投票內容。以上敘述符合哪項選舉原則？  
(A)普通 (B)平等 (C)直接 (D)無記名
- (A) 青年學子為爭取《憲法》保障的人民基本權利，可能上街進行集會活動，例如：318太陽花學運。上述青年學子的行為，最可能是屬於下列何種概念的展現？  
(A)政治參與 (B)政黨輪替 (C)地方自治 (D)權力分立
- (D) 選舉就是依「法」自由投票，選出行政首長或民意代表。此法是指下列何項法律？  
(A)《民法》 (B)《勞動基準法》 (C)《公民投票法》 (D)《公職人員選舉罷免法》
- (C) 任何政治制度的設計，「監督」、「制衡」是非常重要的內涵。下列哪一個單位有權監督地方行政機關的施政？  
(A)花蓮市公所 (B)烏來區公所 (C)臺中市議會 (D)嘉義市政府
- (A) 火鍋店老闆因為不滿南韓跆拳道選手在東亞運比賽中違規搞小動作，在店外貼出「禁止韓國人入內」的告示。請問：該行為可能侵犯了下列哪一種基本人權？  
(A)平等權 (B)自由權 (C)受益權 (D)參政權
- (C) 「權力使人腐化，絕對的權力，絕對的腐化。」這句話運用在政府體制中，可說明下列何者的重要性？  
(A)法治政治 (B)民意政治 (C)分權制衡 (D)主權在民
- (D) 我國中央政府組織根據法律規定，畫分成五院，分別為行政、立法、司法、考試、監察。請問：這是根據下列哪一項法律的規定？  
(A)《公民投票法》 (B)《中央法規標準法》 (C)《國民教育法》 (D)《中華民國憲法》
- (A) 中央政府因應新型冠狀病毒疫情提出紓困方案，希望提振國內經濟，減緩失業率的增加。請問：此專案是由下列哪一機關負責執行？  
(A)行政院 (B)立法院 (C)總統府 (D)司法院
- (C) 目前我國正、副總統的任期限制，下列何者正確？  
(A)任期4年，連選連任 (B)任期6年，連選連任(C)任期4年，連選得連任一次(D)任期6年，連選得連任一次
- (C) 某檢察官由於其行為不當，並違反檢察官守則等規定，因此法務部將召開委員會議，擬將該名檢察官移送懲戒法院。懲戒法院隸屬於下列何者？  
(A)監察院 (B)行政院 (C)司法院 (D)立法院
- (C) 在臺北市政府工作的葉先生即將於年底退休，他想要了解退休金的計算。如果葉先生想要詳細的資料，應該向政府哪一個機關詢問？  
(A)行政院 (B)立法院 (C)考試院 (D)監察院
- (A) 下列哪一個中央政府機關，負責國家政策的規畫與執行，業務範圍與我們的生活密切相關，包括內政、教育、經濟、法務等事務？  
(A)行政院 (B)立法院 (C)司法院 (D)監察院