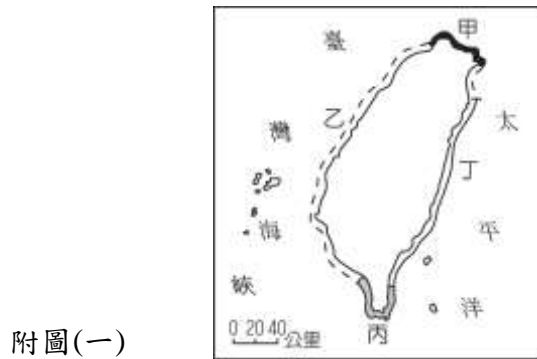



明正國中 112 學年度第一學期七年級【社會領域】補考題庫

【地理】

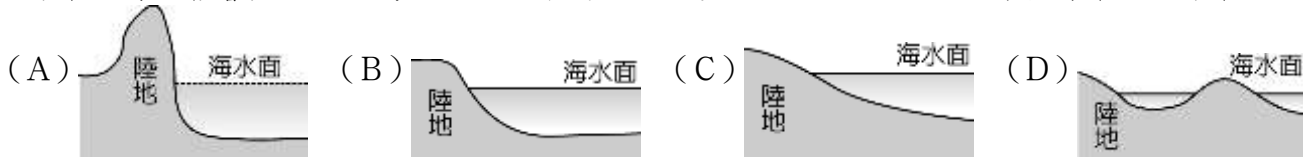
- (B)1、阿翔喜歡在走路上學途中玩「寶可夢」的抓寶遊戲，自己還利用手邊現有的紙本地圖記下抓到怪獸的位置。請問：阿翔應該使用下列何種地圖所標示出來的地點最為精確？(A)世界行政區圖(B)理想鎮街道圖(C)臺灣地形圖(D)臺南市觀光地圖。
- (C)2、小名從小在海邊長大，該地區四季皆夏，海水清澈，海中的生物極為珍貴，每逢假日便有許多遊客到此觀光，從事浮潛等活動。請問：小名生長的地方最可能為何種海岸地形？(A)斷層(B)岬灣(C)珊瑚礁(D)沙岸。
- (B)3、臺灣珊瑚礁島的分布地區，多位於南部。請問：主要的原因為下列何者？(A)地勢較高(B)溫暖水域(C)板塊擠壓(D)河川堆積。
- (D)4、附圖(一)為臺灣的四段海岸線示意圖，哪一段因位處板塊交接帶，斷層緊逼海岸，海浪侵蝕劇烈，而多形成氣勢雄偉的懸崖峭壁？(A)甲(B)乙(C)丙(D)丁。



- (A)5、琳達是衛斯里女子學院的新生，剛開學時，她要到行政大樓的總務處繳交註冊費。請問：她應該轉向何方前往總務處？(A)東方(B)南方(C)北方(D)西北方。



- (B)6、海岸的特性影響其利用甚為明顯，如果要設立大型漁船進出的港口，則下列哪一個海岸地形最為合適？



- (C)7、臺灣受到自然環境的因素影響，境內的水庫數量相當多。附表(一)為南部水庫近年來所面臨的相關問題。請問：造成這種現象的主要原因為何？(A)河川水位變化大(B)河川流域長度短(C)河川水源含沙量大(D)河川流速水流湍急。

南部水庫淤積率一覽表

水庫	原設計總容量 (立方公尺)	現有容量 (立方公尺)	蓄水率 (4/6)	淤積率
曾文	7 億 4,840 萬	4 億 7,330 萬	21.50%	36.8%
南化	1 億 5,805 萬	9,793 萬	28.01%	38.0%
烏山頭	1 億 5,415 萬	7,982 萬	68.63%	48.2%

附表(一)

- (A)8、小英在觀測臺灣的衛星影像圖，她由嘉義出發，沿著北回歸線來到花蓮，其所觀測到的山脈未包括下列何者？(A)雪山山脈(B)玉山山脈(C)海岸山脈(D)中央山脈。
- (D)9、高老師帶領同學到陽明山做田野調查，為了讓同學熟悉陽明山的地形環境，他以(A1, D2)等方式，要同學在地圖上圈出七星山、遊客中心等重要的地標。請問：這種表示位置的方法稱為下列何者？(A)地理方位(B)經緯座標(C)相對位置(D)網格座標。
- (B)10、小明來到此地，發現「四周岩壁陡峭，頂部平坦，絕對高度較大，與山地相近。」請問：該地區地形為下列何者？(A)丘陵(B)高原(C)台地(D)盆地。

- (B)11、地表的高低起伏受到內營力的因素影響，形成不同的特色。請問：通常受板塊擠壓而形成的大陸因為具備下列何種特性，因此通常在繪製該地區的分層設色圖時，將呈現出最多不同的顏色？(A)坡度陡峭(B)地勢起伏(C)火山分布(D)地震活動。
- (C)12、下列有關亞洲的敘述，何者較不正確？(A)面積最為廣大(B)與歐洲相連(C)全位於北半球(D)未接鄰大西洋。
- (B)13、臺灣大多數河川的流量變化極大，下列何者為其主要的因素？(A)地勢陡峭(B)降水季節分布不均(C)山脈南北走向(D)主要山地分布於中央偏東。
- (D)14、綠島的朝日溫泉，泉水自海岸邊的礁石湧出，形成位於海裡的露天溫泉浴場。請問：其成因最可能是下列何者？(A)大陸棚廣大(B)珊瑚礁廣布(C)黑潮暖流經過(D)位於板塊接觸帶上。
- (B)15、高屏溪為我國流域面積最廣的河川，在其上游河川出口地區出現如附圖(二)中的地形景觀，請問：造成這種地形的主要原因為何？(A)坡度變陡(B)流速變慢(C)泥沙減少(D)侵蝕力強。



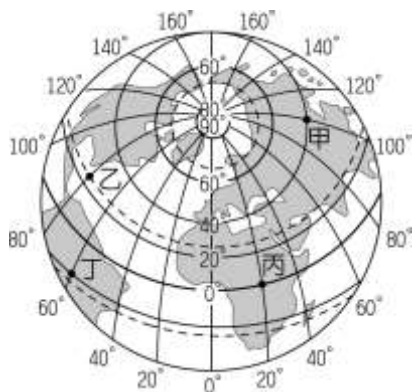
附圖(二)

- (A)16、附圖(三)是希臘籍貨輪於西元 2001 年元月在屏東鵝鑾鼻外海造成重油污染的海域位置示意圖。當時清除海洋油污的工作遭風浪阻礙，進行不易。請問：此風浪主要由下列哪一個風向所引起的？(A)東北風(B)東南風(C)西南風(D)西北風。

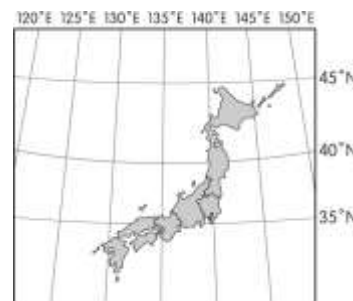


附圖(三)

- (A)17、年溫差通常以最暖月均溫與最冷月均溫的差來加以計算，附圖(四)個地區中，哪兩個地區所採用的最冷月及最暖月的月分大致相同？(A)甲乙(B)丙丁(C)甲丙(D)乙丁。

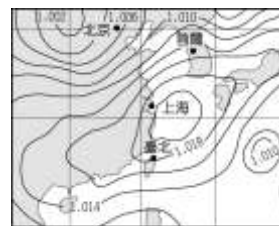
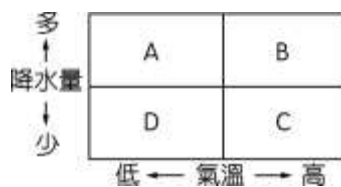


附圖(四)



附圖(五)

- (D)18、某年，日本東北地區受到地震及海嘯的影響，造成相當嚴重的輻射危機。若此時盛行西風，則附圖(五)中哪一個地區受到的威脅最大？(A)東經 120 度、北緯 40 度(B)西經 160 度、北緯 40 度(C)東經 150 度、南緯 20 度(D)東經 160 度、北緯 40 度。
- (D)19、氣候特性會影響一地區水資源的多寡，附圖中哪一個地區的蒸發量最低，因此水資源總量的變化量較少？(A)A(B)B(C)C(D)D。



附圖(六)

- (C)20、附圖(六)為東亞地區某時期的氣壓圖，請試由圖中資料判斷，下列何者敘述正確？(A)中國為高氣壓中心(B)陸地氣溫較海上低(C)盛行海風水氣較豐沛(D)上海附近空氣上升氣壓高。

【歷史】

- (C) 某個語系包含有 1,200 種以上的語言，人口多數居住在東南亞地區，分布區域東達復活節島，西到馬達加斯加島，南至紐西蘭，最北端則為臺灣。上文所述的語系應為下列何者？(A)印歐語系 (B)阿爾泰語系 (C)南島語系 (D)漢藏語系。
- (D) 「新港文書」是研究臺灣歷史發展的重要文獻，這批文獻的書寫文字曾在今臺南附近流傳一百多年。這種文字的起源為何？(A)是原住民參考漢字改編而創設的文字 (B)是西班牙人為了教育原住民所簡化的文字 (C)是漢人來臺灣後，融合當地原住民方言所形成的文字 (D)是荷蘭人用羅馬字母拼寫原住民語言而成的文字。
- (D) 16 世紀的臺灣為何成為國際競爭的重要據點？(A)臺灣島內農產豐富 (B)歐洲人稱呼臺灣為「美麗之島」，使得臺灣聲名大噪 (C)臺灣島上並無統一政權，各國都想掠奪臺灣的礦產資源 (D)臺灣的地理位置恰好位於東亞國際貿易航線的中央。
- (C) 喜勤在臺中市的土牛國小中看到「土牛禁墾碑」，若依所學的歷史知識判斷，下列有關此碑的內容敘述何者正確？(A)立碑時間為鄭經時期 (B)立碑是受到當時實施海禁政策的影響 (C)碑文註明挖一深溝為界，漢人不得越界墾墾 (D)立碑的目的是為了隔離海商的侵擾。
- (B) 17 世紀初，荷蘭曾企圖占領下列何處，後來為明朝將領沈有容所逼退？(A)臺灣 (B)澎湖 (C)金門 (D)馬祖。
- (A) 小玲在寫臺灣史報告時，老師曾建議她參考一份歷史文獻，名為《巴達維亞日記》。請問：這份歷史報告的題目最可能是下列何者？(A)荷蘭統治時期的臺灣 (B)鄭氏政權時期的臺灣 (C)清帝國時期的臺灣 (D)西班牙時期的臺灣。
- (A) 清帝國流傳的俗諺：「一府二鹿三艋舺」，這句話反映了下列臺灣的何種狀態？(A)臺灣開發的先後順序 (B)臺灣官治設立的先後 (C)臺灣原住民的三大部落 (D)臺灣的陸路交通要衝。
- (C) 清帝國時期，施世榜繼承父業開墾土地，費時十年，建八堡圳，圳水可供當地十三堡中之八堡灌溉。請問：此圳是位於今日的何處？(A)臺北 (B)臺中 (C)彰化 (D)高雄。
- (C) 嘉慶年間，海盜侵擾蛤仔難，平定後，清廷在此地設立哪一行政區加強治理？(A)淡水廳 (B)宜蘭縣 (C)噶瑪蘭廳 (D)諸羅縣。
- (D) 位於臺北的二二八和平公園中，陳列有臺灣最早的火車頭「騰雲號」，它令我們緬懷清末對臺灣近代化貢獻最大的哪一位巡撫？(A)鄭經 (B)沈葆楨 (C)施琅 (D)劉銘傳。
- (A) 洪賦與清銘是清帝國時期的臺灣商人，分別屬於「泉郊」和「廈郊」。請問：這種區分的方式，是以何者為標準？(A)貿易區域 (B)貿易商品 (C)居住的地區 (D)祖籍。
- (C) 清帝國統治臺灣時期，社會有「三年一小反，五年一大亂」之說法，其中發生在乾隆年間，為天地會黨起義，事件幾乎擴及全臺，清朝派出福康安率領大軍，歷時 14 個月才平定，之後還以「嘉勉義行」的名義把諸羅縣改為嘉義縣。請問：上文所述為哪一事件？(A)朱一貴事件 (B)戴潮春事件 (C)林爽文事件 (D)郭懷一事件。
- (C) 1990 年，中研院於新北市八里區汙水處理廠預定地上，發現陶罐、鐵刀和骨製的矛與魚鈎等器具。請問：這可能是哪一時代的文化遺址？(A)舊石器時代 (B)新石器時代 (C)金屬器時代 (D)青銅器時代。
- (B) 清帝國統治前期，臺灣經常發生分類械鬥的原因有哪些？(甲)祖籍不同；(乙)語言差異；(丙)生存空間的競爭；(丁)官逼民反 (A)甲丙丁 (B)甲乙丙 (C)甲乙丁 (D)乙丙丁。
- (B) 「平埔族」是指居住在平地的原住民，在漢人大量移民來臺後，已逐漸融入漢人社會，在清帝國時期又稱為「熟番」。下列何者屬於「平埔族」？(A)阿美族 (B)凱達格蘭族 (C)泰雅族 (D)賽夏族。
- (B) 小馨在書上看到一張 1879 年繪製的《臺灣前後山全圖》，她觀察到此圖與之前的臺灣地圖相比較，恆春半島各社已有明顯標示，因此判斷圖是因應某事件後的新軍事建置所繪製。請問：上述的「某事件」應為下列何者？(A)英法聯軍之役 (B)牡丹社事件 (C)清法戰爭 (D)甲午戰爭。
- (C) 念祖在清帝國時期渡海來臺開墾，他的祖籍為漳州府。請問：下列哪些神明可能是他主要信仰的對象？(甲)開漳聖王；(乙)清水祖師；(丙)三山國王；(丁)媽祖；(戊)土地公 (A)甲丙戊 (B)乙丁戊 (C)甲丁戊 (D)丙丁戊。
- (B) 清帝國晚期，臺北逐漸成為臺灣的經濟中心，主要是因為下列何者的緣故？(A)洋行的成立 (B)茶的外銷 (C)國際貿易大量入超 (D)甲午戰爭的爆發。
- (D) 荷蘭人來到臺灣之後，先在「大員」修築行政中心「熱蘭遮城」。請問：「大員」、「熱蘭遮城」分別是現在的哪裡？(A)淡水、紅毛城 (B)安平、赤崁樓 (C)高雄、海門天險 (D)安平、安平古堡。
- (C) 下列哪一個旅遊景點在清帝國早期為鳳山縣管轄的範圍？(A)南投九族文化村 (B)臺南曾文水庫 (C)高雄西子灣風景區 (D)嘉義阿里山國家風景區。

【公民】

- (A) 為促進性別平等，我國政府制定了三部法律，俗稱「性平三法」，下列何者並非其中之一？(A)《中華民國憲法》(B)《性騷擾防治法》(C)《性別工作平等法》(D)《性別平等教育法》
- (B) 某位學者提出「玻璃天花板障礙」的理論，意指組織中彷彿針對女性設置了一道看不見的升遷障礙，使其難以晉升到組織高層，原因非關能力，單純只基於性別。前述內容屬於哪種性別不平等的現象？(A)性別刻板印象 (B)性別歧視 (C)性騷擾 (D)性別偏見
- (B) 今年對小翰而言是別具意義的一年，他剛好可以行使人生第一次公民投票權，可惜不能領取民意代表選舉票。依據上述判斷，小翰現年最有可能為幾歲？(A) 16 歲 (B) 18 歲 (C) 20 歲 (D) 23 歲
- (B) 日本籍的雅子，與我國籍的阿強結婚後來臺定居，去年剛完成取得我國國籍的申請手續。關於雅子取得我國國籍的方式，以下敘述何者正確？

- (A)其根據為屬人原則 (B)其取得方式為歸化 (C)其根據為居住地原則 (D)屬於先天的國籍取得途徑
5. (D) 1948年聯合國發表「世界人權宣言」，揭示人類生而自由平等，其用意主要是解決國際社會的哪項問題？
 (A)預防跨國犯罪 (B)擴大區域統合 (C)防止疾病擴散 (D)落實人權保障
6. (D) 臺灣社會因為人口快速老化，使得老人安養成為許多家庭的難題，為因應這種變遷，政府應採取何種措施，以協助民眾照顧老年人？
 (A)倡導敬老尊賢的倫理觀念 (B)運用公權力強制子女奉養
 (C)將老人集中於老人安養院 (D)建構完善的長期照護制度
7. (A) 大仁小時候住在農村的三合院中，家中除了爸爸、媽媽、爺爺、奶奶之外，伯父、伯母、叔叔、嬸嬸、姑姑等親戚都住在一起，以便能互相照應，每天都非常熱鬧。大仁的家庭型態是屬於下列何者？
 (A)大家庭 (B)核心家庭 (C)折衷家庭 (D)主幹家庭
8. (A) 因為雙薪家庭的普及，使得幼兒的照顧成為許多家庭的難題，為因應這種變遷，政府於何種法律中，提供父母育嬰假，以協助民眾照顧幼兒？
 (A)《性別工作平等法》 (B)《家庭暴力防治法》 (C)《民法》 (D)《性別平等教育法》
9. (A) 現代社會生活緊張，許多人抗壓性不足，往往將壓力訴諸暴力發洩在孩子身上。當有這種事情發生時，下列何者可以限制或禁止父母行使親權？
 (A)法院 (B)社會局 (C)警察單位 (D)社會機構
10. (A) 過年圍爐時，大雄和爺爺、爸爸、叔叔、嬸嬸、媽媽、姑姑和弟弟坐在同一桌，這些同桌的親戚當中，和大雄是直系血親的有幾位？
 (A) 3位 (B) 4位 (C) 5位 (D) 6位
11. (B) 2000年，就讀屏東縣高樹國中的葉永鋇，因不同的性別特質遭到校園霸凌而導致後續的意外死亡。請問：這件新聞事件，說明學生在校園中的哪一項權利未被徹底落實？
 (A)隱私權 (B)身體自主權 (C)投票權 (D)學習權與受教育權
12. (A) 我國於2017年通過《原住民族語言發展法》，將原住民族語列為國家語言，並於第一條揭示該法是為了促進原住民族語言之保存與發展，同時保障原住民族語言的使用及傳承。根據上述，該項法案的立法通過，彰顯了下列何種意義？
 (A)珍視原住民族部落特有文化資產 (B)原住民族語言價值高於其他族群
 (C)漢人文化不敵原住民族傳統文化 (D)原住民族成為國內法定特權階級
13. (B) 翰林國中舉辦學習活動期末成果發表會，讓學生能透過活動，展現一年以來的學習成果。請問：該活動是對學生何項權利的保障？
 (A)人格發展權 (B)學習權與受教育權 (C)身體自主權 (D)隱私權
14. (A) 開班會時，有些同學在玩牌、有些同學在吃東西，阿偉認為吵雜聲使他聽不清楚其他人的發言內容，影響到他參與會議的權利。附圖是當日班會的部分過程，阿偉應是在圖中哪一階段要求主席處理上述問題？
 (A)甲 (B)乙 (C)丙 (D)丁
- ```

 graph TD
 A[主席宣布開會] --> B[班級幹部報告]
 B --> C["(甲) 權宜問題"]
 C --> D["(乙) 提案討論"]
 D --> E["(丙) 秩序問題"]
 E --> F["(丁) 臨時動議"]
 F --> G[宣布散會]

```
15. (B) 文化部從105年開始，推動「原住民族村落文化發展計畫」，希望經由政府的協助，協助原住民族保存及延續傳統文化，讓部落永續經營。對於上述政府的做法，下列敘述何者最為正確？  
 (A)扶助弱勢，建立特權階級 (B)尊重族群，保護文化資產  
 (C)認同主流，順應時代變遷 (D)強化施政，減少社會衝突