

# 明正國中 110 學年度第 2 學期 八年級 社會領域 補考題庫

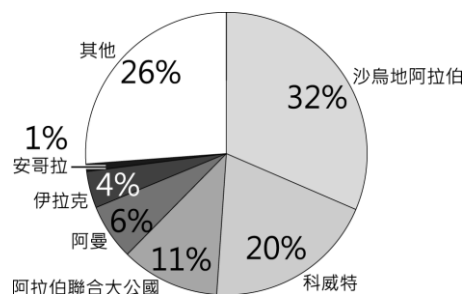
## 地理科題庫

1. (B) 朝鮮半島在二戰後分裂為北韓和南韓兩個政體，大致以北緯 38 度為界，以北是「朝鮮民主主義人民共和國」，以南是「大韓民國」，兩者經濟發展差異大。根據統計，2018 年北韓的貿易總額為 65 億美元，南韓則為 9,020 億美元。炳浩整理了一個表格來解釋南、北韓的經濟發展差異，其中哪個說明有誤？

	北韓	南韓
(A)貿易總額	低	高
(B)礦產資源	缺乏	豐富
(C)經濟制度	共產主義	資本主義
(D)氣候條件	生長季短	生長季長

2. (A) 東協國家近年的經濟發展相當迅速。請問：東協國家發展工業的優勢為何？甲、便宜的勞動力；乙、豐富的資源；丙、完善的交通；丁、高科技技術  
(A)甲乙 (B)乙丙 (C)丙丁 (D)甲丁。
3. (A) 東協十國的宗教信仰多元複雜，除了國際貿易帶來不同的宗教外，也與曾受到西方列強的殖民統治有關，至今殖民歷史仍然影響當地發展。請問：下列哪項東南亞特色與殖民歷史最無關？ (A)大量人民到海外提供勞務 (B)具有天主教信仰及英語等文化 (C)大都市多為鄰近港口的港埠型都市 (D)發展大規模的熱帶栽培業，種植油棕、橡膠等經濟作物。
4. (C) 附圖為 2019 年臺灣原油進口來源國比例圖。請問：在臺灣原油主要進口國中會見到下述哪項景觀？

- (A)氣候炎熱多雨，雨林廣布  
(B)受盛行西風影響，夏雨冬乾  
(C)氣候乾燥，居民傳統衣著寬鬆  
(D)尼羅河三角洲為人口聚集之處。



▲ 2019 年臺灣原油進口來源國比例圖

5. (D) 何者不是日本、南韓皆具有的經濟發展特色？  
(A)原料多需仰賴進口 (B)產品多以外銷世界為主 (C)出口汽車、高科技產品等高單價物品為主 (D)實施共產主義，由國家的力量控制經濟發展。
6. (B) 西亞石油資源對於臺灣的能源供應相當重要，若今天要利用海運從沙烏地阿拉伯丹曼港運送石油到臺灣高雄港，要經過下列那個海峽？  
(A)對馬海峽 (B)麻六甲海峽 (C)直布羅陀海峽(D)波斯普魯斯海峽。



※請閱讀下方文章回答第 7-8 題：

瓦拉納西是印度著名的歷史古城，享有「印度之光」的稱號。信奉甲宗教的教徒們認為在瓦拉納西死去，並在印度人視為「母親之河」的乙河河畔火化，能夠超脫生死輪迴的循環，獲得救贖。此外，他們也相信在這條河川沐浴後，即可洗滌污濁的靈魂。

然而，由於絡繹不絕的信徒在該河川火化與沐浴，加上其他社會變遷，使河川遭受嚴重的汙染，並威脅居民健康，成為印度當局棘手的公共衛生難題。

(參考資料，改寫自羅米塔·薩魯亞，死亡之前的最後住所：印度聖城瓦拉納西，BBC 英倫網，2019/07/06。)

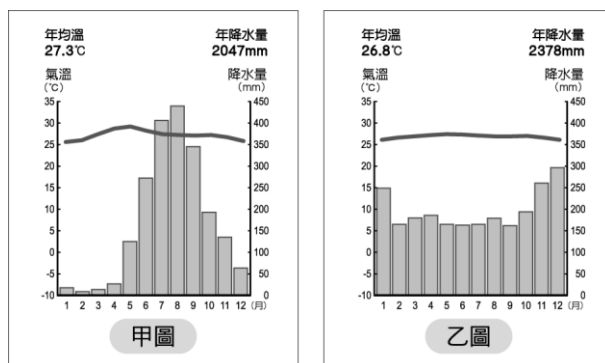


▲印度瓦拉納西的河畔

7. (B) 根據文中的描述，甲完教應為何種宗教？  
 (A)佛教 (B)印度教 (C)伊斯蘭教 (D)基督宗教
8. (A)「在印度人視為『母親之河』的乙河河畔火化，能夠超脫生死輪迴的循環，獲得救贖。」請問：乙河的名稱應為何？ (A)恆河 (B)印度河

※東南亞因大部分位處北回歸線至南緯 10 度之間，太陽長年直射，以熱帶氣候為主。

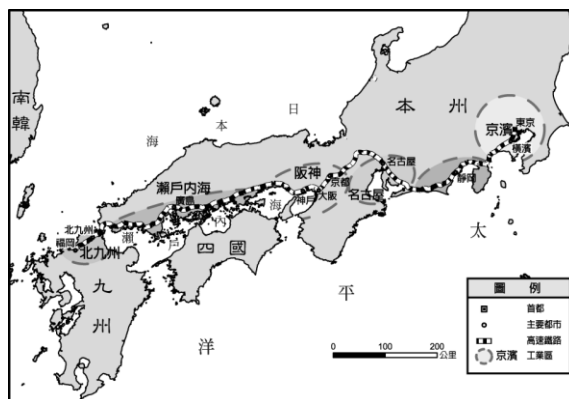
甲、乙圖為東南亞某兩地的氣候圖，請回答第 9-11 題：



▲東南亞某兩地的氣候圖

9. (A) 從甲氣候圖中，可看出該地哪一項氣候特徵？  
 (A)降水季節分布不均 (B)屬於溫帶季風氣候 (C)全年涼爽，四季如春  
 (D)年溫差大，日溫差小
10. (B) 甲圖和乙圖最主要的差異是什麼？  
 (A)年均溫高低 (B)是否有乾季 (C)年溫差大小 (D)年降水量多寡
11. (D) 甲圖的降水季節分布與臺灣哪個縣市最類似？  
 (A)基隆市 (B)桃園市 (C)宜蘭縣 (D)高雄市

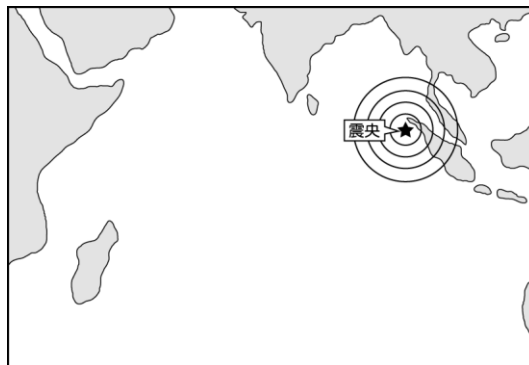
※日本工業區分布的特點有所謂的「三灣一海」。「三灣」是分別位在東京、名古屋、大阪的港灣；「一海」為瀨戶內海。附圖是日本主要工業區分布圖，請回答第 12-13 題：



▲日本主要工業區分布圖

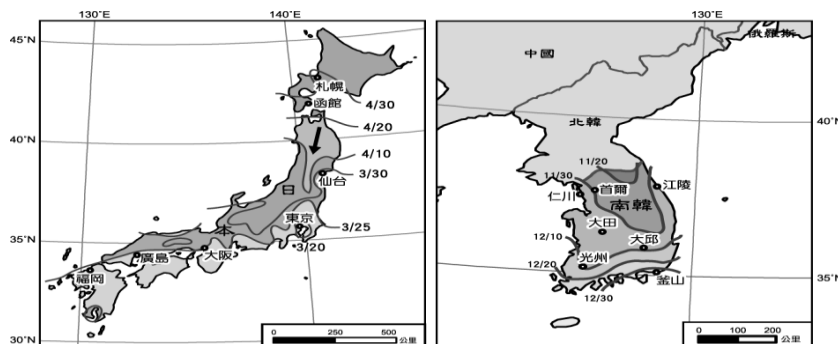
12. (A) 圖中的工業區多集中在沿海地區，可能與哪一個因素有關？  
 (A)能源和原料多依賴進口 (B)日本沿海港闊水深，多天然良港  
 (C)依靠廉價勞力的優勢從事國際代工 (D)曾被歐洲殖民，快速運至歐洲
13. (A) 日本主要工業區多緊鄰什麼海域？  
 (A)太平洋 (B)日本海 (C)大西洋 (D)印度洋

※請 2004 年年底的南亞大海嘯造成周邊國家約 22 萬人喪生，財物損失更高達 25 億美元。附圖為該次災害震央的主要位置，請回答第 14-16 題：



14. (D) 該國若欲和周邊國家進行海嘯預警系統的合作，則其觀測海域最可能為下列何者？ (A)太平洋 (B)北極海 (C)大西洋 (D)印度洋。
15. (D) 該計畫啟動後，所建立的預警系統可在 20 分鐘內偵測出該海域上芮氏規模 6 以上的地震，對於周邊國家的幫助甚大。若根據其觀測海域位置判斷，其尋求合作的對象中不包括下列何者？ (A)斯里蘭卡 (B)印尼 (C)泰國 (D)菲律賓。
16. (B) 2000 年該災害發生時，因該國當時主要盛行何種風向，使氣候舒適宜人，因此有許多觀光客前來度假，卻不幸遇到了這場災難？ (A)東南季風 (B)東北季風 (C)西北季風 (D)西南季風。

※日本及南韓因國土南北狹長，許多自然現象及人文景觀會依照各地的氣溫差異呈現規律的空間變化。左圖是日本櫻花開花時間預測地圖，附圖是南韓泡菜製作時間參考圖。請參考下列資訊回答第 17-18 題：



▲日本櫻花開花時間預測地圖▲南韓泡菜製作時間參考圖

17. (D) 到日本哪個都市旅遊，可以看到最晚綻放的櫻花？  
(A)福岡 (B)東京 (C)仙台 (D)札幌
18. (A) 左圖中，可以看見「箭頭」所指的預測線，受到何種因素影響而呈現向下彎曲的特徵？(A)地形 (B)水文 (C)人口 (D)季風風向
19. (A) 傳統上，南韓人民在入冬前須製作大量泡菜以儲備食物，愈早入冬的地區須愈早製作泡菜。請問：附圖何地須最早製作泡菜？  
(A)首爾 (B)大邱 (C)光州 (D)釜山

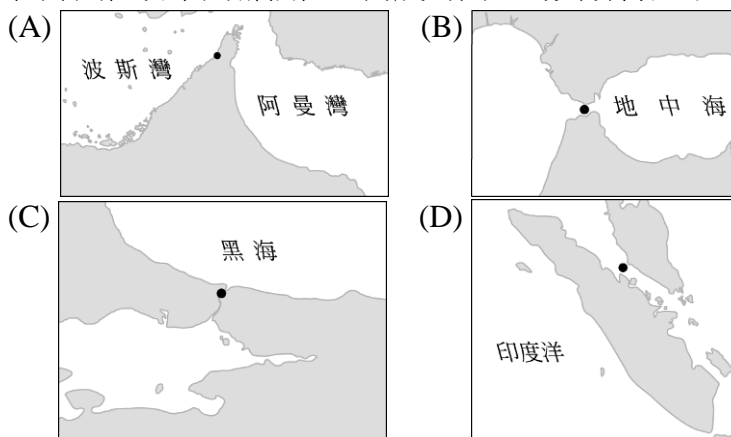
※閱讀短文後回答第 20-21 題：

杜拜因石油的開採與輸出，成為西亞最富有的地區之一。由於經濟飛速的發展，對能源的需求日益增大。然而，地下蘊藏的石油並非取之不盡用之不竭，因此自 1970 年代起，杜拜即進行多元化的建設與發展，包含觀光業、金融業、國際貿易轉運站，以吸引來自全球的資金、勞工與觀光客。

杜拜全年陽光普照，海灘優美、海水湛藍，但原始的海岸線不足以容納更多的觀光客，為了延長海岸線，杜拜花費數百億修建人工島。島上建造奢華的度假勝地和購物中心，並以風景如畫的白色沙灘和一年四季的陽光吸引各國的投資者與富豪。根據世界觀光旅遊委員會（WTTC）的報告，2019 年杜拜已被列為全球第三大國際旅遊都市，排名僅次於香港和澳門，旅遊總收入為 279 億美元，占杜拜 GDP 的 11.5%。

（資料來源：City Travel & Tourism Impact 2019 Key Highlights, World Travel & Tourism Council, 2019 / 12 / 10。）

20. (A) 杜拜因位於下列哪個位置而成為西亞的貿易轉運站？



21. (A) 促使杜拜自 1970 年代起即進行多元化的建設與發展的主要原因為何？  
(A)降低對單一礦產資源的依賴 (B)勞力成本提升，促使產業升級  
(C)國家基礎建設不足，經濟發展受限 (D)國內族群複雜多元，社會動盪不安。

歷史科題庫

1. (C)現居臺中的張爺爺，年輕時在上海是位理髮師。他回憶：局勢動盪後，理一次髮原本是 55 元，不到一個月理髮價已是 550 元，再隔一個月，必須收費 1,260 元，才能維持基本生計。請問：張爺爺年輕時所遇到的情況是？  
(A)民國創立初期貨幣混亂 (B)北伐時期貨幣貶值 (C)國共內戰激化導致通膨 (D)美國斷交貨幣貶值。
2. (C)有位中國老農夫回憶：「當時人人將鍋、鏟全丟進煉鐵爐燒煉。因為上級交代蓋一條用來運鋼的道路，所以只好將墓塚石頭拿去墊路基，但我們一直沒有煉出夠多的數量，讓卡車來載運。」請問上述情況最可能發生在哪一時期的中國？  
(A) 1850 年代 (B) 1900 年代 (C) 1950 年代 (D) 2000 年代。
3. (C)以下是一位旅行者到訪上海後的見聞：「此區工廠地帶可以看到日本戰機轟炸的痕跡，但是如果來到租界區，興盛的商業中心立即映入眼中。在此，歐、美國家的主要銀行林立，國民政府的官方銀行：中央銀行，以及中國銀行、交通銀行等仍然繁忙地繼續營業，處理租界區內的金融交易。」此人最可能是在下列何時參訪上海？ (A) 1830 年代 (B) 1890 年代 (C) 1930 年代 (D) 1990 年
4. (D)在某本以近現代中國為背景的小說中寫到：「最近，國家開始實施新政策，由政府指定中央、交通、中國這幾家銀行發行法幣。我想，此政策若真能好好實行，改善過去幣制混亂的情況，買賣交易就比較好做了。」這段話所呈現的最可能是中國處於下列何種局勢下的情況？ (A)戊戌變法期間，朝廷推動經濟改革 (B)八國聯軍結束，朝廷陸續推行新政 (C)中華民國初創，政府收繳民間銀兩 (D)北伐統一完成，政府致力建設發展。
5. (B)學界雖對這項國際會議仍有討論，不過國民政府在會議上取得美國總統羅斯福的支持。遂於會議的次年，設立了臺灣調查委員會，進行接收臺灣的準備工作，這也是國民政府對臺政策轉趨積極的重要開端。請問：這項國際會議，最有可能是下列何者？

- (A)巴黎和會 (B)開羅會議 (C)雅爾達會議 (D)聯合國大會。
6. (D) 1975 年蔣中正去世後，張學良曾寫了一副「關懷之殷，情同骨肉；政見之爭，宛若仇讎」輓聯悼蔣，並稱蔣對他是「白粉知己」，兩人的情誼最後卻因何事而鬧翻，從此宛若仇讎（敵人）？
- (A)十年建設 (B)新文化運動 (C)國民黨改組 (D)西安事變。
7. (A) 民國初年，在日本以「帝國政府將執行必要之手段」脅迫下，政府同意日本所提出的「二十一條要求」大部分條款，消息傳出，舉國震怒。上述事件被稱為何？ (A)五九國恥 (B)靖康之恥 (C)義和團事件 (D)五四運動。
8. (B) 北伐完成後，國民政府宣布正式進入「以黨治國」的訓政時期。請問：這裡的黨是指下列何者？
- (A)中國共產黨 (B)中國國民黨 (C)民主進步黨 (D)同盟會。
9. (C) 1950 年代起，美國因應共黨國家在東亞的擴張，聯合友好國家採取圍堵政策。請問：下列選項中，何者是圍堵政策的產物？ (A)不結盟運動 (B)雅爾達密約 (C)東南亞公約組織 (D)東南亞國家協會。
10. (D) 西元 1976 年，號稱十年災難的文化大革命終於畫下了句點。請問：這場浩劫之所以結束的原因為何？
- (A)蔣中正去世 (B)孫中山上臺 (C)鄧小平下臺 (D)毛澤東去世。
11. (A) 太平洋戰爭爆發後，哪兩個國家首先與中國另訂平等新約？
- (A)美、英 (B)美、法 (C)法、德 (D)德、美。
12. (D) 2019 年 12 月報載，婦女救援基金會將紀錄片阿媽的秘密原始膠捲捐贈給國家電影中心。婦援會表示，本片忠實記錄戰時受害者臺灣阿嬤們的故事。請問：該片的主題，最有可能是下列何者？
- (A)南京大屠殺 (B)珍珠港事變 (C)核爆受難者 (D)慰安婦事件。
13. (B) 在「舊傳統與新思潮」單元上完後，如果想了解更多新文化運動的相關內容，應優先查閱下列哪項刊物？
- (A)申報 (B)新青年 (C)萬國公報 (D)點石齋畫報。

14. (D) 某則資料提及：「這年秋天，毛澤東在天安門檢閱紅衛兵達到 8 次之多，……總共接見了約一千兩百萬人。」請問：上述現象應是發生於下列哪一個時期？  
(A)軍閥統治 (B)聯俄容共 (C)十年建設 (D)文化大革命。
15. (B) 毛澤東執政時，喊出經濟上「超英趕美」的口號，在外交上逐漸則想擺脫下列哪個國家的約束呢？ (A)美國 (B)蘇聯 (C)英國 (D)法國。
16. (D) 清末，朝野人士面對外力的衝擊，提出不少意見。一日，小周在路上看到一張標語寫著：「驅逐韃虜，恢復中華，創建民國，平均地權。」請問：張貼此標語的應為下列何派人士？ (A)立憲派 (B)守舊派 (C)投降派 (D)革命派。
17. (B) 「十年建設」期間國民政府在政治、經濟、文化、外交、軍事等方面上皆有一定成就，整體環境被認為是中國自 1840 年鴉片戰爭以來的最高水準。請問：下列何項為當時的重大成就？ (A)廢除領事裁判權 (B)收回關稅自主權 (C)收回所有清末以來的各國租界 (D)廢除不平等條約。
18. (A) 冷戰時期，以印尼為首的亞洲國家不願捲入美蘇雙方的糾紛之中，選擇政治自主、彼此經濟合作，並與相同理念的國家領導人會面晤談，形成一股可觀的國際勢力。請問：這些國家發動了何種運動？  
(A)不結盟運動 (B)不合作運動 (C)不支持運動 (D)不參與運動。
19. (B) 20 世紀美國青年曾發起大規模的示威抗議，要求政府停止這場長達 20 年的戰爭，以免更多的美國青年死於戰場。請問：這場令無數美國人難忘的戰爭為何？  
(A)韓戰 (B)越戰 (C)波斯灣戰爭 (D)第二次世界大戰。
20. (A) 民國初年，某位學者了解到孩子自有其世界，並非「縮小的成人世界」。因此呼籲注重兒童遊戲的重要性，宣稱「遊戲是兒童最正當的行為，玩具是兒童的天使」。請問：這段言論，最有可能出自下列何人？  
(A)魯迅 (B)康有為 (C)梁啟超 (D)陳獨秀。

## 公民科題庫

※題組一：下列為生活中常見的案例，請判斷第1-2題其法律關係為何

1. (B) 爾芳到學校附近的書店，添購開學所需的書籍。以上行為屬於下列何種法律關係？ (A)借貸契約 (B)買賣契約 (C)婚姻關係 (D)繼承關係
2. (C) 世皓與雅芬交往多年，決定登記結婚成為夫妻。以上行為屬於下列何種法律關係？ (A)租賃契約 (B)借貸契約 (C)婚姻關係 (D)繼承關係
3. (D) 23歲的小馨即將與同年齡的男友結婚。有關結婚契約的生效要件，下列敘述何者正確？ (A)舉辦結婚儀式並宴客(B)向法院預先申請公證結婚(C)取得雙方父母的書面同意書才算有效(D)簽訂書面契約，並有二人以上證人簽名，由雙方當事人向戶政機關登記
4. (D) 一名 20 歲的男大生在網路上表示：他在上課時間，不慎摔到女同學的手機，導致螢幕因此有些裂痕。女同學向他索賠 3 萬元，男大生覺得不合理，因為 3 萬元已經能買一支全新的同型號手機了。依據民法的規定，下列敘述何者正確？ (A)男大生的父母須負相關賠償責任 (B)男大生必須依照對方的要求進行賠償(C)男大生無須為其不小心的行為負擔賠償責任(D)男大生雖須賠償，但應以維修手機、恢復原狀為原則
5. (C) 下列關於調解的敘述，何者正確？  
(A)調解是由各地區警察局受理 (B)調解委員必須具備法官的資格(C)侵權行為引發的糾紛，可以透過調解來解決 (D)調解與私下和解的效力，均與法院判決相同

※請閱讀下列文章後，回答問題：

立法院在2019年底三讀通過反滲透法，該法第1條即說明法案是為了「確保國家安全、維護國家主權及自由民主」。法令中規定若接受境外敵對勢力的指示、委託或贊助，從事

選舉相關活動，最高可處5年以下有期徒刑或併科罰金1,000萬元。總統蔡英文表示，該法對兩岸正常宗教、觀光、學術等交流完全不受影響，並強調「我們是反滲透，不是反交流」。該法也受到在野黨或某些團體的質疑，認為該法條條文內容過於模糊、不夠明確，立法過程過於倉促。（資料來源：改寫自「反滲透法」惹3爭議，整理包一次看清，聯合新聞網，2019/12/31。）

6. (D) 小胤透過全國法規資料庫網站查詢反滲透法，知道該法規於2020年1月15日公布，並同時生效。請問：根據以上說明，下列敘述何者正確？  
(A)此法律由立法院公布 (B)反滲透法屬於民事法規  
(C)此法律將禁止民眾到中國旅遊 (D)此法律不可以處罰生效日之前的行為
7. (C) 根據本文提及內容判斷，反滲透法主要保障的法益為何？  
(A)個人法益 (B)社會法益 (C)國家法益 (D)政府法益
8. (C) 在野黨等團體認為反滲透法的法條內容過於模糊不清，若法條不明確，則有侵害人權的疑慮。請問：這是基於刑法哪項原則的考量？  
(A)誠實信用原則 (B)契約自由原則 (C)罪刑法定原則 (D)權力分立原則
9. (C) 小明在2004年時登記參選立法委員，競選期間接受了來自境外敵對勢力的贊助，但他卻不會受到反滲透法的處罰。請問：這是基於刑法的哪項原則？  
(A)誠實信用原則 (B)契約自由原則 (C)罪刑法定原則 (D)損害賠償原則
10. (D) 小光從小就失去說話能力，也聽不到聲音，今年剛滿18歲。請問：小光屬於下列何種責任能力人？(A)無責任能力人 (B)無行為能力人 (C)完全責任能力人 (D)限制責任能力人
11. (A) 冠鈞的妹妹今年10歲，就讀桃子國小。請問：冠鈞的妹妹屬於下列何種責任能力人？(A)無責任能力人 (B)無行為能力人 (C)完全責任能力人 (D)限制責任能力人
12. (D) 下列關於犯罪的討論，哪個人的觀念較為正確？

- (A)煜夜：刑事訴訟法主要規範犯罪的行為與類型
- (B)小魚：刑法規範犯罪的追訴及處罰犯罪的過程
- (C)無缺：僅檢察官能對犯罪嫌疑人提起刑事訴訟
- (D)艾克：檢察官不會主動調查告訴乃論的刑事案

13. (B) 小杜向朋友借一部影集回家觀賞，影集內容與一件刑事案件有關，但因包裝盒破損，僅剩部分劇情說明可辨識，如下表所示。根據我國現行法律判斷，若將三張光碟片按照案件處理的先後次序排列，則其順序應為下列何者？

- (A)甲、乙、丙 (B)甲、丙、乙 (C)丙、甲、乙 (D)丙、乙、甲

甲……他被警察移送到檢察署，檢察官開始對他訊問……。

乙……歷經多次開庭，地方法院的法官即將作出判決……。

丙……他因涉嫌殺人被提起公訴，該如何面對接下來……。

14. (D) 某新聞報導：「以往發生街頭暴力，除由當事人提告傷害罪之外，公權力僅能用社會秩序維護法來裁處，且往往罰錢了事。現在刑法修法後，可將公共場所鬧事的人逮捕並判刑期。」這可能帶來什麼改變？

- (A)會增加警方執行公權力的負擔 (B)民眾更加忽視公共鬧事的問題  
(C)社會秩序維護法喪失存在意義 (D)可用刑事責任替代原先行政罰

15. (C) 下列關於行政罰的說明，何項敘述較為正確？

- (A)是立法機關對違規者做的裁罰 (B)只有一般民眾才會受到行政罰  
(C)行政罰是行政處分的一種方式 (D)拘役和罰金皆屬於行政罰

※請閱讀下列文章後，回答問題：

劉先生根據土地的使用權限，向高雄市政府 交通局申請到停車場的建設使用。但劉先生被民眾陳情設置障礙物阻礙通行，高雄市 鳳山區公所找人現場會勘後，認定該土地為供車輛通行的巷道，將劉先生為了設立停車場所設置的障礙物拆除，並要求他將巷道恢復原狀。劉先生不服該公所決定，向高雄市政府提出救濟，而不被受理。劉先生認為停車場無法如期營業造成損失，因此提告到行政法院，法官根據雙方提供的土地資料，判「劉

先生之訴無理由，駁回原告之訴；不服本判決可提上訴」。劉先生不服，繼續上訴，法官根據相關事證評估過後，認定劉先生停車場已准許申請，被告不得因為民眾陳情，而否認其上級機關准許停車場設置一事。因此，判「原判決廢棄，關於劉先生請求給付新臺幣1,200萬元賠償部分，發回原行政法院審理」。

16. (B) 這起案件，劉先生用到哪些行政救濟的方式，請選出正確的組合？  
甲、訴願 乙、調解 丙、和解 丁、行政訴訟  
(A)甲乙 (B)甲丁 (C)乙丙 (D)乙丁
17. (B) 根據上文所述，下列敘述何者正確？  
(A)劉先生不滿行政處分直接提訴訟 (B)本案訴願管轄機關是高雄市政府  
(C)該公所是高雄市政府的上級機關 (D)劉先生無法營業的損失求償無門
18. (C) 何者為最終判決的被告？  
(A)交通部 (B)陳情民眾 (C)鳳山區公所 (D)高雄市政府
19. (D) 根據上文所述，高雄市政府交通局核准劉先生依法申請使用的決定，屬於何種行政行為？(A)陳情 (B)訴願 (C)行政罰 (D)行政處分
20. (A) 下列選項所述內容，何者不屬於兒童及少年性剝削防制條例的保護範圍？  
(A)我國捷運站內有親子廁所 (B)阿呆與17歲的網友從事性交易(C)經紀公司將17歲的少女帶去坐檯、陪酒(D)小新與小葵分手後，因懷恨在心，四處散布兩人私密照