

# 明正國中 110 學年度第 2 學期 七年級 社會領域 補考題庫

## 地理科題庫

1. (C)「離島生態觀光區」以提供國民特殊生態與文化體驗為主，發展上強調環境保育和文化保存。【圖一】為臺灣某處島嶼上的地形景觀，屬於重要的保育資源，此島嶼為下列何者？

(A)金門列嶼 (B)馬祖列嶼 (C)澎湖群島 (D)蘭嶼。



【圖一】



【圖二】

2. (D)為維繫自然系統、確保自然海岸零損失，保護與復育海岸資源、推動海岸整合管理，民國 104 年通過海岸管理法，以促進海岸地區的永續發展。請問：【圖二】中的海岸最可能位在臺灣的哪段海岸？

(A)北部 (B)西部 (C)南部 (D)東部。

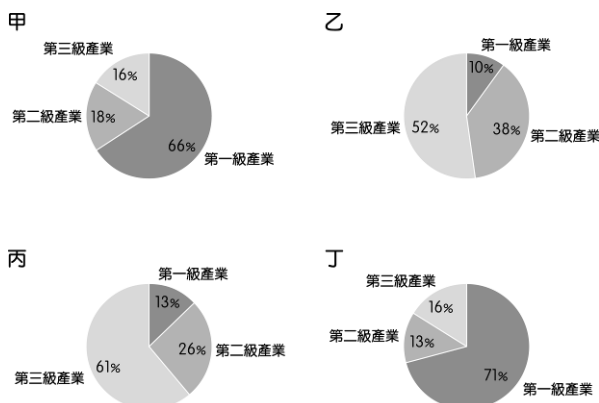
3. (B)甘蔗目前耕種面積已迅速縮小，原因最可能是：

(A)缺乏水源 (B)國內生產成本太高  
(C)市場價格差 (D)國人飲食習慣改變。

4. (D)臺灣自 1905~2005 年之間，人口成長的發展趨勢為何？

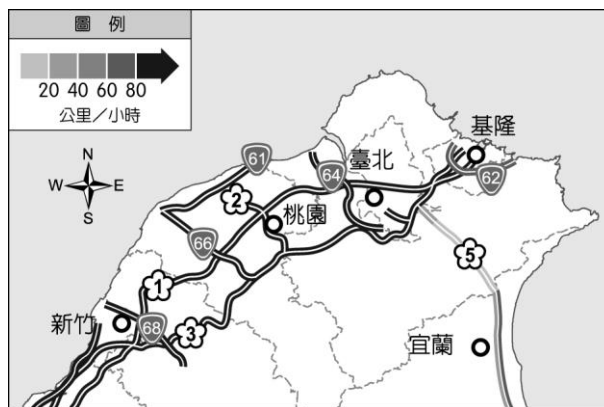
(A)緩慢增加 (B)快速下降 (C)快→慢→快 (D)慢→快→慢。

※下面是四個聚落的三級產業就業人口比例圖，請觀察統計圖，並回答第 5-7 題：






5. (D) 哪兩個聚落最可能是鄉村？ (A)甲乙 (B)丙丁 (C)乙丙 (D)甲丁。
6. (C) 哪兩個聚落的人口大部分以從事服務業為主？  
(A)甲乙 (B)丙丁 (C)乙丙 (D)甲丁。
7. (D) 哪兩個聚落的人口外移情形可能比較嚴重？  
(A)甲乙 (B)丙丁 (C)乙丙 (D)甲丁。

※高速公路 1968 即時路況網頁 (<https://1968.freeway.gov.tw/>)，讓使用者看到目前全臺灣的高速公路狀況，是相當便民的工具，請回答第 8-10 題：



▲ 高速公路 1968 即時路況地圖

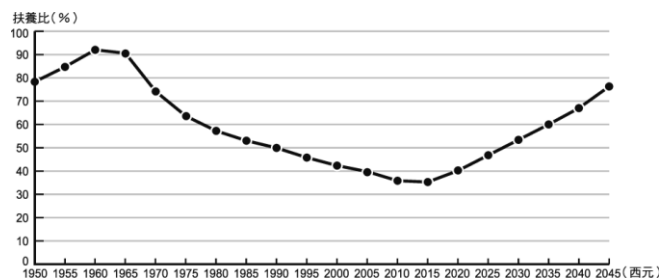
8. (C) 觀察附圖，住在臺北市的小明若立刻出發到哪個縣市，最可能遇到塞車問題？  
(A)基隆市 (B)桃園市 (C)宜蘭縣 (D)新北市。
9. (C) 附圖中，塞車最嚴重的路段是屬於哪條高速公路？  
(A)  (B)  (C) 
10. (B) 該高速公路通車後，搭乘火車往下列哪個方向的旅客可能會減少？  
(A)基隆 (B)宜蘭 (C)新竹。

※【圖三】是臺灣國土空間規劃架構圖，依據臺灣地形和社會經濟條件，以環境保育及國土保安為前提，將國土空間規畫為「三軸、海環、離島」等軸帶，請依據此圖回答第 11-12 題：



11. (D) 形式封閉、交通不便，如「陸上離島」，但自然環境優美、觀光資源豐富，政府規畫該軸帶將樂活、養生、休閒等概念融入產業中。請問：該軸帶為地圖的何者？ (A)甲 (B)丙 (C)丁 (D)戊。
12. (C) 臺灣黑熊的胸前有 V 字型白色條紋，是牠的最主要特徵，常出沒於臺灣中央的山脈海拔 1,000~3,500 公尺的山區。請問：臺灣黑熊最可能出現在什麼軸帶？ (A)甲 (B)乙 (C)丁 (D)戊。

※扶養比是描述從事勞動生產和不會從事勞動生產的人口之比例。這個比例可以計算勞動人口的壓力，扶養比愈大，表示受大養的人口比例愈高，壯年人口的經濟負擔愈沉重。【圖四】是臺灣 1950~2045 年的扶養比趨勢統計圖，請回答第 13-15 題：



【圖四】

▲臺灣 1950~2045 年的扶養比趨勢統計圖 (資料來源：行政院國家發展委員會，民國 110 年)

13. (A) 1950~1960 年的扶養比呈上升趨勢，是因為什麼年段的人口快速增加？  
(A)幼年人口 (B)壯年人口 (C)老年人口
14. (C) 2015 年後的扶養比又開始呈上升趨勢，是因為什麼年段的人口快速增加？  
(A)幼年人口 (B)壯年人口 (C)老年人口
15. (C) 一地某一個時期內出生率下降，且老年人口未達高比例，形成勞動力資源相對豐富、扶養負擔相對較輕，有利於國家經濟發展的黃金時期。通常扶養比小於 50%，即為人口紅利時期，請問：哪個年段為臺灣的人口紅利時期？  
(A) 1950~1970 年(B) 1970~1990 年(C) 1990~2025 年(D) 2025~2045 年
16. (B) 從統計圖來看，臺灣社會未來可能面臨的問題，不包括下列何者？  
(A)資源分配不均 (B)勞動人口不足 (C)社會長照負擔加重  
(D)幼年人口多造成撫養負擔重

※以下是臺灣的知名產業品牌，請回答第17-20題：



華碩電腦股份有限公司



中國鋼鐵股份有限公司



台灣積體電路製造股份有限公司



巨大機械工業股份有限公司

17. (C) 華碩電腦股份有限公司和台灣積體電路製造股份有限公司生產的產品，屬於哪種工業類型？(A)輕工業 (B)重工業 (C)高科技產業 (D)觀光業
18. (C) 中國鋼鐵股份有限公司在民國 60 年由政府出資成立，為十大建設的重要項目之一，總公司與主要工廠位於高雄市臨海工業區，這是因為高雄具有哪項區位優勢？(A)動力 (B)原料 (C)交通 (D)市場
19. (B) 下列為各時期臺灣工業發展的特色，請依照時間先後，按照順序排列：
- 甲、發展輕工業和農產加工業；
  - 乙、產業升級，發展高科技產業；
  - 丙、成立加工出口區，發展勞力密集產業；
  - 丁、發展重化工業為主，如臺灣國際造船股份有限公司（中船）。
- (A)甲乙丙丁 (B)甲丙丁乙 (C)乙甲丙丁 (D)乙丙甲丁。
20. (D) 巨大機械工業股份有限公司於民國 61 年在臺中市大甲區成立，成立初期因取得美國 Schwinn 的代工訂單，成為當時外銷導向、專業代工的自行車專業製造廠，民國 70 年成立自創品牌「捷安特（Giant）」銷售。臺灣許多企業從代工走向自有品牌，是因為臺灣失去哪項區位優勢，需要積極轉型？
- (A)動力 (B)原料 (C)交通 (D)勞力

歷史科題庫

1. (A) 西元 1895 年，清帝國簽訂馬關條約，將台灣割讓給哪一個國家？  
(A)日本 (B)韓國 (C)美國 (D)法國
2. (B) 日本治臺時期，總督府得以瓦解可能存在的反抗勢力，而且能確實掌握臺灣的戶口，奠定堅實的統治基礎，與下列何者「最」有關係？  
(A)六三法 (B)警察與保甲制度 (C)皇民化運動 (D)日本軍隊
3. (D) 阿慧是臺灣人，後來改名為「慧子」。她的家庭因為響應政府的國語政策而獲頒證書。另外，有節日時，她也會穿著和服到附近的神社參拜。不久後，她的哥哥被政府徵召入伍，派往東南亞。從文中可知，當時政府正在臺灣施行何種統治政策？ (A)六三法 (B)殖民地特殊統治 (C)內地延長主義 (D)皇民化運動
4. (D) 日治初期臺灣對日抗爭不斷，每年需對臺灣補助七百萬日圓，日本認為臺灣殖民地對日本而言是負擔。請問：總督府採取下列哪項措施，使得財政收入提高，減少日本的經濟負擔？  
(A)廣設郵電通訊 (B)修築高鐵 (C)耕者有其田 (D)鴉片專賣
5. (A) 日本統治臺灣後，臺灣對外輸出最大宗的物產是下列哪兩項？  
(A)稻米、蔗糖 (B)稻米、鹿皮 (C)稻米、香蕉 (D)茶、稻米 (2-2)
6. (B) 日本的對臺統治政策從「農業臺灣、工業日本」轉變為「工業臺灣、農業南洋」，主要原因是什麼？  
(A)因應能源危機 (B)配合南進政策 (C)南洋工資低廉 (D)臺灣農業升級
7. (D) 下表為日治時期某一年臺灣的教育狀況，從表中可看出當時的教育情形為何？

項目	基礎教育		中等學校	專門學校	高等教育
	學生數	學齡兒童就學率	學生數	學生數	學生數
日本人	23,711 人	98.2%	477 人	6,856 人	220 人
臺灣人	210,727 人	28.4%	251 人	4,642 人	28 人

- (A)臺人基礎教育較日人更為普及 (B)升學管道暢通，臺人紛紛入學  
(C)臺人與日人都有平等的受教權 (D)臺人基礎教育不足且升學不易
8. (C) 由【圖五】內容推斷，講述的主題應是下列何者？  
(A)霧社事件 (B)美麗島事件 (C)臺灣議會設置請願運動 (D)農民運動



【圖五】



【圖六】

9. (D) 【圖六】是日治時期的宣傳海報，內容是「時間是金，時間不待，請互相遵守時間」，與下列何者有關？ (A)放足 (B)斷髮 (C)守法 (D)守時
10. (C) 二二八事件是因為查緝何種物品，終於引爆警民衝突，導致全台大動亂？ (A)鴉片 (B)假鈔 (C)私菸 (D)禁藥
11. (A) 下列有關「戒嚴時期」的各項敘述，哪一項才是正確的？ (A)限制人民言論、集會、出版等自由 (B)總統為了經濟發展，而宣布實施 (C)此時期的政治受難者皆為外省人 (D)終止動員戡亂後宣告結束
12. (B) 近年來，台灣人可以自由參與集會，也能走上街頭示威遊行抗議，與下列何者有關？ (A)中共解放台灣 (B)宣布解嚴 (C)政黨輪替 (D)台灣光復
13. (C) 請問：我國近年來在國際外交活動屢遭困難，其主要原因為何？ (A)與日本斷交 (B)外交經費困難 (C)中共惡意排擠 (D)退出世界貿易組織
14. (C) 「這次衝突」改變臺灣的命運，使臺灣暫時免去被中共攻擊的危機，並獲得美國援助，絕處逢生。此外，民主和共產陣營在亞洲地區進行軍事對抗，聯合國安理會召開緊急會議介入這次衝突，這是聯合國成立以來首次進行軍事聯合行動。請問：「這次衝突」是指哪個戰爭？ (A)國共內戰 (B)古寧頭戰役 (C)韓戰 (D)八二三炮戰
15. (A) 某時期，海峽對岸時常喊出「我們一定要解放台灣」的口號，請問：下列哪個選項可以反映當時的時代背景？ (A)海峽兩岸情勢緊張，雙方不時爆發武力衝突 (B)台灣解除戒嚴後，我方成立大陸委員會因應 (C)中共與美國建交後，承認我方擁有主權的事實 (D)台灣與美國斷交後，對中共提一國兩制統一中國
16. (A) 民國六十年代末期，中共提出「三通」、「一國兩制」的口號，從此兩岸關係

的走向有何改變？(A)武力對抗→政治對峙 (B)政治對峙→武力對抗  
(C)政治對峙→民間交流 (D)民間交流→政治對峙

17. (A)民國 38 年(1949 年)起，政府陸續推動三七五減租、公地放領、耕者有其田等措施，提高農業生產量。這是政府的哪一政策，為臺灣最初的經濟發展奠下基礎？  
(A)土地改革 (B)進口替代 (C)出口導向 (D)十大建設
18. (D)臺灣的環保運動在某一年代開始興起，有反核四運動、反六輕運動。請問：環保運動興起的背景正好是臺灣經濟處於哪一個階段的時候？  
(A)進口替代 (B)出口導向 (C)十大建設 (D)產業升級 (6-1、6-2、4-3)
19. (D)現今臺灣隨處可見韓式、日式餐飲，韓系、日系、美系、法系等服飾品牌或生活用品。除外，東南亞文化在臺灣也愈來愈常見。請問：上述反映臺灣社會何種風貌？  
(A)創造能量消失 (B)客家文化再造 (C)傳統文化衰退 (D)多元文化並存
20. (D)民國 50 年代，台灣年輕人受到西方文化影響，流行穿牛仔褲、長筒靴、露背裝及迷你裙。依據台灣歷史發展來看，應是與哪一個國家關係密切的緣故？  
(A)日本 (B)韓國 (C)英國 (D)美國

### 公民科題庫

1. (A)「囧」原義為光明、明亮，現常被當作網路上的一種臉孔符號，以表達皺眉、失意、不知所措等情緒，青少年網友經常使用。上述的網路用語，屬於現代社會文化中的哪種型態？(A)次文化 (B)主流文化 (C)強勢文化 (D)上流文化
2. (B)之前有些人會以將原有材料的特質全部融化的「大熔爐」來形容各國的文化，但此名稱現在已不常見。下列哪一個不是「大熔爐」此名詞過時的可能原因？  
(A)因為每個文化並無高低優劣之分 (B)民族融合可 以讓國內各民族團結(C)各國政府應努力保存國內各族群的文化特色，互相尊重包容 (D)強調民族融合，可能會讓少數人的文化被強勢文化同化而消失
3. (A)華人向來認為「4」是不吉利的數字，車牌及手機號碼都會避開「4」。上述觀念是受到下列哪種社會規範的影響？(A)風俗習慣 (B)法律規定 (C)宗教信仰 (D)

倫理道德

4. (A) 勞動部對於颱風天勞工是否要出勤表示：「雇主應以安全為首要考量，如果有違反勞動基準法規定的狀況，勞工可撥打『1955』專線申訴。」上述內容說明下列哪種事實？ (A)以法律規範外在行為 (B)以宗教力量感化人心(C)以道德力量約束雇主 (D)以各種社會規範共同降低颱風
5. (D) 日常生活中，個人行為經常受到內在良心與外在環境的影響，其中有些規範具有強制力，下列何者符合這樣的特性？ (A)在選舉投票時返鄉投票 (B)基督教徒到教堂做禮拜 (C)在速食店內將手機關靜音 (D)登革熱疫情熱區住戶配合噴藥作業
6. (B) 團體必須具有共同的目標，遵守共同的規範，以及團體成員間彼此要有互動。請問：下列何者符合團體的定義？ (A)電影院的觀眾 (B)無敵國中校友會的成員 (C)公車上的乘客 (D)手機開賣首日會場排隊的群眾
7. (B) 四位同學正在討論對團體的看法，下列哪個人的觀念較為正確？ (A)小芬：「加入團體必須滿20歲，國中生還無法參與。」 (B)小君：「參與團體可凝聚眾人力量，影響社會發展。」 (C)小威：「唯有參與公益團體，才能促進個人成長。」 (D)小珊：「我們可以加入幫派，結交好朋友。」
8. (A) 下列四種團體的目的，哪個屬於滿足情感需求的目的？ (A)阿雅參加教會團契，希望認識更多朋友 (B)小娟參加籃球社，希望能夠增加自己的籃球技巧 (C)小沁參加同學組的讀書會，希望段考名次能更進步 (D)曉萱參加愛盲基金會有聲書錄音志工隊，希望幫助視障者
9. (C) 參與學校的社團活動，成為國中生參與團體的難忘經驗與人生記憶。下列四位學生談論到參加社團對自己的影響，何者是以達成共同目標為目的？ (A)雅筑：「我參加國樂社，發現自己愈來愈進步，更勇於表現自己。在那個環境裡，因為大家目標一致，讓我有自學的動力。」 (B)丞傑：「我國一參加攝影社、國二參

加烹飪社。因為我不是很喜歡念書，所以想藉由社團活動來探索興趣，了解自己。」

(C)怡甄：「在籃球隊裡，我們會一起為了下次能進入到全國比賽而努力。」 (D)

宜德：「我參加管樂團時，曾與社團學長姊起過衝突，那次經驗讓我學習到化解矛盾的方法。」

10. (B)伯大尼兒少家園為籌募經費建設新院舍而舉辦園遊會，吸引許多民眾共襄盛舉，各自以不同形式的行動展現愛心。下列民眾的行動中，何者不屬於志願結社所從事的行為？(A)志工媽媽製作餅乾義賣 (B)分局警察維持周邊交通 (C)社區合唱團演唱，勸募捐款 (D)伯大尼兒少家園徵求環境整理的志工
11. (D)喜憨兒社會福利基金會的社會事業有烘焙工坊及餐廳，提供點心、蛋糕及麵包，讓顧客可以選購，「將賺取的經費用在心智障礙者的終生照顧、終生教育上」。請問：引號內的敘述為志願結社的哪項特徵？  
(A)民間性 (B)組織性 (C)自主性 (D)非營利性
12. (C)財團法人中華民國消費者文教基金會針對頻傳的食安問題，批評政府對黑心業者縱容，才會讓食安漏洞百出，「以記者會的方式對外發聲，在民生物價、健保費率等方面替消費者看緊荷包；或在各消費法規上提出修訂建議」。請問：引號內的敘述為志願結社的哪項特徵？  
(A)民間性(B)組織性 (C)自主性 (D)非營利性
13. (A)「綠黨由一群關心環保議題的民眾所組成」，希望把主張生態的理想落實在政策中。綠黨多次參與公職選舉都無人當選，不過環保訴求的政治理念逐漸受到認同。2018年地方公職選舉時，綠黨已獲得相當席次。請問：引號內的敘述為志願結社的哪項特徵？ (A)民間性 (B)組織性 (C)自主性 (D)非營利性
14. (B)荒野保護協會的宗旨是盡可能讓大自然經營自己，恢復生機。為達成上述目標，「他們有嚴密的組織分工」。請問：引號內的敘述為志願結社的哪項特徵？

(A)民間性 (B)組織性 (C)自主性 (D)非營利性

15. (A)在資訊發達的今日，我們可以輕易從電視、廣播或網路接受到最新的即時新聞，此情形主要是發揮傳播媒介的哪項功能？ (A)提供民眾資訊 (B)讓閱聽人表達看法 (C)代替人民監督政府 (D)曝光社會問題，引發民眾討論
16. (D)新聞節目在街上採訪，詢問了路人王小華對於某公共議題的看法，而小華在看完報導後認為該節目斷章取義，扭曲了他的言論。律師告訴小華，其實他有權要求該節目讓他澄清，且電視臺不得拒絕。下列何者最符合上述內容的意涵？ (A)公民享有接受媒體採訪與否的自由 (B)媒體工作者有報導社會事件的責任 (C)媒體經營者有選擇報導素材的權利 (D)人人皆有修正媒體報導內容的權利
17. (D)有些新聞媒體會利用暴力、血腥、炒作，或是捏造新聞等手段來增加收視率，這樣的媒體亂象，常引起社會大眾的輿論譴責。民間團體呼籲媒體不該只追求收視率與商業利益，而不管媒體報導對社會可能產生的負面影響。上述團體的訴求內容，主要凸顯出下列何項議題的重要性？ (A)強勢文化的影響程度 (B)志願結社的監督力量 (C)新聞報導的自由程度 (D)傳播媒體的專業倫理
18. (D)由於經濟不景氣及物價飆漲對弱勢民眾影響甚鉅，為妥善照顧經濟弱勢、遭受急難或災受害者，提供短期日常生活所需食物及物資援助，以建置完善的社會安全網，避免食物浪費，因此市政府推動食物銀行法的相關條例。根據上述內容，請問市政府的該項政策主要是落實何項理念？ (A)營造健康環境 (B)促進經濟發展 (C)提升地方產業 (D)維護公平正義
19. (C)各直轄市、縣（市）政府針對身心障礙者，辦理身體照顧服務、家務服務、友善訪視、送餐到家等居家服務。上述屬於何種社會福利？ (A)社會救助 (B)就業安全 (C)福利服務 (D)居住正義與社區營造
20. (A)新型冠狀病毒疫情期間，為照顧生活不能自理之受隔離或檢疫者而請無薪假，或無法從事工作者，政府給予防疫補償。上述屬於何種社會福利？ (A)社會救助 (B)福利服務 (C)健康與醫療照護 (D)居住正義與社區營造