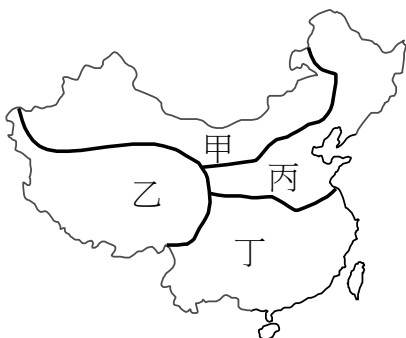


# 明正國中 110 學年度第 1 學期 八年級 社會領域 補考題庫

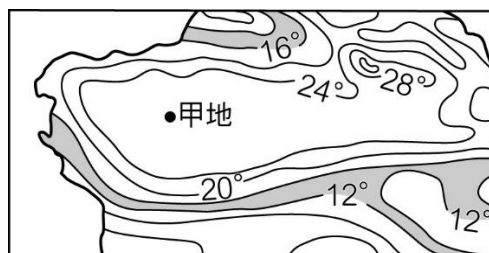
## 地理科題庫

1. (D) 嫁來臺灣多年的阮氏惠美打算開間餐館賣起豬肉河粉、越式春捲、蝦醬空心菜等道地的越南小吃。惠美的故鄉鄰近【圖一】中的哪個地區？

(A)甲 (B)乙 (C)丙 (D)丁

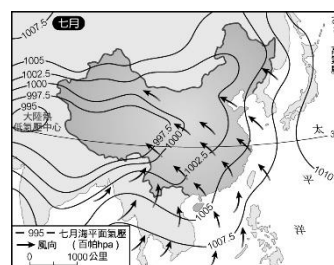


【圖一】



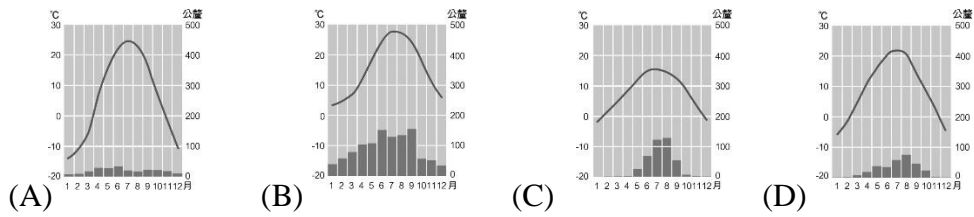
【圖二】

2. (C) 【圖二】是中國某地區七月等溫線的分布圖，由其分布特徵可知甲地最可能屬於哪種地形？(A)山地 (B)高原 (C)盆地 (D)平原
3. (C) 中國能自海洋或大陸與世界各國在經濟、文化上發生密切關係，是因為中國擁有哪些優越條件？(A)經緯位置 (B)人口眾多 (C)地理位置 (D)鄰國位置
4. (B) 中國的平原地形區多分布於東部地區，這種分布特色和下列哪項因素最有關係？(A)人口較多 (B)地勢走向 (C)水氣較多 (D)距海較近
5. (B) 中國地形複雜多樣，具備五大地形。以下有關中國地形特徵的敘述，何者正確？(A)平原主要分布於西半部 (B)整體地勢西部高、東部低 (C)以平原、丘陵所占面積最廣 (D)盆地主要集中於東南半部
6. (C) 全球暖化的情形日趨嚴重，致使冰川融化，海水上升，許多低窪地區將遭受淹沒的危機。中國哪個地方可能會是最早受到淹沒危機的地區？(A)青藏高原 (B)四川盆地 (C)珠江三角洲 (D)長白山地
7. (D) 【圖三】為中國七月某日的氣壓分布與風向示意圖。圖中可以告訴我們怎樣的訊息？(A)陸地氣壓高，氣溫高 (B)海洋氣壓低，氣溫低 (C)風由陸地吹向海洋寒冷乾燥 (D)風由海洋吹向陸地帶來水氣



【圖三】

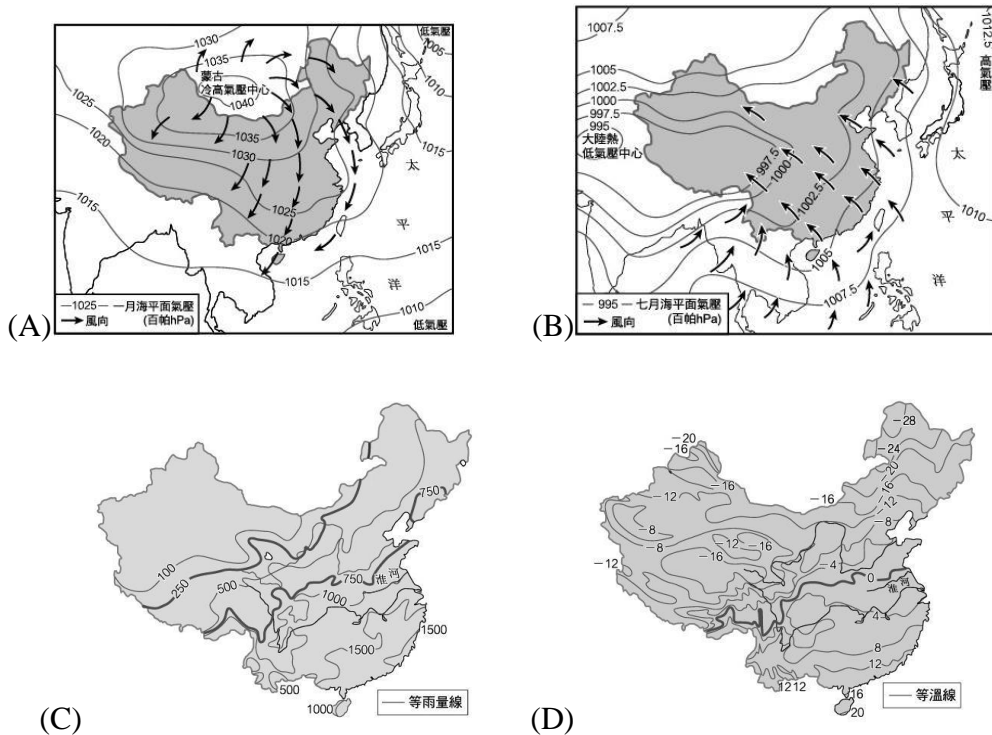
8. (B) 在下列中國各種氣候類型圖中，哪種氣候區最適合農業的發展？




9. (B) 「玉華到中國工作，她說那個地方夏季有二十幾度，冬季降到零度以下.....，郊外有牧場，動物可以直接吃牧場上的草.....」玉華工作地點最可能在哪個地區？

- (A) 溫帶沙漠氣候的吐魯番
- (B) 溫帶草原氣候的呼和浩特
- (C) 高地氣候的拉薩
- (D) 季風氣候的武漢


10. (A) 王教授在做中國建築型態調查時，發現中國北方房子的方向多坐北朝南。這種建築特色與中國哪種自然環境有關？



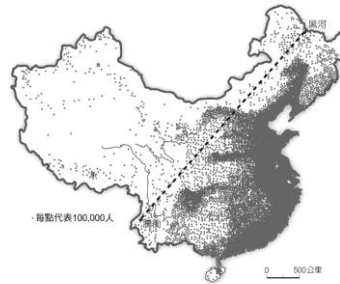
11. (C) 附圖為中國的人均土地面積、林地面積及水資源與世界平均值的比較。造成中國各項資源低於世界平均值的原因為何？(A)面積不大 (B)氣候變遷 (C)人口太多 (D)水土流失



12. (B)【圖四】代表中國的某種人口現象。該圖主要表達的是哪種現象？  
 (A)人口分布不均 (B)生育政策的推動 (C)人口素質不良 (D)人口成長快速



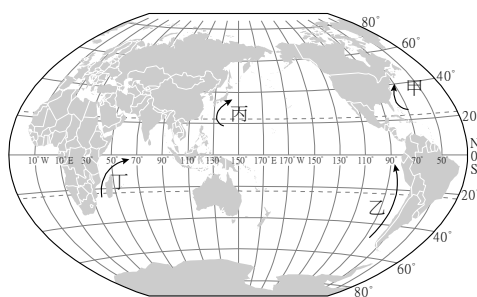
【圖四】



【圖五】

13. (D)小雙在圖庫中找到【圖五】這張圖，但卻沒有圖名，這張圖的圖名最可能為下列何者？(A)中國三大區域簡圖 (B)中國公務員分布簡圖 (C)中國工作機會分布圖 (D)中國人口密度圖
14. (D)根據預測，2050年時中國的幼年人口比例約16%，壯年人口比例約為64%，老年人口比例約為20%。2050年中國每10個壯年人口必須扶養多少老年人口和幼年人口（以四捨五入法計算至整數）？(A)1個老年人口、3個幼年人口 (B)2個老年人口、2個幼年人口 (C)2個老年人口、3個幼年人口 (D)3個老年人口、3個幼年人口
15. (C)中國民族的多元性，形成了豐富的文化風貌。對於各民族特色的描述，下列何者不正確？(A)漢族主要分布在中國東南方，人口數約占總人口的92% (B)藏族是草原上的游牧民族，擅長騎射，曾建立「元」帝國 (C)壯族人口數居少數民族之冠，以農業飼牧為主 (D)維吾爾族大多分布於新疆地區，以綠洲農業為主，信奉伊斯蘭教
16. (B)觀察現代中國農業的發展，我們可以發現蔬果與茶葉的種植面積有後來居上的趨勢，2005年時，已經和稻米的栽種面積不分軒輊。這種現象表示中國的農業生產發生了什麼樣的變化？(A)因應自然環境的變化 (B)以市場需求為導向 (C)朝向觀光農業發展 (D)朝向精緻農業發展
17. (D)下列何者是中國經濟特區集中於東部沿海地區的原因？  
 (A)地形平坦 (B)華僑眾多 (C)礦產豐富 (D)勞力充沛
18. (D)中國中部經濟帶比東部經濟帶缺乏的是下列哪項條件？  
 (A)勞力 (B)工業原料 (C)農牧原料 (D)交通
19. (C)中國改革開放後的區域經濟差異與臺灣相比較，下列何者正確？  
 (A)經濟較發達的地區皆在西部 (B)經濟發展主要受到氣候影響 (C)港口在經濟發展過程中扮演重要角色 (D)中國的經濟特區即類似臺灣的科學園區

20. (C) 中國西部區域的人口密度全國最低，其房市低迷無法發展的主要原因為何？  
 (A)面積廣大 (B)緯度偏高 (C)地勢高聳崎嶇，交通不便 (D)全區屬於溫帶沙漠氣候
21. (D) 【圖六】為小花繪製的四道洋流分布圖，圖中哪股洋流的流動方向標示錯誤？  
 (A)甲 (B)乙 (C)丙 (D)丁

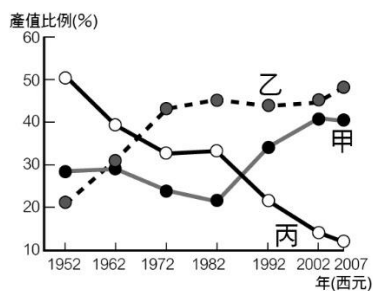


【圖六】

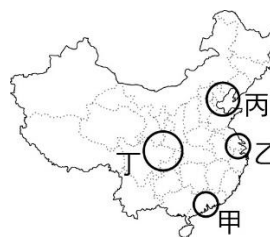


【圖七】

22. (B) 日劇《在世界的中心呼喊愛》中，女主角一心想前往澳洲的大紅岩 — 烏魯汝 (艾爾斯岩)，認為這裡是世界的中心。這個岩石聳立於沙漠中，是世界自然遺產之一。他位於附圖中澳洲的何處？(A)甲 (B)乙 (C)丙 (D)丁
23. (D) 住在臺灣的佩慈想利用清明節假期到紐西蘭南島遊玩。她應該攜帶什麼樣的衣著？(A)保暖的羽毛衣 (B)輕薄的小可愛 (C)防晒的圍頭方巾 (D)可防風的薄外套
24. (C) 希臘的哲學家認為，既然地球是球形的，那麼南半球應有類似北半球的氣候帶，但事實上，白色大陸 — 南極是地球上氣溫最低的地方，氣候上並非與北極相同。是什麼原因使南極氣溫更低於北極？  
 (A)距離主要大陸太遠 (B)缺乏太陽直接照射 (C)地形以高原為主 (D)臭氧層過厚，阻擋陽光
25. (C) 中國三級產業人口比例不同，各產業所創造的產值亦有所不同，【圖八】為中國三級產業產值變化圖，下列哪個行業是屬於圖中的「乙」產業？(A)農夫 (B)漁民 (C)運輸業 (D)工人



【圖八】



【圖九】

26. (A)根據中國 2019 年頒布的《粵港澳大灣區發展規劃綱要》，計畫未來「粵港澳大灣區」將取代「珠三角城市群」，成為與紐約灣區、舊金山灣區、東京灣區並駕齊驅的世界第四大灣區。粵港澳大灣區位於【圖九】中的哪個地點？

(A)甲 (B)乙 (C)丙 (D)丁

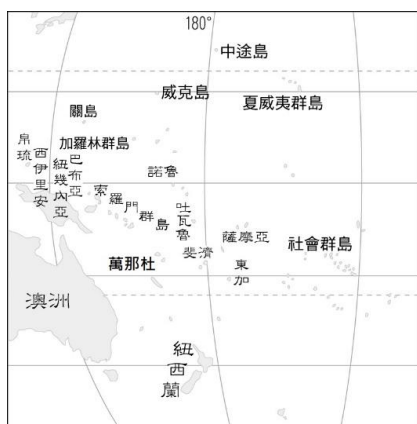
27. (C)中國沙漠化是人類把草原和耕地變成沙漠的行為，從 1949 年到 2014 年中國約有 105.42 萬平方公里的草原和農田被沙漠化；而沙漠化更會使沙塵暴加劇，造成環境破壞。【表一】為專家對中國沙漠化的主要原因分析，據表判斷，中國哪個地區沙漠化與沙塵暴現象會最嚴重？

(A)西南部 (B)東南部 (C)西北部 (D)東北部

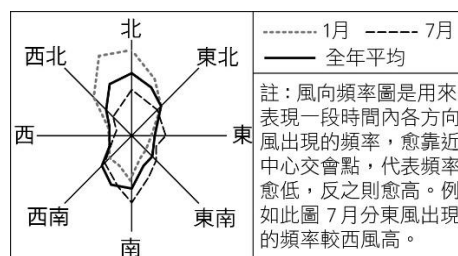
原因	森林過度採伐	過度放牧	土地過分使用	水資源利用不當	沙丘移動	城市、工礦建設
比例	32.4%	29.4%	23.3%	6%	5.5%	0.8%

28. (C)萬那杜位於太平洋，是由 83 個島嶼所組成的國家，旅遊資源豐富。萬那杜境內有全世界上唯一的海底郵局，座落在 HideawayIsland 上，是個迷你又漂亮的珊瑚島嶼；該島本身就是個海洋生態保護區，可從事多項海上活動，例如：潛水、浮潛、觀賞珊瑚群等。由【圖十】大洋洲分布圖判斷，萬那杜屬於哪個島群？

(A)密克羅尼西亞 (B)印度尼西亞 (C)美拉尼西亞 (D)玻里尼西亞

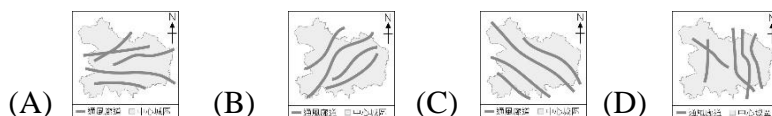


【圖十】



【圖十一】

29. (D)「通風廊道」主要由公園與綠地組成，其規畫是為了引導都市外涼爽、乾淨的空氣流入都市，以緩解都市中心悶熱、汙濁的空氣環境，廊道走向主要與當地盛行風向一致。【圖十一】為中國季風氣候區內某都市的風向頻率圖，根據該都市最主要的風向判斷，其通風廊道的規畫最可能接近下列何者？



30. (A)霧霾這種人造的汙染物在全球都會出現，但在開發中國家的濃度會更高，而中國更是全球霧霾汙染的第一名。歸咎其原因，應該與下列哪個現象的成因相同？  
(A)中國成為世界市場 (B)中國成為世界工廠 (C)中國大量砍伐國內天然林  
(D)中國推動一帶一路政策創造經濟奇蹟

### 歷史科題庫

- (D)美美上網蒐集有關「九品任官」的資料，下列何者可採信？(A)官吏候選人的等級與家世無關 (B)使考試有比較客觀的標準 (C)是漢代時創立選任官吏的方法 (D)助長世族的發展。
- (B)秦始皇以「廢封建、行郡縣」作為統治國家的方式，其目的為何？  
(A)擴張版圖 (B)中央集權 (C)控制思想 (D)選拔人才。
- (D)阿德看了一部有關中國皇帝的戲劇，劇情中提及他擊滅東突厥，被西北各族君主尊稱為「天可汗」。請問：劇中的皇帝應該是誰？  
(A)秦始皇 (B)漢武帝 (C)隋文帝 (D)唐太宗。
- (C)「阿拉伯帝國興起，在唐玄宗時與中國發生戰爭；唐軍戰敗，許多擔任士兵的工匠被俘虜。就這樣，中國的科技成就西傳。」請問：這一段文字是在描述哪一項文物西傳的經過？(A)絲織品 (B)印刷術 (C)造紙術 (D)指南針。
- (B)絲路為世界文化遺產，東起中國，西至羅馬帝國，商人往返，絡繹不絕。請問：這條絲綢之路在何時開通？(A)秦代 (B)漢代 (C)魏晉 (D)唐代。
- (A)古國占城位於今越南中部，位處熱帶地區，宋代時從當地引進下列何種作物到中國，對農業生產有重要的發展？(A)早熟稻 (B)玉米 (C)馬鈴薯 (D)棉花。
- (B)宋代因為一項技術的發明，讓知識傳播迅速，對於科舉的盛行也有重大影響。請問：該項發明為何？(A)秧馬 (B)印刷術 (C)造紙術 (D)度量衡。
- (C)廣翰是宋代市舶司的官員，他最可能從事下列何種工作？  
(A)監督移民 (B)巡邏海岸 (C)徵收關稅 (D)收取貢品。
- (D)後來隋朝以何種制度取代此種不公平的任官制度？  
(A)宗法血緣 (B)九品任官 (C)封建體制 (D)科舉制度。
- (A)隋唐時期流行的胡床、胡舞，是由何地傳入中國的？  
(A)西域 (B)日本 (C)印度 (D)阿拉伯。
- (C)阿拉伯人將中國的火藥帶到歐洲，改變歐洲的戰爭模式，間接影響歐洲民族國家的形成。請問：火藥為哪一個時代的科技成就？

- (A)秦漢 (B)隋唐 (C)宋元 (D)明清。
12. (D) 今日所見的長城為明代所修築，明代長城是為了抵禦北方哪一個民族？  
(A)契丹 (B)女真 (C)匈奴 (D)蒙古。
13. (D) 明代後期，海商集團勢力興盛，其貿易非循官方正規管道，而為私自發展。請問：海商形成的原因，與下列何事關係最為密切？  
(A)蒙古侵擾 (B)朝貢冊封 (C)女真崛起 (D)海禁政策。
14. (B) 18 世紀中期以後，當時中國與西方世界中斷往來，下列何者是造成當時雙方中斷往來的主要原因？ (A)流寇為亂劇烈 (B)雍正下令禁教 (C)葡人從中壟斷 (D)康熙實施海禁。
15. (A) 清末第一個改革運動——自強運動，它的展開最主要是受到哪一個戰爭戰敗的刺激？ (A)英法聯軍 (B)鴉片戰爭 (C)甲午戰爭 (D)怛羅斯之役。
16. (B) 日本自明治維新之後，開始積極向外擴張。請問：中國為了哪一個藩屬國問題，與日本爆發甲午戰爭？ (A)越南 (B)朝鮮 (C)緬甸 (D)琉球。
17. (D) 選舉快到了，凱信翻開候選人的學經歷和政見，發現有很多候選人都有外國的學歷，大部分都是留學美國居多。凱信有個疑問，究竟中國政府最早選派幼童留學美國是在何時呢？  
(A)戊戌變法時期 (B)立憲運動時期 (C)中華民國時期 (D)自強運動時期。
18. (A) 20 世紀初期有人議論：「□□殘害肢體，動作不便，使女子深居簡出，無法受教育」，進而主張廢除此事。請問：□□為何？  
(A)纏足 (B)紋面 (C)留辮 (D)刺青。
19. (D) 有一則徵婚啟事：「第一、不纏足。第二、識字。第三、男子不娶妾。第四、丈夫死後，妻子可以改嫁。第五、意見不合，可以離婚。」這則啟事的時空背景為何？ (A)唐代民族文化開放 (B)元代外來文化傳入 (C)清中葉開港通商 (D)清末自由思想引進。
20. (C) 「上海女子商業儲蓄銀行」由嚴淑和等幾位女性發起創辦，反映了近代上海金融業的客觀需求。當時這家銀行標榜著為女性服務，行員幾乎全是女性，在該間銀行開戶的客戶們也以女性為主。請問：上述銀行創辦時，中國社會最可能出現下列哪個景象？ (A)街上男人都穿長袍馬褂 (B)漢人有錢人家的女兒一定要裹小腳 (C)可以在街上看到電燈、汽車和西式餐館 (D)知識分子念的書全部都是四書五經。

公民科題庫

1. (D)我國對於失職或違法的公務人員設有監督制度。根據【圖十二】中兩人的對話，此彈劾案的對象應該為下列何者？

- (A)立法委員 (B)監察委員 (C)地方公務人員 (D)正副總統。



【圖十二】

候選人名冊	年齡
1 號	25 歲
2 號	23 歲
3 號	30 歲
4 號	40 歲

【表二】

2. (A)【表二】為某政黨黨內初選名單，此次初選應是為了參加何種公職人員選舉？  
 (A)民意代表 (B)鄉長 (C)直轄市市長 (D)正副總統。
3. (A)立法院對行政院院長提出不信任案通過後，行政院院長得呈請下列何者解散立法院？  
 (A)總統 (B)司法院院長 (C)監察院院長 (D)大法官。
4. (D)崇益正在聆聽一場政治演講，為防止【圖十三】中演講者所描述的狀況發生，現代國家的中央政府體制設計，大多採用哪一種原則？  
 (A)以民為主 (B)極權統治 (C)君主立憲 (D)權力分立。



【圖十三】



【圖十四】

5. (C)我國法律分為三個位階，關於【圖十四】中兩人所指的法律，下列敘述何者正確？  
 (A)屬於最低的法律位階 (B)具有最強的法律效力 (C)亦由立法院制定與修正 (D)具有最高性、固定性、原則性三項特性。
6. (C)在西方民主國家，中央政府的分權方式大多採取「三權分立」原則。請問：上述所說的三權為何？  
 (A)選舉、罷免和複決權 (B)請願、訴願和訴訟權 (C)行政、立法和司法權 (D)考試、監察和司法權。
7. (C)下列哪一職位負責監督地方行政機關？

(A)縣、市長 (B)立法委員 (C)縣、市議員 (D)司法院大法官。

8. (A)所謂公共造產，就是地方政府主動結合地方上的人力、物力及財力，發揮自力更生的精神，經營各種生產事業，再將營運的收入建設地方，進而促進地方繁榮。請問：下列何者即屬於「公共造產」？(A)市立游泳池 (B)青年創業輔導計畫 (C)金曲獎頒獎典禮 (D)中華職棒大聯盟賽。

9. (A)國家推動社會福利措施，對社會弱勢群體給予特別的照顧，此為現代民主國家的哪一項功能？  
(A)推動社會福利 (B)維護社會秩序 (C)促進產業發展 (D)改善教育環境。

10. (D)下列何者屬於地方自治團體？  
(A)臺灣省 (B)彰化縣中西里 (C)屏東縣楓港村 (D)嘉義縣阿里山鄉。

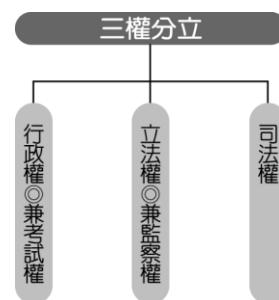
11. (C)志奇是知名的 youtuber，大多拍攝討論社會時事類的影片。某集內容為測驗友人對公民投票的了解，志奇提問：「下列何者屬於對『事』的投票，可以交付公投？」何人的回答正確？



12. (C)媽媽看到報紙標題「中央選舉委員會決定年底選舉。」便提醒爸爸：「未來應該開始觀察各黨所提出的候選人，也該思考要投給誰。」關於選民在選舉時的做法，下列敘述何者正確？ (A)投票時應考量人情壓力 (B)應選擇擅於競選技巧的候選人 (C)應評估候選人所屬政黨的政績 (D)賄選屬違法行為，接受賄選則不違法。

行政院依據《公民投票法》的授權，訂定《公民投票法施行細則》，並據此辦理公投事項。

【圖十五】



【圖十六】

13. (A)小詹正在蒐集公民投票的資料如【圖十五】，關於以下的說明，下列何者最正確？  
(A)文字中提到的法令均屬於《憲法》位階 (B)行政院的做法是依據《行政程序法》規定 (C)主要在說明立法機關制定法律的過程 (D)說明中提及的法令均須經公民投票複決才會生效。

14. (B)從【圖十六】可以觀察到這樣的政府體制，可能會產生何種流弊？

(A)司法權無法超出黨派之外，並依據法律獨立行使職權 (B)行政權兼考試權，易濫用私人；立法權兼監察權，國會易專制 (C)考選制度選出來的人，不一定能符合用人需求 (D)互相制衡的設計，可避免政黨立場或利害得失的衝突。

15. (A)阿妙剛從大學畢業，決定參加今年的公務人員考試。請問：阿妙參加國家考試是行使人民的何種權利？ (A)參政權 (B)平等權 (C)受益權 (D)自由權。
16. (B)我國中央與地方政府職權的畫分標準為下列何者？  
(A)事務的重要性 (B)事務的性質 (C)事務所需的經費多寡 (D)事務的難易度。
17. (C)下課時阿丸無故拆開擺在小欣桌上的信件，還惡作劇的將信件內容大聲念出來。請問：阿丸這樣的做法侵犯了哪一項基本權利？  
(A)參政權 (B)平等權 (C)自由權 (D)受益權。
18. (C)關於行政機關與立法機關的配對，下列何者正確？ (A)新竹市政府—新竹縣議會 (B)嘉義市政府—斗六市民代表會 (C)屏東縣政府—屏東縣議會 (D)宜蘭市政府—宜蘭市議會。
19. (D)「米粉」顧名思義應由米製成，但國內的米粉大多由玉米澱粉製成，而某機關卻長期未積極管理及提出有效解決對策，嚴重影響消費者權益。監察院經過調查後，對該機關提出什麼？ (A)糾舉 (B)彈劾 (C)審理 (D)糾正。
20. (A)在西方民主國家，多採用三權分立原則。請問：下列何者為三權分立示意圖？

