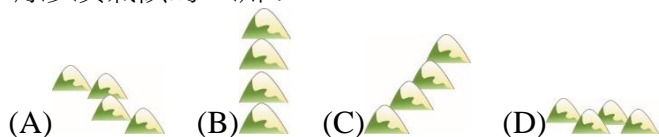


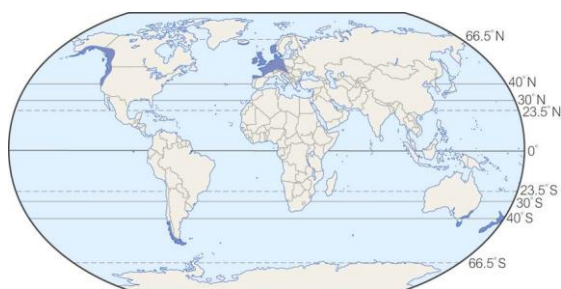
明正國中 110 學年度第 1 學期 九年級 社會領域 補考題庫

地理科題庫

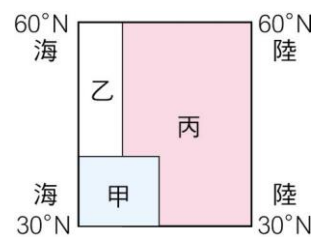
- (C) 從西歐向東橫亙到歐俄的歐洲大平原，對歐洲所造成的影響並不包括下列何者？
 (A) 土壤肥沃，適宜發展農業 (B) 交通發達 (C) 因往來便利，加上語言相似，因此較易溝通 (D) 重要的都市大都集中在此
- (D) 歐洲的主要山脈呈現下列哪種走向，使其不會阻擋海洋水氣，讓歐洲成為唯一沒有沙漠氣候的一洲？



- (C) 氣候類型的分布特色受其位置影響十分明顯，請根據【圖一】中的分布位置加以判斷，該圖最可能為下列哪種氣候類型的全球分布圖？(A) 熱帶雨林氣候 (B) 溫帶季風氣候 (C) 溫帶海洋性氣候 (D) 溫帶地中海型氣候

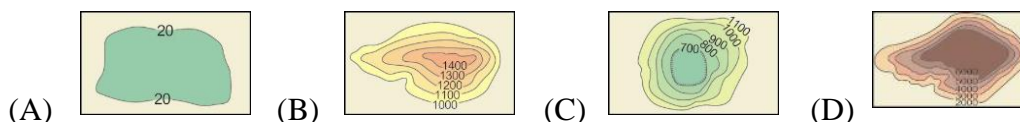


【圖一】



【圖二】

- (B) 【圖二】為歐洲氣候分布簡圖。若依照溫帶海洋性、溫帶地中海型、溫帶大陸性氣候的順序排列，則下列何者正確？
 (A) 甲→丙→乙 (B) 乙→甲→丙 (C) 丙→甲→乙 (D) 丙→乙→甲
- (A) 歐洲地區的自然條件優越，人口分布平均，沒有特別集中或人口稀疏的分布現象。該地區主要的地形主體為下列何者？

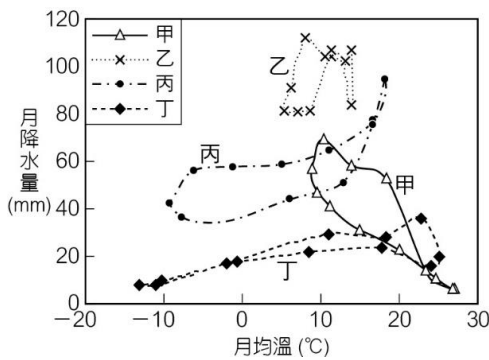


- (C) 環地中海地區的氣候特徵，與行星風帶季移有關。下列哪項敘述便是造成環地中海氣候特徵的影響因素？
 (A) 夏：西風帶；冬：赤道無風帶 (B) 夏：赤道無風帶；冬：副熱帶高氣壓帶
 (C) 夏：副熱帶高氣壓帶；冬：西風帶 (D) 夏：副熱帶高氣壓帶；冬：赤道無風帶
- (B) 北歐與北亞緯度相當，但北歐冬季時沿海港口多為不凍港，北亞則否。造成如此

差異的主要原因為何？

(A)北歐有北太平洋暖流經過，北亞則為黑潮 (B)北歐有北大西洋暖流經過，北亞則為親潮 (C)北歐有阿拉斯加暖流經過，北亞則為赤道洋流 (D)北歐有盛行西風調節，北亞則無

8. (A)「當地穀類以栽植小麥為主，此外還種植橄欖、葡萄等果樹。果樹通常和穀類間作，樹蔭下種小麥。橄欖油和葡萄酒則是當地的特產。」上文所述的農業發展最可能出現在【圖三】中何種氣候類型？(A)甲 (B)乙 (C)丙 (D)丁



【圖三】

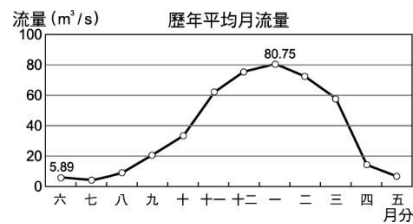


【圖四】

9. (A)多瑙河是歐洲第二大河，發源於德國，流經中歐及東歐等 10 個國家，是世界流經國家最多的河流。該河最後從多瑙河三角洲注入黑海。多瑙河流經【圖四】中哪一個區域的距離最長？(A)甲 (B)乙 (C)丙 (D)丁
10. (C)「雪線」的海拔高度會依照所處緯度位置的不同而高度有所差異，該線通常是指高山的某一個常年積雪的高度。【表一】是歐洲某些地區的雪線高度，依此原則推斷，哪個地區所在緯度可能最低？
- (A)北地群島 (B)約特谷冰原 (C)內華達山脈 (D)阿爾卑斯山脈伯朗峰

地名或山系名	雪線高度(公尺)
北地群島	70
約斯特谷冰原	1,000
內華達山脈	3,200
阿爾卑斯山伯朗峰	2,800

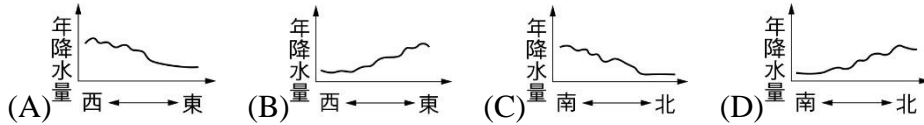
【表一】



【圖五】

11. (C)【圖五】是北半球某地區的河川流量變化資料，從此圖可推測此河流可能位於下列哪一地區？(A)法國北部 (B)溫帶草原氣候 (C)溫帶地中海型氣候 (D)溫帶大陸性氣候
12. (C)歐洲地區的降水量呈現由西向東遞減的趨勢，且愈往東的年溫差也愈大。此現象與哪項因素關係最為密切？
- (A)地勢高低 (B)山脈走向 (C)盛行風向 (D)洋流性質

13. (A) 歐洲大多位於中緯度，以溫帶氣候為主。由西歐到東歐年降水量的空間變化，可用下列哪一張示意圖來表示？



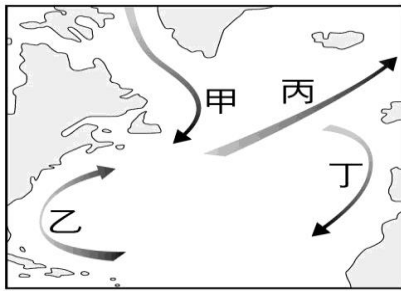
14. (A) 非洲因為外來文化不易傳入，經濟發展較遲緩，曾被稱之為黑暗大陸。下列何者是外來文化難以傳入非洲的主要因素？

(A) 周圍海岸陡直 (B) 氣候終年溼熱 (C) 盆地地形為主 (D) 四周高山阻擋

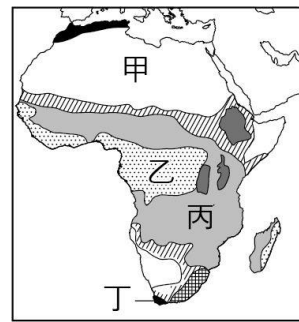
15. (D) 漠南非洲長期被認為是世界上糧食供應最不安全的地區之一，據國際貨幣基金組織統計，該地區有 2.4 億人處於飢餓狀態，部份國家有逾七成人口在獲取食物方面遇到困難。下列何者可能是導致當地饑荒的原因之一？

(A) 醫療資源不足 (B) 氣候終年溼熱 (C) 人口高齡化 (D) 人口增加快速

16. (C) 【圖六】為北大西洋的四股主要洋流，其中可調節歐洲氣候，還能讓港口冬季不結冰的哪一股洋流？(A) 甲 (B) 乙 (C) 丙 (D) 丁

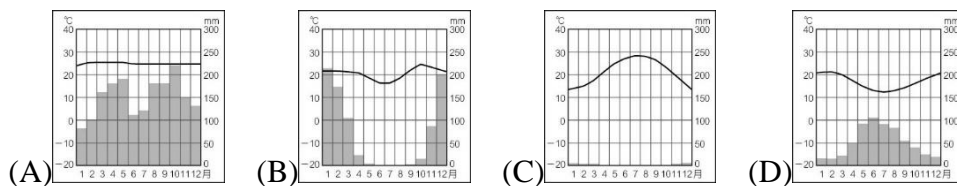


【圖六】



【圖七】

17. (A) 【圖七】為非洲氣候圖，請問下列何者為乙區氣候圖？



18. (D) 俄羅斯天然資源豐富，某項資源必須通過烏克蘭境內運送至歐洲其他國家，若兩國情勢緊張，可能導致歐洲部分國家冬季暖氣不足的情況發生。根據上文所述，俄羅斯出口到歐洲的某項重要資源為下列何者？

(A) 木材 (B) 小麥 (C) 煤 (D) 天然氣

19. (D) 【圖八】為歐洲大陸的四大半島之一，關於此半島的敘述下列何者正確？(A) 此圖為義大利半島 (B) 此半島屬於西歐的範圍 (C) 此半島以阿爾卑斯山為骨幹 (D) 受冰河影響，西部沿海多峽灣地形

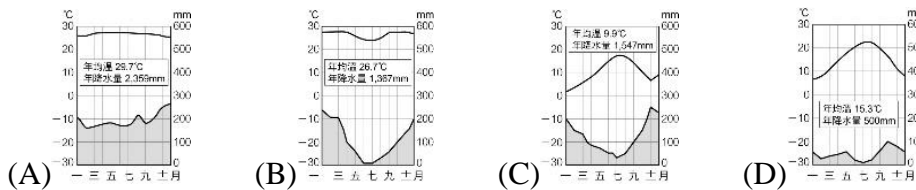


【圖八】



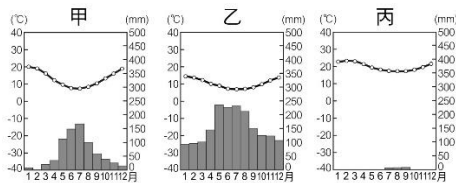
【圖九】

20. (B) 【圖九】為南美洲氣候類型分布圖，乙區的氣候圖應為下列何者？



21. (A) 南美洲智利國土狹長，範圍跨越南回歸線，向南延伸至南緯 50 餘度。請問其氣候類型由南向北排列的依序為何？

(A)甲→乙→丙 (B)乙→甲→丙 (C)甲→丙→乙 (D)丙→甲→乙



22. (C) 美國以新疆生產涉及非法強迫勞動為由，禁止新疆部分棉花、番茄進口，美國本身也有棉花業，以專業化、機械化進行市場導向的生產。【圖十】中哪一個地點位在美国棉花帶上？(A)甲 (B)乙 (C)丙 (D)丁



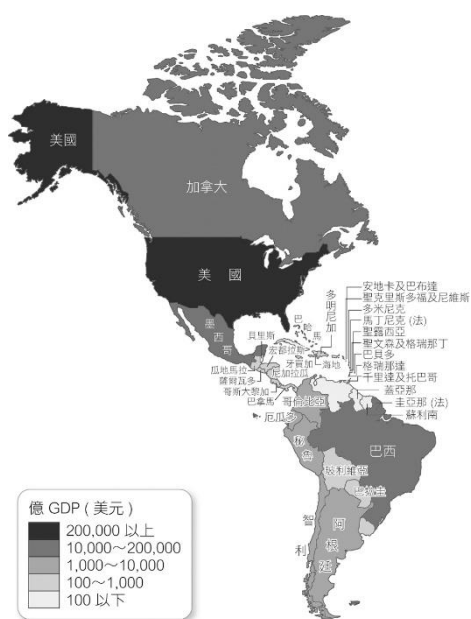
【圖十】



【圖十一】

23. (B) 【圖十一】為巴西出口到美國與中國比重變化圖，根據圖中資料判斷下列哪一個資訊解讀正確？(A)巴西對中國呈現出超 (B)巴西近年來提高對中國的出口 (C)巴西對美國呈現入超 (D)對中國出口主要以工業產品為主

24. (B) 圓圓在製作一張美洲的分層設色圖（如【圖十二】），圖層的分布特性是顏色愈深代表數值愈大，但粗心大意的她忘記把圖名標示出來了。根據圖中內容判斷，圓圓製作的地圖圖名可能為下列何者？(A)美洲各國（地區）人口密度分布圖 (B)美洲各國（地區）GDP 示意圖 (C)美洲各國（地區）雨林面積分布圖 (D)美洲各國（地區）鐵礦生產量分布圖

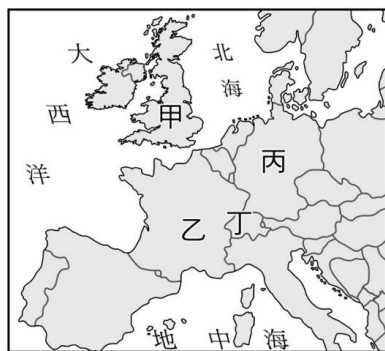


【圖十二】

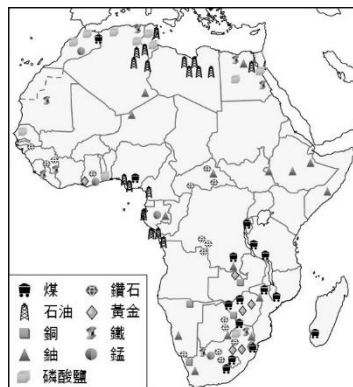
	1990 年代以前	1990 年代以後
經濟狀態	(甲)市場經濟	(乙)成為外資投資區
主要貿易對象	(丙)歐盟國家	(丁)俄羅斯

【表二】

25. (B) 東歐各國在 1990 年代蘇聯瓦解後，國家政治與經濟紛紛轉型，東歐各國轉型前後經濟狀態整理如【表二】。根據【表二】中內容判斷，下列何者正確？(A)甲 (B)乙 (C)丙 (D)丁
26. (A) 在 2016 年 6 月 23 日的全民公投中，有 51.9% 的英國選民投票支持離開歐盟，2020 年 12 月 31 日英國徹底脫離歐盟。英國位於【圖十三】中何處？(A)甲 (B)乙 (C)丙 (D)丁



【圖十三】



【圖十四】

27. (D) 【圖十四】是非洲礦產分布圖，請問圖中哪個國家利用黃金、鑽石、鈾礦等礦業

開採為基礎，得以發展工業，成為非洲經濟發展最穩定的國家？

(A)奈及利亞 (B)獅子山國 (C)阿爾及利亞 (D)南非共和國

28. (D) 6月19日是美國「黑奴解放日」，源自1865年6月19日林肯總統廢除了美國奴役命令。美國黑人族群主要來自於美國棉花的種植，當時大量的黑人被歐洲人通過貿易或搶奪、綁架等手段，來到北美種植棉花。美國黑人族群主要分布於【圖十五】中何處？(A)甲 (B)乙 (C)丙 (D)丁



【圖十五】



【圖十六】

29. (C) 【圖十六】為北美洲與中南美洲出口產品分布圖，根據圖中內容判斷，關於兩洲出口產品的特色，下列何者正確？
 (A)北美洲主要出口食品，南美洲主要出口貴金屬 (B)北美洲主要出口汽車，南美洲主要出口電子產品
 (C)北美洲主要出口工商業產品，南美洲主要出口農礦產品
 (D)北美洲主要出口服飾，南美洲主要出口石化原料
30. (A) 某個旅行社的標語：「跳出電視的框架，旅行在非洲這塊野生的大地，感受非洲草原迎面吹來的微風，在那一瞬間傳來斑馬與獅子的叫聲，猜那是一場血的盛宴，還是一個無緣的相遇，需要你親身來體驗。」上文描述的是著名的動物大遷徙，是在肯亞和坦尚尼亞之間隨著太陽直射不斷遷徙的活動。如果太陽直射是其必要條件，則下列哪個形成的時間與地點的組合，能遇到最多動物的盛況？
 (A)一月：坦尚尼亞 (B)三月：坦尚尼亞 (C)一月：肯亞 (D)三月：肯亞

歷史科題庫

1. (A) 蘇美人是最早定居於兩河流域的民族，他們逐漸發展出城邦。請問：下列哪一項

是蘇美人的文化成就？ (A)楔形文字 (B)太陽曆 (C)一週七天制 (D)漢摩拉比法典。

2. (B) 這個宗教的信徒崇拜象徵光明的火，相信世上有善與惡兩股勢力，而善神終會戰勝惡神。請問：這應是哪個宗教的特色？
(A)佛教 (B)祆教 (C)基督教 (D)伊斯蘭教。
3. (C) 希臘史學家說「埃及是□□河的贈禮」，因為這條河每年都會定期氾濫帶來肥沃的土壤，進而發展出高度的農業文明，請問：□□指的是何者？
(A)黃河 (B)長江 (C)尼羅河 (D)印度河。
4. (D) 西元前六世紀時，哪一個民族征服西亞、埃及等地，建立橫跨歐、亞、非三洲的大帝國？ (A)蘇美人 (B)巴比倫人 (C)希伯來人 (D)波斯人。
5. (A) 這個城邦以民主制度最著名，成年男性公民有權參與政治，且官員多經由抽籤產生。請問：上文所提的是下列哪個城邦？ (A)雅典 (B)斯巴達 (C)特洛伊 (D)馬其頓。
6. (D) 拜占庭帝國於哪一位皇帝在位時，積極對外擴張版圖，且編訂法典並修建聖索菲亞大教堂？ (A)凱撒 (B)君士坦丁 (C)屋大維 (D)查士丁尼。
7. (D) 羅馬共和後期軍人勢力崛起，其中哪位將領因為企圖實行獨裁，最後遭人設計殺害？ (A)屋大維 (B)查士丁尼 (C)君士坦丁 (D)凱撒。
8. (A) 奧林匹克運動會的發源地是下列哪一個地區？
(A)希臘 (B)羅馬 (C)西亞 (D)埃及。
9. (A) 伊斯蘭教的信徒稱為「穆斯林」，而其宗教的經典為何？
(A)《古蘭經》 (B)《新約聖經》 (C)《吠陀經》 (D)《舊約聖經》。
10. (B) 西羅馬帝國滅亡後，整個西歐陷入混亂的局面，此時，哪一個宗教適時成為一股穩定社會的力量，負擔濟貧、教育的責任？
(A)祆教 (B)基督教 (C)佛教 (D)伊斯蘭教。
11. (D) 佛教是現今世界三大宗教之一。請問：佛教的創立者是誰？
(A)耶穌 (B)耶和華 (C)穆罕默德 (D)釋迦牟尼。
12. (B) 文藝復興時期的主要內涵為何？
(A)寫實主義 (B)人文主義 (C)軍國主義 (D)浪漫主義。
13. (C) 莎士比亞是文藝復興時期的劇作家，這些作品皆使用英文，而非傳統的拉丁文。請問：這是當時的何種風潮？
(A)透視技法 (B)復古風潮 (C)方言文學 (D)宗教改革。
14. (B) 下列那一新教派提倡「預選說」，並主張勤儉，強調努力工作累積財富，以榮耀上帝？ (A)路德教派 (B)喀爾文教派 (C)英國國教派 (D)耶穌會。

15. (C) 十五世紀興起的歐洲海外拓殖運動，其最主要的動機是什麼？
(A) 消滅伊斯蘭勢力 (B) 解決人口過剩問題 (C) 尋求與東方貿易的途徑 (D) 解決勞力不足的問題。
16. (C) 十六世紀，歐洲人來到美洲，侵略美洲當作殖民地，請問這段時期導致美洲原住民人口銳減的主要原因為何？ (A) 原住民和殖民者合作，攻擊敵對部落 (B) 殖民者強迫原住民在農場、礦場做苦工 (C) 殖民者帶來傳染病 (D) 歐洲人引進拉丁文字和羅馬公教。
17. (C) 十七世紀有一個歐洲國家來到亞洲從事貿易活動，並以巴達維亞為主要據點。他們也曾占領臺灣，將臺灣當作國際貿易的轉運站。請問：上述的歐洲國家指的是下列何者？ (A) 西班牙 (B) 葡萄牙 (C) 荷蘭 (D) 英國。
18. (A) 他是科學革命的集大成者，提出「三大運動定律」和「萬有引力定律」。請問：「他」是下列何人？ (A) 牛頓 (B) 哥白尼 (C) 伽利略 (D) 培根。
19. (D) 啟蒙運動最強調下列哪一項概念？ (A) 感性 (B) 迷信 (C) 浪漫 (D) 理性。
20. (B) 現代民主政府多採行三權分立的運作方式，美國則可以說是最早實現三權分立的國家，我們可以將這些成果歸因於哪個時代的成就？
(A) 科學革命 (B) 啟蒙運動 (C) 宗教改革 (D) 文藝復興。

公民科題庫

1. (A) 《民法》是規範私人相互間權利義務關係的法律，其內容主要在規範私人間的哪些關係？(甲)財產關係 (乙)身分關係 (丙)犯罪行為
(A) 甲乙 (B) 甲丙 (C) 乙丙 (D) 甲乙丙。
2. (D) 為了解學生對「稀少性」的理解情形，老師請學生舉例說明，下列哪位學生所提的例子有誤？ (A) 手機記憶體容量有限，無法下載所有遊戲軟體 (B) 只帶 100 元出門，不能將想吃的東西都買回家 (C) 上班族收入固定，每天都要為開銷精打細算 (D) 逛大賣場，有琳瑯滿目的商品可以選擇。
3. (C) 外國貨幣可兌換的新臺幣變少，是指下列何者？
(A) 絕對利益 (B) 國際貿易 (C) 新臺幣升值 (D) 新臺幣貶值。
4. (D) 同樣的商品在便利商店的售價往往比在大賣場貴一些，還是吸引很多消費者上門。這是因為便利商店不是只販售商品，也包辦許多生活上的大小事，提供非常多元的服務，例如：沖印相片、影印文件、收取包裹、繳費服務、兌換中獎發票等。業者提供多元化的超商服務屬於何種競爭方式？ (A) 價格競爭 (B) 建立認同 (C) 企業形象 (D) 非價格競爭。

5. (C)江先生3年前向林小姐借了50萬元做生意，林小姐多次向江先生催討，江先生都說生意失敗沒有辦法還錢，最後林小姐只好向法院提出訴訟。林小姐所提出的應為下列何種訴訟？(A)行政訴訟 (B)刑事訴訟 (C)民事訴訟 (D)訴願。
6. (A)徐岳和智恩夫妻為了經營滷味店或飲料店而激烈的討論，但必須有所取捨。上述可用何種概念解釋？(A)選擇 (B)消費 (C)需求 (D)交換。
7. (A)消費者在從事消費行為時，若遇到權益受損的情形，除了可向民間的消費者保護團體或政府相關單位提出申訴外，也可利用下列哪個專線電話，請求協助？(A)1950 (B)1968 (C)1995 (D)1999。
8. (D)以機會成本的概念來看，只要使用到生產資源，就必須支付代價，不論自有或來自他人，都必須計入生產成本。關於生產者的資金籌集，以下敘述何者不正確？(A)可以是生產者自身的儲蓄 (B)可以對外借款(C)借用資金衍生的利息也應計入成本 (D)使用自己的儲蓄可以節省利息成本。
9. (A)我們常說貨幣是「交易媒介」，意即表示貨幣的何種功能？(A)買賣行為的支付工具 (B)計算財貨與勞務的價值 (C)借錢與還錢的計算標準 (D)儲存貨幣，供未來使用。
10. (D)偏遠山區交通不便，居民及學童多倚賴公車做為代步工具，因搭乘人數不多，業者考慮刪減部分公車路線。若真裁撤部分路線，將會嚴重影響當地居民的交通權益。由此可知，社會上除了考量經濟效益之外，還必須兼顧何項原則？(A)民主法治 (B)服從多數 (C)選擇自由 (D)公平正義。
11. (B)一個國家與另一個國家之間貨幣兌換的比率，稱為匯率。假定美元兌換新臺幣的匯率上升，造成新臺幣貶值時，則下列相關的敘述何者錯誤？(A)不利於進口美國商品 (B)不利於出口臺灣商品 (C)到美國旅遊團費變貴 (D)臺灣出口商品變便宜。
12. (A)依據我國《民法》的規定，下列何者屬於「完全行為能力人」？(甲)年滿20歲的成年人 (乙)已結婚的未成年人 (丙)年滿7歲以上的未成年人 (丁)未滿7歲的未成年人 (戊)受監護宣告之人 (A)甲乙 (B)甲丙 (C)乙丙 (D)丁戊。
13. (B)當調解成立後，由調解委員會製作的調解書，經下列何者核定後，調解書即具有法律上的效力？(A)律師 (B)法院 (C)大法官 (D)檢察官。
14. (C)大學生小銘在段考完和同學一起到桌遊店玩桌遊，玩到一半與隔壁桌的同校學生發生爭執，小銘抓起桌遊店的遊戲，用力的摔壞在地上。小明應負起何種責任？(A)無須負責 (B)行政責任 (C)損害賠償責任 (D)債務不履行責任。
15. (B)依我國《民法》規定，個人的法律行為，其效力會有所不同，主要判定的關鍵為何？(甲)年齡 (乙)性別 (丙)職業 (丁)精神狀態 (A)甲乙 (B)甲丁 (C)乙丙 (D)

丙丁。

16. (D) 今天輪到筑玫當值日生，負責整理班級環境，並在中午幫同學盛飯。她早上刷牙洗臉後就出門搭公車上學，進校門前到早餐店買了早餐。上數學課前，她發現忘記帶圓規，便向隔壁班的同學借，並和同學約好放學後一起去練舞。筑玫這天的行為中，哪些屬於契約行為？ (A)搭公車、買早餐、整理班級環境 (B)刷牙洗臉、買早餐、幫同學盛飯 (C)買早餐、借圓規、和同學約練舞 (D)搭公車、買早餐、向同學借圓規。
17. (B) 《民法》是規範私人相互間權利義務關係的法律。下列關於《民法》的敘述，何者正確？ (A)主要規範內容為各種私人間的犯罪行為和身分關係 (B)必須符合《憲法》對於基本人權的規定 (C)《民法》的法律位階高於《憲法》 (D)收養他人子女只要雙方口頭互相表示且意思一致即可。
18. (A) 《民法》主要規範財產關係和身分關係，下列何者的行為屬於《民法》規範的身分關係？ (A)陳小姐書寫遺囑，交代遺產全部留給母親 (B)張先生承租店面經營髮廊，與房東簽訂 5 年的租賃契約 (C)高小姐因投資生意失利，向姐姐借貸 100 萬元應急 (D)吳先生因開車時使用手機，意外撞毀路旁的民宅。
19. (A) 民事訴訟是處理人民私人間糾紛的訴訟制度。請問：下列關於民事訴訟制度之相關規定，哪些是正確的？(甲)有關私人權益遭受侵害的問題，當事人都可以向法院提出民事訴訟 (乙)雙方當事人需自行提出有利自己的證據 (丙)雙方都必須向法官陳述，並與對方進行辯論 (丁)法官根據檢察官與律師的證據、主張及辯論內容進行判決 (A)甲乙丙 (B)甲乙丁 (C)甲丙丁 (D)乙丙丁。
20. (D) 政府自西元 2016 年開始推行「汰舊換新」補助政策，針對購買汽車、機車的車主，在換購新車前後半年內報廢或出口原本的舊車，都能享有汽車 5 萬元、機車 4 千元的貨物稅減徵優惠。從政策開始到西元 2019 年共增加 44 萬臺車輛的汰換，帶動汽車產業產值達 2,115 億元，政府的稅收增加約 1,057 億元，節能減碳效果更高達 72.39 萬公噸。有關此項政策在不同面向誘因的分析，何者正確？ (A)對產業效益來說，屬於負向誘因 (B)對政府稅收來說，屬於非金錢誘因 (C)對環保成效來說，屬於金錢誘因 (D)對需換車車主來說，屬於正向誘因。