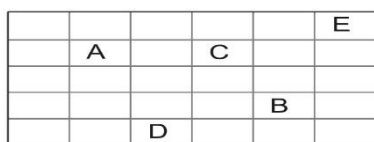


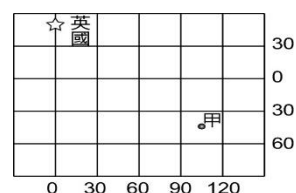
明正國中 110 學年度第 1 學期 七年級 社會領域 補考題庫

地理科題庫

- (D) 怡君在安琪的西方，而小明在怡君的北方，則小明在安琪的何方？
(A)東南方 (B)西南方 (C)東北方 (D)西北方
- (C) 【圖一】為一張簡易地圖。圖中 B 位於 C 的何方？
(A)東南方 (B)西南方 (C)東北方 (D)西北方
- (D) 北半球冬至時，太陽光最北只能照到北緯幾度？
(A)20 度 (B)23.5 度 (C)60 度 (D)66.5 度
- (D) 英國的霍格華茲魔法學校在七月中旬舉辦畢業典禮後，校長鄧不利多準備帶哈利波特一行人到【圖二】中的甲城尋找佛地魔，在他們的行李中最需要的是哪個季節的衣服？(A)春裝 (B)夏裝 (C)秋裝 (D)冬裝



【圖一】



【圖二】

- (B) 住在高雄（東經 120 度）的睿軒打算到美國紐約（西經 75 度）參加美國棒球選手選秀，於臺灣當地搭乘 6 月 30 日下午 2:00 的飛機出發，飛行時間為 17 小時。睿軒到達紐約的時間是當地幾月幾日幾點？
(A)6 月 30 日上午 8:00 (B)6 月 30 日下午 6:00
(C)7 月 1 日上午 8:00 (D)7 月 1 日下午 8:00
- (C) 曉花早上 8:00 從臺灣搭飛機，欲前往洛杉磯（西經 120 度），到該地時已經是當地中午 12:00。曉花在空中飛行的時間有多久？
(A)12 小時 (B)16 小時 (C)20 小時 (D)24 小時
- (C) 如果圖上距離 5 公分代表實際距離 25 公里，其比例尺是多少？
(A) $\frac{1}{5,000}$ (B) $\frac{1}{50,000}$ (C) $\frac{1}{500,000}$ (D) $\frac{1}{5,000,000}$
- (D) 在一張 1:50,000 的地圖上，小明家距離曉華家大約 5 公分；根據比例尺的計算公式（比例尺=圖上距離÷實際距離），兩家之間的實際距離是多少？
(A)5 公里 (B)50 公里 (C)25 公里 (D)2.5 公里
- (C) 采姿打算用一張 15 公分×20 公分的圖畫紙，繪製學校禮堂平面圖，測得禮堂的長寬分別為 30 公尺×20 公尺。采姿應該使用下列哪種比例尺，畫出來的禮堂最大且

不超出紙張範圍？ (A)1：40 (B)1：80 (C)1：160 (D)1：240

10. (C)下列哪個比例尺最大？

(A)圖上 5 公分代表 0.5 公里 (B)圖上 1 公分代表 1 公里 (C)五千分之一
(D)1：20,000

11. (B)冬季時，新聞常看到臺灣各測站某項觀測值超過標準如【圖三】。下列哪項因素，最可能造成這種現象？(A)土石流 (B)沙塵暴 (C)泥沙堆積 (D)岩石坍方

11/2 各地懸浮微粒概況	
單位：微克/立方公尺	
破表 (逾千微克)	臺東市、雲林崙背、斗六、臺西、嘉義朴子、彰化市、臺南、安南、新營
有害程度 (逾500微克)	豐原(538)、沙鹿(879)、二林(612)、嘉義市(585)、善化(939)、橋頭(621)、仁武(563)、楠梓(603)、左營(657)、前金(549)、鳳山(543)、前鎮(507)
非常不良 (逾350微克)	線西(367)、臺中崇倫(489)、美濃(387)、小港(458)、屏東市(370)

【圖三】

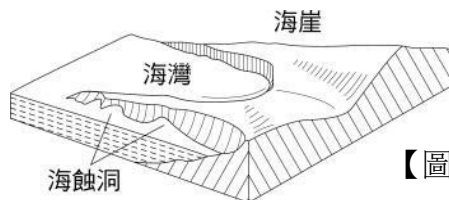
相對高度	面積 (%)
> 1,000	22
500~1,000	32
100~500	21
50~100	5
< 50	20

【表一】

12. (A)【表一】為臺灣相對地勢面積比例，由附表可得知下列哪項事實？

(A)地勢起伏大 (B)河川坡陡流短 (C)雨量分布不均 (D)四周島嶼眾多

13. (D)若將臺灣地區的海岸分成下列四區：(甲)東部(乙)南部(丙)西部(丁)北部，則【圖四】的海岸地形主要分布於何區？(A)甲 (B)乙 (C)丙 (D)丁



【圖四】

14. (C)臺灣有許多地名有「崙」字，例如：崙背、二崙等，這些地名和沙丘地形的關係密切。由此判斷，此類地名應該是普遍分布在哪个地區？

(A)東北角海岸 (B)恆春半島 (C)西南沿海 (D)花東縱谷

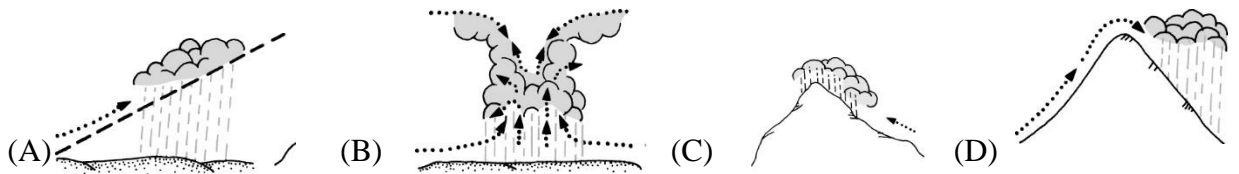
15. (C)臺灣的東部海岸屬於岩岸，沿岸海水很深，但不利於航運與漁業的發展，其主要原因為何？

(A)三角洲平原的面積廣闊 (B)地震、颱風等災害頻繁(C)斷層海岸平直缺乏灣
(D)黑潮暖流強勁行船不易

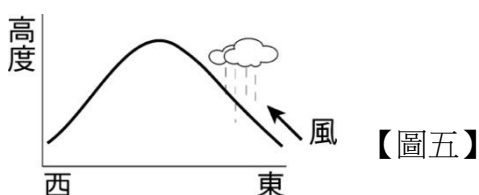
16. (D)高雄港跟基隆港是臺灣重要的兩個港口，高雄港比起基隆港，更多了哪種優勢？

(A)海水較深 (B)海岸線曲折 (C)冬季不結冰 (D)腹地平原廣大

17. (B)奕翔利用暑假到花東參加原住民的豐年祭，在當地他最容易看到哪種海岸景觀？
 (A)停泊船隻的曲折港灣 (B)直逼海岸的高聳峭壁 (C)抬升於地面的珊瑚礁
 (D)平緩廣闊的沙灘和魚塢
18. (B)下列哪個火山島上的地形景觀，與其他三者不同？
 (A)綠島 (B)澎湖群島 (C)蘭嶼 (D)龜山島
19. (C)大雄正在看電視的氣象預報，他無法從氣象預報中獲得下列哪項資訊？
 (A)最高溫 (B)降雨機率 (C)日照時間長短 (D)紫外線指數
20. (B)「夏季午後的天空，不一會兒烏雲密布，瞬間下起傾盆大雨，街上的行人忙著跑去躲雨，計程車司機倒是笑開了眼……」上文中的降雨型態可能是下列哪張示意圖？

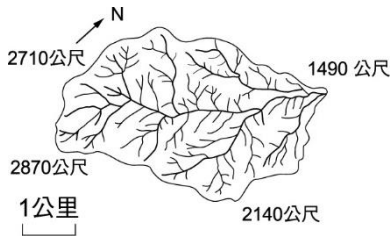


21. (A)臺灣北部及南部的「年均溫」及「年溫差」變化，下列敘述何者完全正確？
 (A)南部年均溫較高，北部年溫差較大 (B)南部年均溫較低，北部年溫差較小
 (C)南部年均溫較高，北部年溫差較小 (D)南部年均溫較低，北部年溫差較大
22. (D)臺灣是個位於熱帶、副熱帶地區的島嶼，四面環海，氣候深受海洋影響，加上地形錯綜複雜，因此造就出多樣化的氣候。關於影響臺灣氣候的原因，下列敘述何者正確？
 (A)北部四季變化比南部明顯-季風 (B)東北部的基隆和宜蘭多雨-緯度
 (C)冬夏季節盛行風向的不同-洋流 (D)有熱帶、副熱帶、溫帶三種氣候-地形
23. (D)夏季為臺灣地區主要的雨季，除了颱風雨之外，還有下列何者帶來的降雨？
 (A)暖鋒 (B)冷鋒 (C)東北季風 (D)西南季風
24. (B)下列哪段話裡的降雨類型，可以用【圖五】表示？
 (A)敦嘉原本這星期想去旅遊，但無奈每天都下著綿綿細雨，只好取消
 (B)耀廷去爬山，爬到山腰時下起了雨，到山頂時發現雨停了
 (C)宗岳下午去打球，打到一半打雷、暴雨，但雨很快就停了
 (D)建任明天要出國，但遇上颱風暴雨，班機停飛

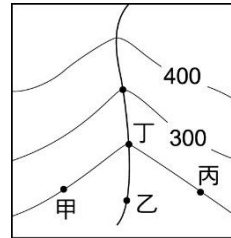


25. (A) 【圖六】為某河流的流域示意圖，圖中河流的主流方向大致是呈現什麼方向？
 (A)東北向 (B)西北向 (C)西南向 (D)東南向

26. (B) 【圖七】為等高線和某河川交會而成的簡圖，圖中何處的地勢最低？
 (A)甲 (B)乙 (C)丙 (D)丁



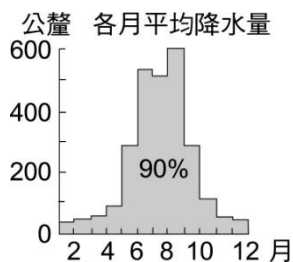
【圖六】



【圖七】

27. (B) 臺灣河川通常河流短促、水量變化大，造成此種特徵的原因有哪些？(甲)降水量少(乙)島窄山多(丙)降雨季節分配不均 (丁)山脈分布南北縱貫
 (A)甲、乙 (B)乙、丙 (C)乙、丁 (D)丙、丁

28. (C) 【圖八】所顯示的降水分布情況，最可能出現在下列哪條河川的流域內？
 (A)淡水河 (B)濁水溪 (C)高屏溪 (D)蘭陽溪



【圖八】

甲	位處板塊擠壓帶
乙	位處海陸位置接觸帶
丙	南北跨越緯度長
丁	東西跨越經度寬

【表二】

29. (A) 臺灣擁有豐富且多樣的生態景觀如【表二】，此現象主要是受到下列哪些因素的影響？(A)甲、乙 (B)乙、丙 (C)丙、丁 (D)甲、丁

30. (B) 民國八十五年賀伯颱風來襲，造成南投縣信義鄉發生有史以來最大規模的土石流，人民才開始注意土石流災害的議題，其後，每逢豪大雨過後，就容易發生土石流災害。臺灣容易發生土石流的原因不包括下列何者？

(A)多山地，且坡度陡 (B)年降水量變化大 (C)山坡地濫墾濫伐 (D)地質脆弱，多鬆散土石

歷史科題庫

1. (B) 史前時代，各個階段的分界，主要是根據什麼？(A)使用器物之類型 (B)文字的

紀錄 (C)人種類別 (D)地名。

2. (D)金屬器文化主要是以何者為代表？(A)長濱文化 (B)大坌坑文化 (C)卑南文化 (D)十三行文化。
3. (D)台灣在開港通商前，最重要的貿易對象為何？
(A)日本 (B)朝鮮 (C)菲律賓 (D)中國大陸。
4. (B)下列哪一個港口不是清帝國後期開放的港口？
(A)安平 (B)鹿港 (C)打狗 (D)淡水。
5. (C)清帝國初期，台灣的糖主要外銷到何處？
(A)東南亞 (B)美國 (C)中國大陸 (D)阿美族
6. (A)荷蘭人占領台灣期間，下列哪一個不是由台灣輸出的商品？
(A)茶 (B)稻米 (C)鹿皮 (D)蔗糖。
7. (C)晚清時期，清廷決定將台灣建省，是受到下列何者的刺激？
(A)英法聯軍 (B)鴉片戰爭 (C)清法戰爭 (D)牡丹社事件。
8. (B)下列哪一項水利設施是灌溉彰化平原？
(A)曹公圳 (B)八堡圳 (C)瑠公圳 (D)嘉南大圳。
9. (B)鄭氏政權之所以能在台灣獨自抗清長達 21 年之久，主要是依靠下列哪一項資源？
(A)豐富的礦產資源 (B)海上貿易的興盛 (C)漢人制度的移入 (D)文化教育的發達。
10. (C)清初台灣與中國大陸之間，開放何處為唯一合法的港口？
(A)八里坌 (B)鹿港 (C)鹿耳門 (D)打狗。
11. (A)台灣開港通商前，對外貿易之商業組織為下列何者？
(A)行郊 (B)洋行 (C)商幫 (D)買辦
12. (A)下列何者是潮州人所信奉之原鄉信仰？
(A)三山國王 (B)清水祖師 (C)開漳聖王 (D)釋迦牟尼。
13. (D)鄭氏時期，台灣本土的大宗物品為何？
(A)軍火、布料 (B)茶、樟腦 (C)瓷器、絲織品 (D)蔗糖、鹿皮。
14. (A)獅球嶺隧道是台灣最早的火車隧道，它主要連接哪兩地？
(A)台北－基隆 (B)台中－台南 (C)台南－高雄 (D)高雄－屏東。
15. (A)漢人與原住民大量通婚現象，主要出現在下列哪一個時期？
(A)荷治時期 (B)鄭氏時期 (C)清帝國時期 (D)日治時期。
16. (D)台灣歷史上第一個漢人政權是何人建立？
(A)鄭成功 (B)施琅 (C)鄭經 (D)政克塽。
17. (A)明初實施海禁政策，其目的為何？

- (A)防止倭寇入侵 (B)避免反清復明 (C)阻止鄭成功佔領台灣 (D)對抗外國通商勢力。
18. (B)荷蘭人在台灣南部主要是傳播何種宗教？
(A)天主教 (B)基督教 (C)佛教 (D)伊斯蘭教。
19. (A)清廷在哪一個皇帝時，把台灣納入版圖？(A)康熙 (B)雍正 (C)乾隆 (D)光緒。
20. (B)清帝國時期，平埔族最大的抗官事件為何者？
(A)加禮宛事件 (B)大甲西社事件 (C)大肚王事件 (D)大港口事件。


公民科題庫

1. (B)金髮碧眼的小美走在路上，大家都會認為她是外國人，但其實她是具有我國國籍的國民。關於小美國籍的取得方式，下列何者較有可能？ (A)來我國生活已超過5年 (B)與具有我國國籍的人結婚 (C)小美的爸爸在我國已居住20年 (D)參加中學同等學力認證通過。
2. (B)根據以下公告內容判斷，該單位設置的主要目的應為下列何者？

※本區原住民族教育中心公告※

感謝族人的支持，教育中心已經成立2年了，之後將秉持初衷，繼續為保存及教學多元原住民族文化而努力。今年上半年的大任務是完成部落史，請各位不吝指教，感謝大家！

- (A)協助原住民族融入社會 (B)傳承推廣原住民族文化 (C)提供族人職業訓練課程 (D)召集族人保護部落權益。
3. (A)【圖九】中，俊毅所提出的應為下列何者？
(A)權宜問題 (B)秩序問題 (C)權益問題 (D)合理問題。



【圖九】

以往女性在家庭中遭受不平等待遇，只能忍氣吞聲，因為擔心離婚後無法取得子女的親權，被迫與孩子分開，但現在法律已經修正，不再只以父權為主。

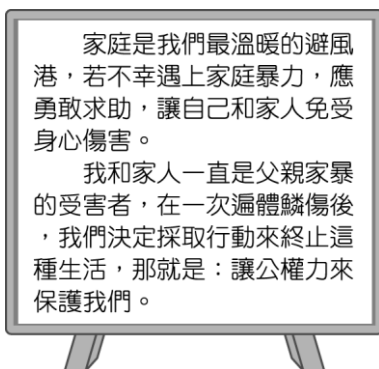
【圖十】

4. (C)【圖十】為芬瑜看到一篇介紹平權運動的文章，文章中所提及的法律應是指下列何者？(A)《中華民國憲法》 (B)《性別工作平等法》 (C)《民法》 (D)《性別平等教育法》。

5. (D)下列何者為人權保障的核心價值？
 (A)民主法治 (B)自我實現 (C)公平正義 (D)人性尊嚴。
6. (A)益玫正與同學整理上臺報告的資料，她將自己負責的部分做成投影片，內容如下所示。根據內容判斷，他所準備的主題應與下列何者最相關？

現代的家庭生活模式與傳統相比，產生許多變化，例如，現今有些夫妻選擇生一胎，甚至不生育。

- (A)家庭成員的減少 (B)工作環境的轉變 (C)重組家庭的增加 (D)女性地位的提升。
7. (A)在學校若遇到性騷擾事件，被害人或其父母、檢舉人等，可向校內哪一個單位提出申訴？ (A)學務處 (B)教務處 (C)總務處 (D)校長室。
8. (C)秀秀今年剛生下第一胎，為了能陪孩子成長，便向公司申請育嬰假，留職停薪。請問：秀秀請育嬰假是為了發揮哪一項家庭功能？ (A)生育功能 (B)消費功能 (C)保護與照顧功能 (D)經濟功能。
9. (B)宜宜因為工作的關係，帶著一雙兒女住在臺南，而丈夫的公司在臺北，無法天天南北兩地跑，迫使這家人只有在假日時才能聚在一起。請問：宜宜目前的家庭屬於下列何種型態？ (A)單親家庭 (B)兩地家庭 (C)新住民家庭 (D)重組家庭。
10. (D)許多原住民族會召開○○○○討論部落相關事項，凝聚共識，作為部落族人共同遵行的依據。請問：上述○○○○指的應是下列何者？
 (A)長老會議 (B)領袖會議 (C)歲時祭儀 (D)部落會議。
11. (D)【圖十一】為一名讀者在報上分享自身經驗的投書，根據內容，下列何者較有可能是他採取的行動之一？(A)向戶政事務所聲請保護令 (B)向法院聲請斷絕親子關係 (C)請求勞工局限制父親的工作權 (D)向法院聲請保護令。



【圖十一】



【圖十二】

12. (B)【圖十二】中的對話內容，應與下列哪一問題最相關？
 (A)隔代教養 (B)老人照護 (C)家庭暴力 (D)少子化。

13. (A)林醫生在某醫院擔任住院醫師，因身為女性常遭病患質疑其醫術，刻意挑剔、刁難，醫院擔心病患流失，於是要求林醫師自動辭職。請問：醫院的作法違反了下列何法？ (A)《性別工作平等法》 (B)《性別平等教育法》 (C)《性騷擾防治法》 (D)《公民投票法》。
14. (C)荷蘭教育文化部部长主張將身分證的性別欄移除，主要是為了解決何種問題？ (A)種族上的歧視 (B)工作上的歧視 (C)性別上的歧視 (D)職業上的歧視。
15. (D)□是聯合國於1948年發表的法規，宣示每個人享有基本人權與自由，並不受任何的歧視。上述的□是指下列何者？ (A)《性別平等教育法》 (B)《性別工作平等法》 (C)《性騷擾防治法》 (D)《世界人權宣言》。
16. (A)《憲法》保障人民婚姻自由及人人平等的權利，因此大法官於民國106年做出解釋，應修正或制定相關法律，使同性別的二人可以合法成立婚姻關係。根據上述，同性別的二人結婚後，將成為何種親屬關係？ (A)配偶 (B)姻親 (C)法定血親 (D)自然血親。
17. (D)新婚的阿清和依玲，預計明年為家裡添一個小寶寶，婚後他倆與阿清的大哥、大嫂、公婆住一起。下列相關敘述，何者正確？(甲)阿清和依玲互為配偶(乙)依玲與阿清的大嫂互為妯娌(丙)他們組成的家庭型態為折衷家庭(丁)依玲和阿清的父母是姻親 (A)甲乙丙 (B)乙丙丁 (C)甲丙丁 (D)甲乙丁。
18. (B)小凡放假時經常跟媽媽一起到家裡附近的醫院做志工服務，因而培養出他熱心服務的態度。請問：這是他的家庭發揮了哪一項功能的緣故？ (A)經濟功能 (B)教育功能 (C)生育功能 (D)保護與照顧功能。
19. (C)《民法》規定子女應孝敬父母，若子女疏於照顧父母，須負起法律責任，但碰到下列何種狀況，可請求法院免除或減輕扶養義務？ (A)子女有不服管教之狀況 (B)子女有行為不檢之情況 (C)子女有被父母家暴或遺棄等情況 (D)子女本身不願意扶養父母。
20. (A)媽媽與嬸嬸都是祖父母的媳婦，雖然不住在一起，但情同姊妹。請問：媽媽和嬸嬸互為什麼？ (A)妯娌 (B)婆媳 (C)親家 (D)連襟。